



دانلود رایگان
نمونه سوالات
پیام نور
در سایت
پی ان یو اگزام

pnuexam.com



دانشگاه پیام نور

رشته های فنی مهندسی | علوم پایه | روانشناسی | مدیریت | حقوق

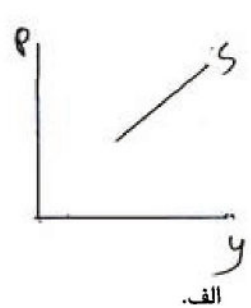
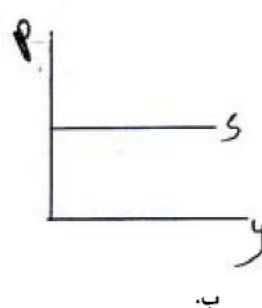
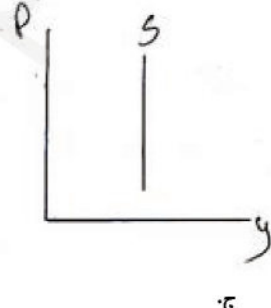



[pnuexam_com](https://t.me/pnuexam_com)

نام درس: اصول علم اقتصاد (۲) - اقتصاد کلان
 رشته تحصیلی / گد درس: ستی : (حسابداری ۱۳۲۱۰۱۹) - (جهانگردی ۱۳۲۱۰۰۳)
 (مدیریت دولتی ۱۳۲۱۰۰۶) - (تجميع: اقتصاد - حسابداری - مدیریتها - ۱۳۲۱۰۳۲)
 گد سری سوال: یک (۱) استفاده از: ماشین حساب مجاز است

امام خمینی (ره): این محرم و صفر است که اسلام را زنده نگه داشته است.

- در اقتصاد کلان ، تقسیم بندی متغیرها بر چه اساسی صورت می گیرد؟
 الف. تعریفی و رفتاری
 ج. سرمایه ای و مصرفی
 ب. یک بخشی و دوی بخشی
 د. ثابت و جاری
- منظور از خالص مالیات چیست؟
 الف. تفاوت مالیات و مخارج دولت
 ج. تفاوت مالیات و درآمد
 ب. تفاوت مالیات و پرداخت انتقالی
 د. تفاوت مالیات برگشتی از مصرف
- کدام یک از گزینه های زیر بیانگر تورم زدایی ضمن تولید ناخالص ملی می باشد؟
 الف. تولید ناخالص ملی اسمی
 ج. تولید ناخالص ملی حقیقی
 ب. تولید ناخالص ملی حقیقی
 د. شاخص قیمت
 ب. تولید ناخالص ملی اسمی
 د. شاخص قیمت
- کدام یک از گزینه های زیر در محاسبه تولید ناخالص ملی محسوب نمی شود؟
 الف. مصرف خانوارها
 ج. ساخت خانه های مسکونی
 ب. سرمایه گذاری
 د. خرید کالاهای دست دوم
- کدامیک از گزینه های زیر از روشهای محاسبه درآمد ملی نمی باشد؟
 الف. روش تولید
 ج. روش سرمایه گذاری
 ب. روش درآمد
 د. روش مخارج
- کدامیک از گزینه های زیر از اجزاء درآمد ملی نیست؟
 الف. بهره
 ج. اجاره
 ب. سود
 د. استهلاک
- نظریه تقاضای کل کلاسیک چه نامیده می شود؟
 الف. تئوری پول
 ج. تئوری بهره
 ب. نظریه اشتغال کامل
 د. نظریه مقداری پول
- کدامیک از نمودارهای زیر بیانگر منحنی عرضه کل کلاسیک ها است؟



نام درس: اصول علم اقتصاد (۲) - اقتصاد کلان
 رشته تحصیلی / گد درس: ستی : (حسابداری ۱۲۲۱۰۱۹) - (جهانگردی ۱۲۲۱۰۰۳)
 مدیریت دولتی (۱۲۲۱۰۰۶) - (تجميع: اقتصاد - حسابداری - مدیریتها - ۱۲۲۱۰۳۲)
 گد سری سوال: یک (۱) استفاده از: ماشین حساب مجاز است

۹. کدام یک از روابط زیر صحیح است؟

الف. $MPS \times MPC = 1$
 ب. $MPC - MPS = 1$
 ج. $MPS + MPC = 1$
 د. $MPS - MPC = 1$

۱۰. کدام یک از گزینه های زیر سیاست مالی انقباض می باشد؟

- الف. افزایش پرداخت های انتقالی
 ب. افزایش مخارج دولت
 ج. کاهش مالیات
 د. افزایش مالیات

۱۱. کدامیک از موارد زیر از مشخصه های عمده پول نیست؟

- الف. وسیله مبادله
 ب. واحد حساب
 ج. وسیله ذخیره ارزش
 د. دوام دادن

۱۲. در صورت افزایش عرضه پول (حجم پول) کدام عبارت صحیح است؟

- الف. منحنی IS به سمت راست انتقال می یابد.
 ب. منحنی IS به سمت چپ انتقال می یابد.
 ج. منحنی IM به سمت چپ انتقال می یابد.
 د. منحنی IM به سمت راست انتقال می یابد.

۱۳. کدام یک از گزینه های زیر، وظیفه اجرای سیاست های پولی در کشور را به عهده دارد؟

- الف. بانکهای تجاری
 ب. دولت
 ج. وزارت دارایی
 د. بانک مرکزی

۱۴. کدام یک از موارد زیر از وظایف بانک مرکزی محسوب نمی شود؟

- الف. بانکداری دولت
 ب. اجرای سیاست های پولی
 ج. انتشار اسکناس
 د. وام دادن به بخش خصوصی

۱۵. ضریب افزایش پول کدام است؟

الف. $\frac{1}{r}$
 ب. $\frac{1}{1-r}$
 ج. $\frac{1}{1+r}$
 د. $\frac{r}{1-r}$

۱۶. سود آورترین فعالیت بانکها کدام است؟

- الف. کاهش سپرده ها
 ب. نشر اسکناس
 ج. وام دهی به مشتریان
 د. افزایش ذخیره

۱۷. کدام یک از گزینه های زیر منحنی عرضه را به سمت چپ حرکت می دهد؟

- الف. افزایش صادرات
 ب. کاهش واردات
 ج. کاهش هزینه تولید
 د. افزایش هزینه های تولید

۱۸. چرا منحنی عرضه کل کینز در سطح پایین تر تولید شیب کمتری دارد؟

الف. چون اقتصاد در حالت اشتغال کامل است.

ب. چون بیکاری وجود ندارد.

ج. به دلیل عدم وجود محدودیت های تقاضا در این سطح تولید.

د. به دلیل عدم وجود محدودیت های عرضه در این سطح تولید.

کارشناسی (ستتی-تجمیع)

استان:

نام درس: اصول علم اقتصاد (۲) - اقتصاد کلان
 رشته تحصیلی/گروه درس: ستی : (حسابداری ۱۲۲۱۰۱۹) - (جهانگردی ۱۲۲۱۰۰۳)
 مدیریت دولتی (۱۲۲۱۰۰۶) - (تجمیع: اقتصاد - حسابداری - مدیریتها - ۱۲۲۱۰۳۲)
 گد سری سوال: یک (۱) استفاده از: ماشین حساب مجاز است

تعداد سوالات: تستی: ۴۰ نثری: --

زمان آزمون (فایله): تستی: ۷۰ نثری: --

۱۹. اگر مخارج دولت (G) کاهش یابد در این صورت؟

الف. منحنی IS به موازات خود به سمت چپ منتقل می شود.

ب. منحنی IS به موازات خود به سمت راست منتقل می شود.

ج. منحنی LM به موازات خود به سمت راست منتقل می شود.

د. منحنی LM به موازات خود به سمت چپ منتقل می شود.

۲۰. ضریب افزایش مخارج دولت در مدلی با مالیات ثابت و اقتصاد بسته چیست؟

الف. $\frac{1}{1-MPC}$ ب. $\frac{1}{MPC}$ ج. $\frac{1}{1-MPS}$ د. $\frac{-MPC}{MPS}$

۲۱. از نظر کلاسیک ها هنگام افزایش مخارج دولت کدام گزینه صحیح است؟

الف. افزایش مالیات برای تامین مخارج اضافی تقاضای کل را افزایش می دهد.

ب. فروش اوراق قرضه برای تامین مخارج اضافی نرخ بهره را کاهش می دهد.

ج. چاپ اسکناس برای تامین مخارج اضافی تولید را افزایش می دهد.

د. فروش اوراق قرضه برای تامین مخارج اضافی نرخ بهره را افزایش می دهد.

*با توجه به اطلاعات زیر به سوالات ۲۲ لغات ۲۸ پاسخ دهید:

$$C = 40 + 0.18y_d, \quad I = 30, \quad G = 20, \quad T = 100$$

۲۲. تابع پس انداز کدام است؟

الف. $S = -40 + 0.18y_d$ ب. $S = -40 - 0.18y_d$

ج. $S = -40 + 0.12y_d$ د. $S = -40 - 0.12y_d$

۲۳. درآمد تعادلی در اقتصاد دو بخشی چقدر است؟

الف. ۷۰ ب. ۲۸۰ ج. ۳۵۰ د. ۴۰۰

۲۴. میل نهایی به پس انداز چقدر است؟

الف. ۰/۸ ب. ۰/۲ ج. ۰/۲۵ د. ۰/۷۵

۲۵. ضریب افزایش مخارج دولت چقدر است؟

الف. ۵ ب. ۴ ج. ۱ د. ۸

۲۶. درآمد تعادلی در اقتصاد بسته چقدر می باشد؟

الف. ۵۰ ب. ۵۰۰ ج. ۸۰۰ د. ۳۵۰

۲۷. اگر بطور همزمان مالیاتها و مخارج دولت ۲۰ واحد افزایش یابد، درآمد تعادلی:

الف. ۲۰ واحد افزایش می یابد. ب. ۲۰ واحد کاهش می یابد.

ج. ۱۰۰ واحد افزایش می یابد. د. ۱۰۰ واحد کاهش می یابد.

کارشناسی (ستتی-تجميع)

استان:

نام درس: اصول علم اقتصاد (۲) - اقتصاد کلان
 رشته تحصیلی/گروه درس: ستی : (حسابداری ۱۳۳۱۰۱۹) - (جهانگردی ۱۳۳۱۰۰۳)
 مدیریت دولتی (۱۳۳۱۰۰۶) - (تجميع: اقتصاد - حسابداری - مدیریتها - ۱۳۳۱۰۳۳)
 گد سری سوال: یک (۱) استفاده از: ماشین حساب مجاز است

۲۸. ضریب افزایش مخارج در اقتصاد باز در حالتی که مالیات و واردات تابعی از درآمد است، کدام است؟

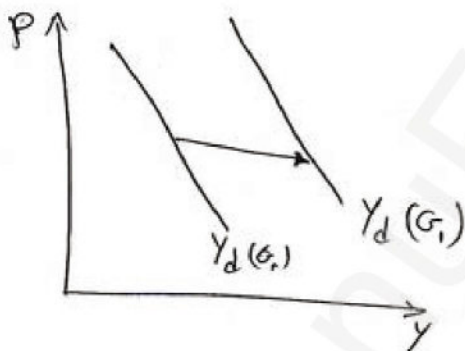
الف. $\frac{1}{1-b+bt}$
 ب. $\frac{1}{1-b+bt+m}$
 ج. $\frac{1-b}{1-b+bt}$
 د. $\frac{1}{1-b+bt+m}$

۲۹. اگر تابع پس انداز $y = 0.5 - 0.5S$ و تابع سرمایه گذاری برابر $I = 300 - 2000r$ باشد، معادله IS کدام است؟ (با فرض $I = S$)

الف. $y = 350 - 2000r$
 ب. $y = 700 - 4000r$
 ج. $y = 175 - 1000r$
 د. $y = 175 + 1000r$

۳۰. کدام یک از اقتصاددانان زیر، بیرون راندن بخش خصوصی از بازار را یک اثر جنبی نامطلوب سیاست مالی انبساطی می دانند؟

- الف. کلاسیک
 ب. کینزین ها
 ج. پول گرایان
 د. کلاسیکهای جدید



۳۱. شکل زیر بیانگر کدام یک از گزینه های زیر است؟

- الف. کاهش مخارج دولت
 ب. افزایش مخارج دولت
 ج. افزایش مالیات
 د. کاهش پرداخت های انتقالی

۳۲. نرخ بیکاری چیست؟

- الف. بیان کننده تعداد افراد بیکار به عنوان درصدی از کل نیروی کار است.
 ب. نسبت تعداد بیکاران به جمعیت فعال را نشان می دهد.
 ج. نسبت تعداد بیکاران به کل جمعیت را نشان می دهد.
 د. تمام موارد فوق

۳۳. شیب منحنی فیلپس در سطوح تولید نزدیک به سطح تولید اشتغال کامل چگونه است؟

- الف. بسیار کم
 ب. بسیار زیاد
 ج. افقی
 د. عمودی

نام درس: اصول علم اقتصاد (۲) - اقتصاد کلان
 رشته تحصیلی / گد درس: ستی : (حسابداری ۱۲۲۱۰۱۹) - (جهانگردی ۱۲۲۱۰۰۳)
 (مدیریت دولتی ۱۲۲۱۰۰۶) - (تجميع: اقتصاد - حسابداری - مدیریتها - ۱۲۲۱۰۳۲)
 گد سري سوال: يك (۱) استفاده از: ماشین حساب مجاز است.

تعداد سوالات: ستی: ۴۰ نمره: --
 زمان آزمون (هفته): ستی: ۷۰ نمره: --

۳۴. تغییر در عوامل موثر بر عرضه کل باعث چه چیزی می گردد؟
 الف. نرخ تورم و بیکاری در جهت مخالف هم حرکت کنند.
 ب. روی منحنی فیلیپس از یک نقطه به نقطه دیگر حرکت کنیم.
 ج. منحنی فیلیپس جابجا شود.
 د. هیچگونه تاثیری بر منحنی فیلیپس ندارد.
۳۵. منحنی عرضه پول گرایان شبیه منحنی عرضه کل بوده و شیب دارد.
 الف. کلاسیک ها - عمودی
 ب. کینز - مثبت
 ج. نئوکلاسیک ها - مثبت
 د. کینز - منفی
۳۶. این جمله از کیست: « تورم همیشه و در همه جایک پدیده پولی بوده و خواهد بود».
 الف. کینز
 ب. فرید من
 ج. فیلیپس
 د. آدام اسمیت
۳۷. کدام یک از فروض زیر وجه اشتراک کلاسیکها و کلاسیکهای جدید است؟
 الف. انعطاف پذیری مزد پولی
 ب. انعطاف ناپذیری مزد پولی
 ج. فقدان اطلاعات کامل درباره قیمت های بازار
 د. انعطاف ناپذیری قیمت ها
۳۸. در کدامیک از مکاتب اقتصادی زیر سیاست پولی تنها قیمت را تحت تاثیر قرار می دهد؟
 الف. پیروان کینز
 ب. پول گرایان
 ج. کلاسیکهای جدید
 د. کلاسیکها
۳۹. مهمترین ویژگی استراتژی هدف قراردادن نرخ بهره در راستای اهداف بانک مرکزی چیست؟
 الف. مصون سازی تقاضای کل از عدم ثبات
 ب. بی ثباتی در تقاضای پول
 ج. بی ثباتی در بازارهای مالی
 د. تثبیت سطح قیمت ها
۴۰. کسری بودجه ناشی از پایین تر بودن تولید واقعی از تولید بالقوه چیست؟
 الف. کسری بودجه ساختاری
 ب. کسری بودجه سالانه
 ج. کسری بودجه ادواری
 د. کسری بودجه اصطکاکی

شماره سوال	الف	ب	ج	د	پاسخ صحيح	وضعت كليلد
۱				X	د	عادي
۲	X				ب	عادي
۳	X				الف	عادي
۴				X	د	عادي
۵			X		ج	عادي
۶				X	د	عادي
۷				X	د	عادي
۸			X		ج	عادي
۹				X	ج	عادي
۱۰				X	د	عادي
۱۱				X	د	عادي
۱۲				X	د	عادي
۱۳				X	د	عادي
۱۴				X	د	عادي
۱۵	X				الف	عادي
۱۶			X		ج	عادي
۱۷			X		د	عادي
۱۸			X		د	عادي
۱۹	X				الف	عادي
۲۰		X			الف	عادي
۲۱		X			د	عادي
۲۲			X		ج	عادي
۲۳			X		ج	عادي
۲۴		X			ب	عادي
۲۵	X				الف	عادي
۲۶	X				الف	عادي
۲۷	X				الف	عادي
۲۸		X			ب	عادي
۲۹		X			ب	عادي
۳۰		X			ب	عادي
۳۱		X			ب	عادي
۳۲	X				الف	عادي
۳۳				X	ب	عادي
۳۴	X				ج	عادي
۳۵				X	ب	عادي
۳۶			X		ب	عادي
۳۷	X				الف	عادي
۳۸			X		د	عادي
۳۹				X	الف	عادي
۴۰		X			ج	عادي

کارشناسی (استی، تجميع)

استان:

نام درس: اقتصاد کلان - اصول علم اقتصاد (۳)
 رشته تحصیلی / گد درس: مدیریت دولتی (ستی): ۱۲۲۱۰۰۶ - حسابداری (ستی): ۱۲۲۱۰۱۹
 جهانگردی (ستی): ۱۲۲۱۰۰۳ - اقتصاد - مدیریت دولتی - مدیریت بازرگانی - مدیریت صنعتی - حسابداری - مدیریت جهانگردی (تجميع): ۱۲۲۱۰۳۲
 گد سری سؤال: یک (۱) استفاده از: --- مجاز است

تنها با یاد اوست که دل‌ها آرام می‌گیرد.

۱. آقای اکبری تلویزیونی به مبلغ ۸۰۰/۰۰۰ تومان خریداری کرده است. پول خرید تلویزیون جزء کدامیک از مخارج زیر است؟

الف. مخارج مصرفی بی دوام

ب. مخارج سرمایه‌گذاری

ج. مخارج مصرفی با دوام

د. مخارج پس انداز

۲. با توجه به اطلاعات زیر تولید خالص ملی چقدر است؟

مخارج مصرفی = ۴۰۰

مخارج دولت = ۱۲۰

سرمایه‌گذاری = ۶۰

استهلاک = ۴۰

خالص درآمد عوامل تولید از خارج = ۲۰

الف. ۵۸۰

ب. ۵۴۰

ج. ۶۰۰

د. ۵۶۰

۳. تفاوت بین تولید ناخالص ملی و تولید ناخالص داخلی کدام است؟

الف. مالیاتهای غیر مستقیم

ب. هزینه استهلاک سرمایه

ج. مجموع مالیاتهای مستقیم و غیر مستقیم

د. خالص درآمد عوامل تولید از خارج

۴. کدامیک از گزینه‌های زیر در مورد سرعت گردش پول (V) در اقتصاد صحیح نمی‌باشد؟

الف. V تعداد دفعاتی است که از پول به عنوان وسیله مبادله در یک فاصله زمانی خاص استفاده می‌شود.

ب. در اقتصاد کلاسیک و در تحلیل‌های بلندمدت می‌توان V را ثابت در نظر گرفت.

ج. V نسبت ارزش پولی (اسمی) تولید ناخالص ملی به حجم پول در جریان است.

د. استفاده بیشتر از کارت‌های اعتباری V را افزایش می‌دهد.

۵. کدامیک از گزینه‌های زیر صحیح است؟

الف. $MPC - MPS = 1$

ب. $MPC = MPS$

ج. $MPS - MPC = 1$

د. $MPC + MPS = 1$

۶. در صورتی که تابع مصرف به شکل $C = 50 + 0.8Y$ و سرمایه‌گذاری مستقل ۲۵۰ واحد باشد، درآمد ملی تعادلی چقدر است؟

الف. ۲۰۰۰

ب. ۱۵۰۰

ج. ۲۵۰۰

د. ۳۰۰۰

۷. در مدل چهار بخشی (اقتصاد باز) افزایش صادرات منجر به:

الف. کاهش درآمد ملی کشور صادر کننده می‌شود.

ب. افزایش درآمد ملی کشور صادر کننده می‌شود.

ج. افزایش درآمد ملی کشور وارد کننده می‌شود.

د. تأثیری بر درآمد ملی کشور وارد کننده ندارد.

۸. نرخي که ارزش فعلی خالص طرح را برابر صفر می‌کند، چه نامیده می‌شود؟

الف. نرخ بهره

ب. نرخ تورم

ج. نرخ تنزیل مجدد

د. نرخ بازده درونی سرمایه

کارشناسی (استی، تجميع)

استان:

نام درس: اقتصاد کلان - اصول علم اقتصاد (۳)
 رشته تحصیلی / گد درس: مدیریت دولتی (ستی): ۱۳۳۱۰۰۶ - حسابداری (ستی): ۱۳۳۱۰۱۹
 جهانگردی (ستی): ۱۳۳۱۰۰۳ - اقتصاد - مدیریت دولتی - مدیریت بازرگانی - مدیریت صنعتی - حسابداری - مدیریت جهانگردی (تجميع): ۱۳۳۱۰۳۲
 گد سری سوال: یک (۱) استفاده از: --- مجاز است.

۹. اگر $T = G = ۲۴$ ، $I = ۲۵۰ - ۲۰۰۰r$ ، $C = ۶۰ + ۰.۷۵Y_d$ باشد معادله IS کدام است؟

الف. $Y = ۱۲۶۴ + ۸۰۰۰r$

ب. $Y = ۱۲۶۴ - ۸۰۰۰r$

ج. $Y = ۴۶۴ + ۲۰۰۰r$

د. $Y = ۴۶۴ - ۲۰۰۰r$

۱۰. اگر مخارج دولت افزایش پیدا کند:

الف. منحنی IS به صورت موازی به سمت راست جابجا می شود.

ب. منحنی IS به صورت موازی به سمت چپ جابجا می شود.

ج. منحنی LM به صورت موازی به سمت راست جابجا می شود.

د. منحنی LM به صورت موازی به سمت چپ جابجا می شود.

۱۱. در صورتیکه دولت سیاست پولی انبساطی و سیاست مالی انقباضی را توأما انجام دهد، با توجه به مدل $IS - LM$ کدام گزینه صحیح است؟

الف. نرخ بهره تعادلی کاهش می یابد و درآمد ملی تعادلی افزایش می یابد.

ب. نرخ بهره تعادلی کاهش می یابد و تغییر در درآمد ملی تعادلی مشخص نیست.

ج. تغییر در نرخ بهره افزایش می یابد و درآمد ملی تعادلی افزایش می یابد.

د. نرخ بهره تعادلی کاهش می یابد و درآمد ملی تعادلی کاهش می یابد.

۱۲. در صورتی که عرضه پول افزایش پیدا کند:

الف. منحنی LM به سمت راست جابجا می شود.

ب. منحنی LM به سمت چپ جابجا می شود.

ج. بر روی منحنی LM به سمت بالا حرکت می کنیم.

د. بر روی منحنی LM به سمت پایین حرکت می کنیم.

۱۳. اگر ضریب افزایش سپرده برابر ۴ باشد و ذخایر بانک ۲۰۰۰۰ واحد پولی افزایش یابند، سپرده ها چقدر و در چه جهتی تغییر خواهند کرد؟

الف. ۸۰/۰۰۰، کاهش

ب. ۸۰/۰۰۰، افزایش

ج. ۵۰/۰۰۰، کاهش

د. ۵۰/۰۰۰، افزایش

۱۴. ذخایر ثانویه بانکها دارای کدامیک از ویژگی های زیر نیستند؟

الف. مقدار زیاد

ب. کیفیت بالا

ج. بازار وسیع

د. سررسید کوتاه

۱۵. عملیات بازار باز یعنی:

الف. افزایش یا کاهش وامهای بانک مرکزی به بانکهای تجاری برای کنترل حجم پول در اقتصاد

ب. خرید و فروش اوراق بهادار دولتی برای کنترل حجم پول در اقتصاد

ج. افزایش یا کاهش نرخ ذخیره قانونی برای کنترل حجم پول در اقتصاد

د. ثبات بخشیدن به نظام بانکی و کنترل تورم

کارشناسی (ستتی، تجميع)

استان:

نام درس: اقتصاد کلان - اصول علم اقتصاد (۲)
 رشته تحصیلی / گد درس: مدیریت دولتی (ستتی): ۱۳۳۱۰۰۶ - حسابداری (ستتی): ۱۳۳۱۰۱۹
 جهانگردی (ستتی): ۱۳۳۱۰۰۳ - اقتصاد - مدیریت دولتی - مدیریت بازرگانی - مدیریت صنعتی - حسابداری - مدیریت جهانگردی (تجميع): ۱۳۳۱۰۳۲
 گد سری سؤال: یک (۱) استفاده از: --- مجاز است

۱۶. با توجه به نظریه کینز، چه عاملی باعث می‌شود دستمزدها کمتر از سطح عمومی قیمت‌ها تغییر یابند؟
- الف. انعطاف‌پذیری قیمت‌ها و دستمزد موجب می‌شود که قیمت‌ها بیشتر تغییر کنند.
 ب. وجود اطلاعات ناقص در بازار موجب می‌شود که قیمت‌ها کمتر از دستمزد تغییر پیدا کنند.
 ج. وجود اطلاعات کامل در بازار موجب می‌شود که قیمت‌ها شدیداً افزایش یا کاهش پیدا کنند.
 د. انعطاف‌ناپذیری (چسبندگی) دستمزد موجب می‌شود که دستمزد نتواند متناسب با قیمت‌ها تغییر کند.
۱۷. اگر مخارج دولت افزایش پیدا کند و دولت برای جبران از طریق بانک مرکزی اقدام به چاپ اسکناس نماید در آن صورت:
- الف. منحنی IS به سمت راست منتقل می‌شود. ب. منحنی LM به سمت راست منتقل می‌شود.
 ج. منحنی تقاضای کل به سمت راست منتقل می‌شود. د. همه موارد صحیح است.
۱۸. برای کاهش کدام شکل از بیکاری می‌بایست نوسانهای شدید در سطح فعالیت‌های اقتصادی را از بین برد؟
- الف. بیکاری اصطکاکی ب. بیکاری ساختاری
 ج. بیکاری ادواری د. بیکاری پنهان
۱۹. کدام گزینه زیر از ابزارهای سیاست پولی به حساب می‌آیند؟
- الف. نرخ بهره - مخارج دولت ب. مالیات - نرخ بهره
 ج. نرخ بهره - نرخ ذخیره قانونی د. مالیات - مخارج دولت
۲۰. اگر در یک اقتصاد ساده دو بخشی، میل نهایی به پس انداز برابر $۰/۲۵$ و مصرف مستقل برابر ۲۰۰ باشد تابع پس انداز کدام گزینه است؟
- الف. $S = -۲۰۰ + ۰/۲۵ y$ ب. $S = ۲۰۰ + ۰/۲۵ y$
 ج. $S = -۲۰۰ + ۰/۷۵ y$ د. $S = ۲۰۰ + ۰/۷۵ y$
۲۱. اگر همزمان مالیات‌ها و مخارج دولت به یک اندازه و به میزان ۵۰ واحد پولی افزایش یابد، درآمد ملی تعادلی چه تغییری خواهد کرد؟ ($MPC = ۰/۸$)
- الف. ۵۰ واحد پولی افزایش می‌یابد. ب. ۵۰ واحد پولی کاهش می‌یابد.
 ج. ۲۵۰ واحد پولی افزایش می‌یابد. د. ۲۵۰ واحد پولی کاهش می‌یابد.
۲۲. جریان نشت (هرز) در اقتصاد سه بخشی کدام است؟
- الف. $I + S$ ب. $I + G$
 ج. $S + T$ د. $S + T + M$
۲۳. کسری بودجه‌ای که ناشی از رکود اقتصادی یا کاهش فعالیت‌های اقتصادی باشد چه نامیده می‌شود؟
- الف. کسری بودجه نهادی ب. کسری بودجه ادواری
 ج. کسری بودجه ساختاری د. کسری بودجه اصطکاکی



کارشناسی (ستتی، تجميع)

استان:

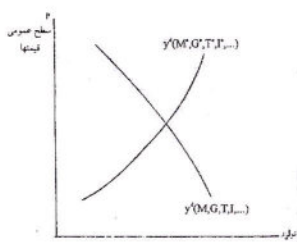
نام درس: اقتصاد کلان - اصول علم اقتصاد (۳)
 رشته تحصیلی / گد درس: مدیریت دولتی (ستتی): ۱۲۲۱۰۰۶ - حسابداری (ستتی): ۱۲۲۱۰۱۹
 جهانگردی (ستتی): ۱۲۲۱۰۰۳ - اقتصاد - مدیریت دولتی - مدیریت بازرگانی - مدیریت صنعتی - حسابداری - مدیریت جهانگردی (تجميع): ۱۲۲۱۰۳۲
 گد سری سوال: یک (۱) استفاده از: --- مجاز است

۲۴. اگر بانک مرکزی بخواهد عرضه پول را افزایش دهد باید:
- الف. نرخ ذخیره قانونی را کاهش دهد.
 ب. نرخ تنزیل مجدد را افزایش می‌دهد.
 ج. مالیات‌ها را افزایش می‌دهد.
 د. قدرت وام‌دهی بانکهای تجاری را کاهش می‌دهد.
۲۵. از نظر پیروان کینز کدامیک از اهداف سیاسی مالی نیمی باشد؟
- الف. تخصیص ب. توزیع ج. تنزیل د. تثبیت
۲۶. در دیدگاه کلاسیک‌ها چنانچه سرعت گردش پول ۱۵ و حجم پول در اقتصاد ۸۰۰ میلیارد ریال باشد، تولید ناخالص ملی اسمی (GNP) برابر است با:
- الف. ۱۲۰۰۰ ب. ۱۰۰۰۰ ج. ۱۵۰۰۰ د. ۸۰۰۰
۲۷. کدامیک از موارد نشان دهنده اتخاذ سیاست مالی انبساطی است؟
- الف. کاهش پرداخت‌های انتقالی
 ج. افزایش مخارج دولتی
 ب. افزایش مالیات‌ها
 د. کاهش سرمایه‌گذاری
۲۸. منحنی IS، مفهوم
- الف. تعادل سرمایه‌گذاری برنامه‌ریزی شده و پس‌انداز است که ارتباط منفی بین سرمایه‌گذاری و سطح درآمد را بیان می‌کند.
 ب. تعادل در بازار کالا است که ارتباط منفی بین نرخ بهره و سطح درآمد تعادلی را بیان می‌کند.
 ج. برابری پس‌انداز و سرمایه‌گذاری است که ارتباط مثبت بین نرخ بهره و سطح درآمد را بیان می‌کند.
 د. تعادل در بازار کالا است که هیچ رابطه‌ای با نرخ بهره و سطح درآمد ندارد.
۲۹. چنانچه بانک مرکزی جهت مقابله با تورم به فروش اوراق قرضه دولتی مبادرت ورزد، این عمل چه سیاستی نامیده می‌شود؟
- الف. سیاست مالی انبساطی
 ج. سیاست پولی انقباضی
 ب. سیاست مالی انقباضی
 د. سیاست پولی انقباضی
۳۰. انتظارات تورمی چه تأثیری بر روی منحنی فیلیپس در کوتاه مدت دارد؟
- الف. باعث انتقال منحنی به سمت پایین و چپ می‌گردد.
 ب. باعث انتقال منحنی به سمت بالا و راست می‌گردد.
 ج. باعث حرکت بر روی منحنی به سمت بالا می‌گردد.
 د. تغییری در منحنی ایجاد نخواهد کرد.
۳۱. کدامیک از اقتصاددانان معتقد است در بلندمدت اگر دولت در اقتصاد مداخله نکند اقتصاد به سمت نرخ‌های طبیعی تولید و بیکاری حرکت خواهد کرد و بخش خصوصی در اقتصاد ضربه‌گیر یا خود متعادل کننده می‌باشد؟
- الف. اسمیت ب. فریدمن ج. لوکاس د. کینز

نام درس: اقتصاد کلان - اصول علم اقتصاد (۳)
 رشته تحصیلی / گد درس: مدیریت دولتی (ستتی): ۱۲۲۱۰۰۶ - حسابداری (ستتی): ۱۲۲۱۰۱۹
 جهانگردی (ستتی): ۱۲۲۱۰۰۳ - اقتصاد - مدیریت دولتی - مدیریت بازرگانی - مدیریت صنعتی - حسابداری - مدیریت جهانگردی (تجميع): ۱۲۲۱۰۳۲
 گد سری سوال: یک (۱) استفاده از: --- مجاز است

۳۲. هنگامیکه رابطه بین پول و تولید ناخالص ملی باثبات باشد کدام استراتژی جهت اجرای سیاست پولی مطلوبتر است؟

- الف. استراتژی هدف قرار دادن نرخ بهره
 ج. استراتژی انتظارات منقی
 ب. استراتژی هدف قرار دادن سطح اعتبارات
 د. استراتژی هدف قرار دادن غیر مستقیم عرضه پول



۳۳. نمودار روبرو مربوط به کدام گروه از اقتصاددانان می باشد؟

- الف. پیروان کینز
 ب. پول گرایان
 ج. کلاسیکها
 د. کلاسیکهای جدید

۳۴. در بازار کار کلاسیکها چنانچه سطح قیمتها به دو برابر افزایش یافته و دستمزد اسمی ثابت باشد چه تغییری در دستمزد حقیقی و وضعیت تعادل ایجاد خواهد شد؟

- الف. دستمزد حقیقی به دو برابر افزایش یافته و در اقتصاد مازاد تقاضا ایجاد خواهد شد.
 ب. دستمزد حقیقی به نصف کاهش یافته و در اقتصاد مازاد عرضه ایجاد خواهد شد.
 ج. دستمزد حقیقی به نصف کاهش یافته و در اقتصاد مازاد تقاضا ایجاد خواهد شد.
 د. دستمزد حقیقی به دو برابر افزایش یافته و در اقتصاد مازاد عرضه ایجاد خواهد شد.

۳۵. کدام روش جزو روشهای محاسبه GNP نمی باشد؟

- الف. توزیع ب. مخارج ج. درآمد د. تولید

۳۶. کدام روش محاسبه GNP « ارزش افزوده » نیز نامیده می شود؟

- الف. توزیع ب. مخارج ج. درآمد د. تولید

۳۷. سرمایه گذاری شامل کدامیک از اقلام زیر نیست؟

- الف. خرید ماشین آلات و تجهیزات
 ج. افزایش موجودی انبار
 ب. خرید سکه بهار آزادی
 د. ساختمان واحدهای مسکونی

۳۸. از نظر کلاسیکها، منحنی عرضه کل چه شکلی است؟

- الف. صعودی ب. نزولی ج. عمودی د. افقی

۳۹. اگر میل نهایی به مصرف برابر $1/2$ باشد، ضریب افزایش مالیاتها چند است؟

- الف. $1/25$ ب. $1/5$ ج. $1/75$ د. 1

۴۰. اگر سرمایه گذاری در کشوری ۲۰۰ واحد افزایش یابد، درآمد ملی چه تغییری می کند با فرض اینکه $MPS = 1/5$ باشد؟

- الف. ۴۰۰ واحد افزایش می یابد.
 ج. ۱۰۰ واحد افزایش می یابد.
 ب. ۴۰۰ واحد کاهش می یابد.
 د. ۱۰۰ واحد کاهش می یابد.

نیمسال دوم ۹۰-۸۹

شماره سوال	پاسخ صحیح				وضعیت کلید
	د	ج	ب	الف	
۱				X	عادی
۲		X			عادی
۳			X		عادی
۴			X		عادی
۵				X	عادی
۶			X		عادی
۷			X		عادی
۸				X	عادی
۹					عادی
۱۰	X				عادی
۱۱			X		عادی
۱۲			X		عادی
۱۳			X		عادی
۱۴	X				عادی
۱۵	X				عادی
۱۶				X	عادی
۱۷				X	عادی
۱۸			X		عادی
۱۹			X		عادی
۲۰	X				عادی
۲۱	X				عادی
۲۲				X	عادی
۲۳			X		عادی
۲۴	X				عادی
۲۵			X		عادی
۲۶	X				عادی
۲۷			X		عادی
۲۸			X		عادی
۲۹			X		عادی
۳۰			X		عادی
۳۱			X		عادی
۳۲	X				عادی
۳۳	X				عادی
۳۴				X	عادی
۳۵	X				عادی
۳۶				X	عادی
۳۷			X		عادی
۳۸			X		عادی
۳۹	X				عادی
۴۰	X				عادی



تعداد سؤالات: نسی: ۴۰ نثری: --

زمان آزمون (دقیقه): نسی: ۹۰ نثری: --

نام درس: اقتصاد کلان- اصول علم اقتصاد (۲)

رشته تحصیلی/ کُد درس: اقتصاد (۱۲۲۱۰۳۲) - حسابداری (۱۲۲۱۰۱۹) - مدیریت دولتی (۱۲۲۱۰۰۶) - مدیریت جهانگردی (۱۲۲۱۰۰۳) -

مدیریت بازرگانی (۱۲۲۱۰۲۷) - مدیریت صنعتی (۱۲۲۱۰۱۲) - تجمیع (اقتصاد- حسابداری - کلیه مدیریتها): ۱۲۲۱۰۳۲

مجاز است

استفاده از: --

۱. در محاسبه تولید ناخالص ملی، به منظور جلوگیری از احتساب مضاعف می توان یکی از اعمال زیر را انجام داد.

الف. فقط ارزش کالاهای واسطه ای را به حساب آورد.

ب. ارزش کالاهای نهایی و واسطه ای را به حساب آورد.

ج. فقط ارزش کالاهای نهایی را به حساب آورد.

د. تمامی معاملات و مبادلات را به حساب آورد.

۲. کدامیک از موارد نشان دهنده تولید ناخالص داخلی است؟

الف. خالص درآمد عوامل تولید از خارج+تولید ناخالص ملی= تولید ناخالص داخلی

ب. خالص درآمد عوامل تولید از خارج- تولید ناخالص ملی=تولید ناخالص داخلی

ج. درآمد ناخالص ملی+تولید ناخالص ملی= تولید ناخالص داخلی

د. خالص درآمد عوامل تولید از خارج+درآمد ملی= تولید ناخالص داخلی

۳. کدامیک از موارد زیر جزئی از تولید ناخالص ملی نیست؟

الف. مخارج دولتی ب. مصرف ج. سرمایه گذاری د. پس انداز

۴. کدامیک از موارد زیر از اجزای درآمد ملی می باشد؟

الف. حقوق و دستمزد+اجاره+بهره+درآمد ناشی از اموال+سود بنگاهها+پرداخت های انتقالی

ب. حقوق و دستمزد+اجاره+بهره+ مالیات های غیر مستقیم +درآمد ناشی از اموال+سود بنگاهها

ج. استهلاک +حقوق و دستمزد+اجاره+بهره+درآمد ناشی از اموال+سود بنگاهها

د. حقوق و دستمزد+اجاره+بهره+درآمد ناشی از اموال+سود بنگاهها

۵. در بازار کار کلاسیک ها چنانچه سطح قیمت ها به دو برابر افزایش یافته و دستمزد اسمی ثابت باشد چه تغییری در دستمزد حقیقی و وضعیت تعادل ایجاد خواهد شد؟

الف. دستمزد حقیقی به دو برابر افزایش یافته و در اقتصاد مازاد عرضه ایجاد خواهد شد.

ب. دستمزد حقیقی به نصف کاهش یافته و در اقتصاد مازاد عرضه ایجاد خواهد شد.

ج. دستمزد حقیقی به نصف کاهش یافته و در اقتصاد مازاد تقاضا ایجاد خواهد شد.

د. دستمزد حقیقی به دو برابر افزایش یافته و در اقتصاد مازاد تقاضا ایجاد خواهد شد.

۶. در دیدگاه کلاسیک ها چنانچه سرعت گردش پول ۱۵ و حجم پول در اقتصاد ۸۰۰ میلیارد ریال باشد تولید ناخالص ملی (GNP) برابر است با:

الف. ۱۰۰۰۰ ب. ۱۲۰۰۰ ج. ۸۰۰۰ د. ۱۵۰۰۰

۷. از دیدگاه کلاسیک ها کدامیک از موارد در تامین مالی افزایش مخارج دولتی تاثیر داشته و منجر به افزایش تقاضای کل در اقتصاد می شود؟

الف. چاپ اسکناس ب. فروش اوراق قرضه ج. کاهش مالیات ها د. افزایش مالیات ها



تعداد سؤالات: نسی: ۴۰ نثری: --

زمان آزمون (دقیقه): نسی: ۹۰ نثری: --

نام درس: اقتصاد کلان- اصول علم اقتصاد (۲)

رشته تحصیلی/ کد درس: اقتصاد (۱۲۲۱۰۳۲) - حسابداری (۱۲۲۱۰۱۹) - مدیریت دولتی (۱۲۲۱۰۰۶) - مدیریت جهانگردی (۱۲۲۱۰۰۳) -

مدیریت بازرگانی (۱۲۲۱۰۲۷) - مدیریت صنعتی (۱۲۲۱۰۱۲) - تجمیع (اقتصاد-حسابداری - کلیه مدیریتها): ۱۲۲۱۰۳۲

استفاده از:

مجاز است

۸. اگر در یک اقتصاد ساده دو بخشی ضریب افزایش برابر ۴ و مصرف مستقل ۲۰۰ باشد تابع پس انداز کدامیک از موارد زیر خواهد بود؟

الف. $S = -200 + 0.25Y$

ب. $S = -100 + 0.25Y$

ج. $S = -200 + 0.75Y$

د. $S = -100 + 0.75Y$

۹. در محاسبه تعادل در اقتصاد دو بخشی کینزی، کدامیک از متغیرهای زیر به صورت مخارج غیر مستقل در نظر گرفته می شود؟

الف. مالیات ب. مخارج دولتی ج. سرمایه گذاری د. مصرف

۱۰. در یک مدل ساده دو بخشی که میل نهایی به مصرف $MPC = 0.8$ است چنانچه در حالت بودجه متعادل مخارج دولتی و مالیات ها همزمان ۵۰ واحد کاهش یابند درآمد تعادلی چه تغییری خواهد نمود؟

الف. تغییری نمی کند. ب. ۵۰ واحد کاهش می یابد.

ج. ۵۰ واحد افزایش می یابد. د. ۴۰ واحد کاهش می یابد.

۱۱. چنانچه میل نهایی به مصرف برابر با ۰/۸ و سطح درآمد در حالت تعادل اولیه برابر با ۱۰۰ باشد ($Y^* = 100$) در این صورت با افزایش ۱۰ واحد سرمایه گذاری، سطح درآمد ملی در حالت تعادل جدید برابر خواهد بود با:

الف. ۱۲۰ ب. ۱۱۰ ج. ۱۸۰ د. ۱۵۰

۱۲. در اقتصاد سه بخشی سمت چپ محل تقاطع خط 45° و تابع مخارج Y^d کدام رابطه زیر برقرار است؟

الف. $C+I+G > C+S+T$

ب. $I+G = S+T$

ج. $C+I+G < C+S+T$

د. $I+G < S+T$

۱۳. در یک اقتصاد چهار بخشی کدامیک از روابط، جریان تراوشات را در اقتصاد نشان می دهد؟

الف. $C+I+G+T$ ب. $C+I+G+X$ ج. $C+S+T+M$ د. $C+S+I+G$

۱۴. در یک مدل دو بخشی دارای اضافه تقاضا و سرمایه گذاری برون زا و مستقل (سمت چپ تقاطع خط 45° و خط Y^d) کدامیک از موارد زیر به دنبال افزایش درآمد ملی، تعادل را برقرار می کند؟

الف. افزایش G ب. افزایش I ج. کاهش S د. افزایش S

۱۵. کدامیک از موارد ضریب فزاینده مالیات های مستقل در اقتصاد سه بخشی را نشان می دهد؟

الف. $\frac{MPC \Delta Y}{MPS \Delta T_0}$

ب. $\frac{MPC \Delta Y}{1 - MPC \Delta T_0}$

ج. $\frac{1 \Delta Y}{1 - MPC \Delta T_0}$

د. $\frac{-MPC \Delta Y}{1 - MPC \Delta T_0}$

۱۶. کدامیک از موارد نشان دهنده اتخاذ سیاست مالی انبساطی است؟

الف. کاهش پرداخت های انتقالی

ب. افزایش مالیات ها

ج. کاهش سرمایه گذاری

د. افزایش مخارج دولتی



تعداد سوالات: نسی: ۴۰ نثری: --

زمان آزمون (دقیقه): نسی: ۹۰ نثری: --

نام درس: اقتصاد کلان - اصول علم اقتصاد (۲)

رشته تحصیلی / کد درس: اقتصاد (۱۲۲۱۰۳۲) - حسابداری (۱۲۲۱۰۱۹) - مدیریت دولتی (۱۲۲۱۰۰۶) - مدیریت جهانگردی (۱۲۲۱۰۰۳) -

مدیریت بازرگانی (۱۲۲۱۰۲۷) - مدیریت صنعتی (۱۲۲۱۰۱۲) - تجمیع (اقتصاد - حسابداری - کلیه مدیریتها): ۱۲۲۱۰۳۲

مجاز است

استفاده از:

۱۷. در اقتصاد چهار بخشی (اقتصاد باز) کدامیک از روابط نشان دهنده ضریب افزایش واردات مستقل است؟

$$\frac{\Delta Y}{\Delta m^o} = \frac{-1}{1-b+bt+m}$$

$$\frac{\Delta Y}{\Delta m^o} = \frac{-b}{1-b+bt+m}$$

$$\frac{\Delta Y}{\Delta m^o} = \frac{1}{1-b+bt+m}$$

$$\frac{\Delta Y}{\Delta m^o} = \frac{-1}{1-b+bt}$$

۱۸. اگر MEC بازدهی نهایی سرمایه و r نرخ بهره باشد در کدامیک از حالت ها سرمایه گذار اقدام به سرمایه گذاری می کند؟

الف. در صورتی که $MEC > r$ باشد و $\Delta K = I > 0$

ب. در صورتی که $MEC = r$ باشد و $\Delta K = I = 0$

ج. در صورتی که $MEC < r$ باشد و $\Delta K = I < 0$

د. در صورتی که $MEC > r$ باشد و $\Delta K = I < 0$

۱۹. در محل تقاطع منحنی های IS و LM کدام رابطه صحیح نمی باشد؟

ب. عرضه پول = تقاضای پول

د. تراوشات = تزریقات

الف. عرضه کل = تقاضای کل

ج. خالص مالیات = مخارج دولتی

۲۰. منحنی IS به مفهوم ...

الف. تعادل در بازار کالا است که هیچ رابطه ای با نرخ بهره و سطح درآمد ندارد.

ب. برابری پس انداز و سرمایه گذاری است که ارتباط مثبت بین نرخ بهره و سطح درآمد را بیان می کند.

ج. تعادل سرمایه گذاری برنامه ریزی شده و پس انداز است که ارتباط منفی بین سرمایه گذاری و سطح درآمد را بیان می کند.

د. تعادل در بازار کالا است که ارتباط منفی بین نرخ بهره و سطح درآمد تعادلی را بیان می کند.

۲۱. کدامیک از جملات صحیح نمی باشد؟

الف. نقدینگی بخش خصوصی برابر است با پول به علاوه سپرده های پس انداز مدت دار بخش خصوصی نزد بانک های تجاری و تخصصی

ب. بانک های مرکزی مؤسسات دولتی هستند که بازارهای مالی را تنظیم کرده و سیاست پولی را اجرا می کنند.

ج. از نظر کلاسیک ها نرخ بهره رابطه اصلی بین تغییر در عرضه پول و سطح تقاضای کل است.

د. چنانچه عرضه پول افزایش یابد نرخ بهره کاهش می یابد.

۲۲. چنانچه تقاضای پول به صورت $\frac{M^d}{p} = 0.2Y$ و عرضه حقیقی پول $\frac{M^s}{p} = 200$ باشد درآمد ملی تعادلی مساوی است با:

ب. ۴۰۰

الف. ۵۰۰

د. با اطلاعات فوق نمی توان درآمد ملی را تعیین کرد.

ج. ۱۰۰۰

۲۳. چنانچه دولت جهت مقابله با تورم به فروش اوراق قرضه دولتی مبادرت ورزد این عمل چه سیاستی نامیده می شود؟

ب. سیاست پولی انقباضی

د. سیاست مالی انقباضی

الف. سیاست مالی انقباضی

ج. سیاست پولی انقباضی



تعداد سؤالات: نسی: ۴۰ نثری: --

زمان آزمون (دقیقه): نسی: ۹۰ نثری: --

نام درس: اقتصاد کلان- اصول علم اقتصاد (۲)

رشته تحصیلی/ کُد درس: اقتصاد (۱۲۲۱۰۳۲) - حسابداری (۱۲۲۱۰۱۹) - مدیریت دولتی (۱۲۲۱۰۰۶) - مدیریت جهانگردی (۱۲۲۱۰۰۳) -

مدیریت بازرگانی (۱۲۲۱۰۲۷) - مدیریت صنعتی (۱۲۲۱۰۱۲) - تجمیع (اقتصاد-حسابداری - کلیه مدیریتها): ۱۲۲۱۰۳۲

استفاده از:

مجاز است

۲۴. کدامیک از موارد، از هدف های اصلی سیاست پولی که توسط بانک مرکزی اجرا می شود نمی باشد؟

- الف. کاهش ارزش خارجی پول
ب. تعادل در تراز پرداخت های خارجی
ج. افزایش نرخ رشد اقتصادی
د. حفظ اشتغال کامل

۲۵. کدامیک از سیاست های تثبیت اقتصادی منجر به انتقال منحنی تقاضای کل اقتصاد کینزی به سمت چپ می گردد؟

- الف. افزایش مخارج دولتی
ب. افزایش مالیات ها
ج. افزایش سرمایه گذاری
د. افزایش عرضه پول

۲۶. در تعادل اقتصاد کلان کینزی (تعادل عرضه و تقاضای اقتصاد)، اتخاذ سیاست مالی انبساطی در کدامیک از قسمت های منحنی عرضه کل، منجر به افزایش تولید و عدم تغییر قیمت ها خواهد شد؟

- الف. قسمت افقی منحنی عرضه کل کینزی
ب. قسمت نزولی منحنی عرضه کل کینزی
ج. قسمت عمودی منحنی عرضه کل کینزی
د. قسمت صعودی منحنی عرضه کل کینزی

۲۷. از نظر کینز کدامیک از عوامل منجر به انتقال منحنی عرضه کل اقتصاد به سمت راست و پائین می گردد؟

- الف. کاهش انتظارات تورمی
ب. شوک های عرضه نا مطلوب
ج. افزایش قیمت مواد خام و انرژی
د. افزایش انتظارات تورمی

۲۸. بیکاری که ناشی از نوسان در فعالیت های اقتصادی شود چه نامیده می شود؟

- الف. بیکاری ساختاری
ب. بیکاری ادواری
ج. بیکاری فصلی
د. بیکاری اصطلاحی

۲۹. تورم در بازار مالی باعث انتقال درآمد و ثروت از ... به ... و در بازار کار باعث انتقال درآمد و ثروت از ... به ... می گردد.

- الف. وام دهندگان، وام گیرندگان، کارگران، کارفرمایان
ب. وام گیرندگان، کارگران، وام دهندگان، کارفرمایان
ج. کارگران، وام دهندگان، وام گیرندگان، کارفرمایان
د. کارفرمایان، کارگران، وام گیرندگان، وام دهندگان

۳۰. انتظارات تورمی چه تأثیری بر روی منحنی فیلیپس در کوتاه مدت دارد؟

- الف. باعث انتقال منحنی به سمت پائین و چپ می گردد.
ب. باعث انتقال منحنی به سمت بالا و راست می گردد.
ج. باعث حرکت بر روی منحنی به سمت بالا می گردد.
د. تغییری در منحنی ایجاد نخواهد کرد.

۳۱. کدامیک از اقتصاددانان معتقد هستند در بلندمدت اگر دولت در اقتصاد مداخله نکند اقتصاد به سمت نرخ های طبیعی تولید و بیکاری حرکت خواهد کرد و بخش خصوصی در اقتصاد ضربه گیر یا خود متعادل کننده می باشد؟

- الف. لوکاس
ب. کینز
ج. فریدمن
د. اسمیت



تعداد سؤالات: نسی: ۴۰ نثری: --

زمان آزمون (دقیقه): نسی: ۹۰ نثری: --

نام درس: اقتصاد کلان- اصول علم اقتصاد (۲)

رشته تحصیلی/ کُد درس: اقتصاد (۱۲۲۱۰۳۲) - حسابداری (۱۲۲۱۰۱۹) - مدیریت دولتی (۱۲۲۱۰۰۶) - مدیریت جهانگردی (۱۲۲۱۰۰۳) -

مدیریت بازرگانی (۱۲۲۱۰۲۷) - مدیریت صنعتی (۱۲۲۱۰۱۲) - تجمیع(اقتصاد-حسابداری - کلیه مدیریتها): ۱۲۲۱۰۳۲

استفاده از:

مجاز است

۳۲. زیر اساس فرضیه «نرخ طبیعی بیکاری» بر روی منحنی فیلیپس اثرات بلندمدت ناشی از رشد عرضه پول باعث خواهد شد ...

الف. نرخ بیکاری و سطح قیمت ها هر دو افزایش یابد.

ب. نرخ بیکاری ثابت مانده و سطح قیمت ها افزایش یابد.

ج. نرخ بیکاری افزایش یافته و سطح قیمت ها ثابت باقی بماند.

د. نرخ بیکاری ثابت مانده و سطح قیمت ها کاهش یابد.

۳۳. در چارچوب الگوی کلاسیک های جدید، در مورد انتظارات عقلایی ...

الف. تنها نرخ تورم پیش بینی نشده منجر به افزایش تولید خواهد شد.

ب. تنها نرخ تورم پیش بینی شده منجر به افزایش تولید خواهد شد.

ج. هر نوع تورمی که در حد معقول باشد، منجر به افزایش تولید خواهد شد.

د. هر نوع تورم پیش بینی شده و نشده منجر به افزایش تولید خواهد شد.

۳۴. هنگامیکه رابطه بین پول و تولید ناخالص ملی، رابطه ای باثبات باشد، کدام استراتژی جهت اجرای سیاست پولی مطلوبتر است؟

الف. استراتژی هدف قرار دادن سطح اعتبارات ب. استراتژی هدف قرار دادن نرخ بهره

ج. استراتژی انتظارات منطقی د. استراتژی هدف قرار دادن غیر مستقیم عرضه پول

۳۵. کدامیک از سیاست های تثبیت اقتصادی، سیاست پولی انبساطی نامیده می شود؟

الف. خرید اوراق قرضه دولتی، کاهش نرخ تنزیل مجدد، کاهش نرخ ذخیره قانونی

ب. خرید اوراق قرضه دولتی، افزایش مخارج دولتی، کاهش نرخ تنزیل مجدد

ج. افزایش مخارج دولتی، فروش اوراق قرضه دولتی، کاهش نرخ ذخیره قانونی

د. فروش اوراق قرضه دولتی، کاهش نرخ تنزیل مجدد، کاهش مالیات ها

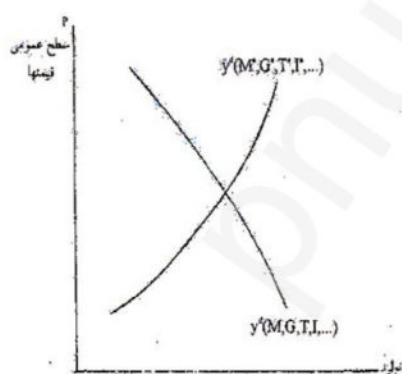
۳۶. نمودار روبرو مربوط به کدام گروه از اقتصاددانان می باشد؟

الف. پیروان کینز

ب. کلاسیک های جدید

ج. کلاسیک ها

د. پول گرایان



۳۷. کدامیک از موارد از اهداف اصلی سیاست مالی نیست؟

الف. توزیع ب. تخصیص ج. صرف جویی خارجی د. تثبیت



تعداد سؤالات: نسی: ۴۰ نثری: --
زمان آزمون (دقیقه): نسی: ۹۰ نثری: --

نام درس: اقتصاد کلان - اصول علم اقتصاد (۲)

رشته تحصیلی / کد درس: اقتصاد (۱۲۲۱۰۳۲) - حسابداری (۱۲۲۱۰۱۹) - مدیریت دولتی (۱۲۲۱۰۰۶) - مدیریت جهانگردی (۱۲۲۱۰۰۳) -

مدیریت بازرگانی (۱۲۲۱۰۲۷) - مدیریت صنعتی (۱۲۲۱۰۱۲) - تجمیع (اقتصاد - حسابداری - کلیه مدیریتها): ۱۲۲۱۰۳۲

مجاز است

استفاده از:

۳۸. در معادله تولید تعادلی $(a_0 - bt_0 + I + G + X) = Y = \frac{1}{1-b+bt+m}$ کدامیک از متغیرها نشان دهنده تثبیت کننده خودکار است؟

الف. $1-b+bt$ ب. $-b+bt$ ج. $-b+m$ د. $bt+m$

۳۹. از نظر کینزین ها اجرای یک سیاست مالی انبساطی و به طور همزمان یک سیاست پولی انقباضی منجر به کدام پدیده زیر می گردد؟

الف. فزونی صادرات بر واردات ب. کاهش کسر بودجه ساختاری

ج. مازاد تراز تجاری د. کسری تراز تجاری

۴۰. از نظر آقای دنیسون اقتصاددان آمریکایی کدامیک از عوامل اثر منفی بر رشد اقتصادی آمریکا طی دوره ۱۹۲۹-۱۹۸۲ را داشته است؟

الف. سرمایه ب. تغییرات تکنولوژیک

ج. سایر عوامل (اعتصابات کارگری، جنگ و ... د. آموزش کارگران

90-91-1

رقم السؤال	الاجابة				الاجابة الصحيحة	ملاحظات
	الف	ب	ج	د		
١			X		ج	عادي
٢		X			ب	عادي
٣				X	د	عادي
٤				X	د	عادي
٥	X				ج	عادي
٦		X			ب	عادي
٧			X		الف	عادي
٨	X				الف	عادي
٩		X			د	عادي
١٠	X				ب	عادي
١١		X			د	عادي
١٢			X		الف	عادي
١٣				X	ج	عادي
١٤			X		د	عادي
١٥		X			د	عادي
١٦		X			د	عادي
١٧				X	ب	عادي
١٨	X				الف	عادي
١٩			X		ج	عادي
٢٠			X		د	عادي
٢١			X		ج	عادي

٢٢		X			ج	عادي
٢٣		X			ج	عادي
٢٤	X				الف	عادي
٢٥		X			ب	عادي
٢٦			X		الف	عادي
٢٧	X				الف	عادي
٢٨		X			ب	عادي
٢٩	X				الف	عادي
٣٠				X	ب	عادي
٣١				X	ج	عادي
٣٢	X				ب	عادي
٣٣		X			الف	عادي
٣٤	X				د	عادي
٣٥	X				الف	عادي
٣٦				X	ب	عادي
٣٧			X		ج	عادي
٣٨				X	د	عادي
٣٩	X				د	عادي
٤٠			X		ج	عادي

سری سوال: یک ۱

زمان آزمون (دقیقه): تستی: ۷۰ تشریحی: ۰

تعداد سوالات: تستی: ۴۰ تشریحی: ۰

عنوان درس: اصول علم اقتصاد ۲، اصول علم اقتصاد ۳ (کلان - جهانگردی)، اقتصاد کلان

رشته تحصیلی/کد درس: مدیریت جهانگردی ۱۲۲۱۰۰۳ - مدیریت دولتی ۱۲۲۱۰۰۶ - مدیریت صنعتی ۱۲۲۱۰۱۲ - حسابداری ۱۲۲۱۰۱۹ - مدیریت بازرگانی ۱۲۲۱۰۲۷ - حسابداری (چندبخشی)، علوم اقتصادی (نظری)، چندبخشی، مدیریت دولتی (چندبخشی)، مدیریت بازرگانی (چندبخشی)، مدیریت صنعتی (چندبخشی)، مدیریت جهانگردی (چندبخشی) (۱۲۲۱۰۳۲)

استفاده از ماشین حساب ساده مجاز است

۱- کدام گروه از متغیرهایی محسوب می‌شوند که فاقد بعد زمانی هستند؟

۱. پس انداز، موجودی انبار
۲. ثروت، موجودی انبار
۳. ثروت، موجودی انبار
۴. پس انداز، نرخ بهره

۲- در یک اقتصاد فرضی تولید ناخالص ملی برابر ۹۸۷۶۵۴ میلیارد ریال، استهلاک ۲۳۴۵۶۷ میلیارد ریال، خالص مالیاتهای غیرمستقیم ۳۴۵ میلیارد ریال است. درآمد ملی کدام گزینه است؟

۱. ۹۸۷۳۰۹
۲. ۷۵۳۰۸۷
۳. ۷۵۲۷۴۲
۴. ۹۸۷۹۹۹

۳- چنانچه قیمت کالای A در سال پایه (سال ۱۳۶۹) برابر ۹۲۲ ریال و در سال ۱۳۷۲ برابر ۱۴۵۰ باشد، شاخص قیمت کالای A در سال ۱۳۷۲ کدام گزینه است؟

۱. ۱۳۷
۲. ۱۶۵/۵
۳. ۱۵۷/۲۷
۴. ۱۷۳/۹۶

۴- از نظر کلاسیک ها سطح تعادلی اشتغال مشخص کننده کدام گزینه است؟ وضعیت اشتغال

۱. کامل
۲. ناقص
۳. کامل و وجود بیکاری غیر ارادی
۴. ناقص و وجود بیکاری غیر ارادی

۵- با توجه به معادله مبادله کلاسیک ها برای ثابت نگه داشتن سطح عمومی قیمت ها چه اقدامی باید انجام داد؟

۱. رشد پول از رشد تولید حقیقی حداقل ۲ درصد کمتر باشد.
۲. رشد پول با رشد تولید اسمی متناسب باشد.
۳. رشد پول از رشد تولید حقیقی بیشتر باشد.
۴. رشد پول با رشد تولید حقیقی متناسب باشد.

۶- کدام یک از توابع مصرف داده شده، بیانگر این است که در سطح درآمد صفر، پس انداز نیز صفر است:

۱. $C = 0.8Y$
۲. $C = 0.8Y + 5$
۳. $C = 0.9Y + 10$
۴. $C = 0.6Y + 1$

۷- در کوتاه مدت مصرف به کدام یک از عوامل زیر بستگی ندارد؟

۱. درآمد
۲. انتظارات تورمی
۳. ثروت
۴. پس انداز

سری سوال: ۱ یک

زمان آزمون (دقیقه): تستی: ۷۰ تشریحی: ۰

تعداد سوالات: تستی: ۴۰ تشریحی: ۰

عنوان درس: اصول علم اقتصاد ۲، اصول علم اقتصاد ۳ (کلان - جهانگردی)، اقتصاد کلان

رشته تحصیلی/گد درس: مدیریت جهانگردی ۱۳۳۱۰۰۳ - مدیریت دولتی ۱۳۳۱۰۰۶ - مدیریت صنعتی ۱۳۳۱۰۱۲ - حسابداری ۱۳۳۱۰۱۹ - مدیریت بازرگانی ۱۳۳۱۰۲۷ - حسابداری (چندبخشی)، علوم اقتصادی (نظری) چندبخشی، مدیریت دولتی (چندبخشی)، مدیریت بازرگانی (چندبخشی)، مدیریت صنعتی (چندبخشی)، مدیریت جهانگردی (چندبخشی) ۱۳۳۱۰۳۲

۸- با توجه به تابع مصرف $C = 50 + 0.65Y$ ، کدام منحنی نسبت به افق زاویه (شیب) بیشتری دارد:

۱. منحنی مصرف به شرط اینکه عرض از مبدأ آن صفر شود.

۲. منحنی مصرف

۳. منحنی پس انداز

۴. منحنی مصرف و منحنی پس انداز با هم موازی هستند و زاویه یکسان دارند.

۹- با توجه به جدول دادهها در کدام یک از سطوح تولیدی (Y)، کمبود موجودی ناخواسته ۲۵ واحد و انباشت

موجودی ناخواسته ۵۰ واحد است

تولید Y	مصرف C	پس انداز S	سرمایه گذاری I	تقاضای کل AD
۴۰۰	۳۵۰	۵۰	۱۰۰	۴۵۰
۵۰۰	۴۲۵	۷۵	۱۰۰	۵۲۵
۶۰۰	۵۰۰	۱۰۰	۱۰۰	۶۰۰
۷۰۰	۵۷۵	۱۲۵	۱۰۰	۶۷۵

۱. $Y = 50$ (کمبود)، $Y = 800$ (انباشت)

۲. $Y = 400$ (کمبود)، $Y = 700$ (انباشت)

۳. $Y = 700$ (کمبود)، $Y = 800$ (انباشت)

۱۰- ضریب افزایش مالیات برون زا عبارتست از:

۱. $\frac{MPC}{MPS}$

۲. $\frac{-MPC}{MPS}$

۳. $\frac{MPC}{1-MPS}$

۴. $\frac{-MPC}{1+MPS}$

۱۱- با توجه به دادههای فرضی سطح تولید تعادلی Y کدام است؟

$T = 100$ $I = 100$ $C = 40 + 0.8Y_d$ $G = 120$

۱. ۸۴۰

۲. ۸۰۰

۳. ۷۶۰

۴. ۹۰۰

سری سوال: ۱ یک

زمان آزمون (دقیقه): تستی: ۷۰ تشریحی: ۰

تعداد سوالات: تستی: ۴۰ تشریحی: ۰

عنوان درس: اصول علم اقتصاد ۲، اصول علم اقتصاد ۳ (کلان - جهانگردی)، اقتصاد کلان

رشته تحصیلی/گد درس: مدیریت جهانگردی ۱۳۳۱۰۰۳ - مدیریت دولتی ۱۳۳۱۰۰۶ - مدیریت صنعتی ۱۳۳۱۰۱۲ - حسابداری ۱۳۳۱۰۱۹ - مدیریت بازرگانی ۱۳۳۱۰۲۷ - حسابداری (چندبخشی)، علوم اقتصادی (نظری) چندبخشی، مدیریت دولتی (چندبخشی)، مدیریت بازرگانی (چندبخشی)، مدیریت صنعتی (چندبخشی)، مدیریت جهانگردی (چندبخشی) ۱۳۳۱۰۳۲

۱۲- چنانچه مخارج سرمایه گذاری مستقل به میزان ۶۵ واحد افزایش یابد ($\Delta I = 65$)، با فرض اینکه میل نهایی به پس انداز ۰/۱ است، تغییر در تولید به چه میزان خواهد بود؟

۱. $\Delta y = -65$ ۲. $\Delta y = +65$ ۳. $\Delta y = 217$ ۴. $\Delta y = 317$

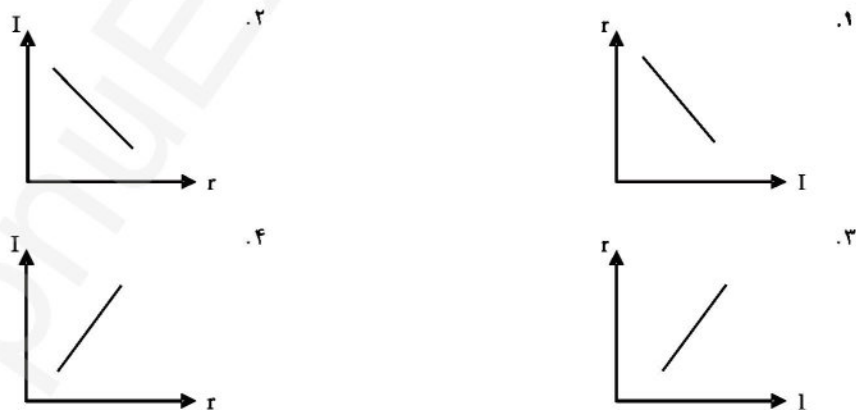
۱۳- چنانچه دولت همزمان مالیات و مخارج خود را به میزان ۷۵ واحد افزایش دهد با فرض اینکه $MPC = 0.75$ است این اقدام دولت چه تأثیری بر تولید تعادلی دارد.

۱. تولید تعادلی ۱ واحد کاهش می یابد. ۲. تولید تعادلی ۲۲۵ واحد کاهش می یابد.
۳. تولید تعادلی ۱ واحد افزایش می یابد. ۴. تولید تعادلی ۷۵ واحد افزایش می یابد.

۱۴- در الگو چهار بخشی (اقتصاد باز) با فرض اینکه، مالیات و واردات تابعی از درآمد ملی در نظر گرفته شوند. $M - m, T = ty$ و با توجه به ضریب افزایش مخارج مستقل کدام گزینه تثبیت کننده خودکار تلقی می شود.

۱. $bt - m$ ۲. $bt + m$ ۳. $b + m$ ۴. $-bt + m$

۱۵- کدام گزینه براساس نظر کینز رابطه سرمایه گذاری با نرخ بهره را نشان می دهد.



سری سوال : ۱ یک

زمان آزمون (دقیقه) : تستی : ۷۰ تشریحی : ۰

تعداد سوالات : تستی : ۴۰ تشریحی : ۰

عنوان درس : اصول علم اقتصاد ۲، اصول علم اقتصاد ۳ (کلان - جهانگردی)، اقتصاد کلان

رشته تحصیلی / گد درس : مدیریت جهانگردی ۱۳۳۱۰۰۳ - مدیریت دولتی ۱۳۳۱۰۰۶ - مدیریت صنعتی ۱۳۳۱۰۱۲ - حسابداری ۱۳۳۱۰۱۹ - مدیریت بازرگانی ۱۳۳۱۰۲۷ - حسابداری (چندبخشی)، علوم اقتصادی (نظری) چندبخشی، مدیریت دولتی (چندبخشی)، مدیریت بازرگانی (چندبخشی)، مدیریت صنعتی (چندبخشی)، مدیریت جهانگردی (چندبخشی) ۱۳۳۱۰۳۲

۱۶- با فرض اینکه داشته باشیم:

$$I = 100 - 200r \quad \text{و} \quad G = 100 \quad \text{و} \quad T = 0.1y \quad \text{و} \quad C = 50 + 0.8(y - T)$$

کدام گزینه معادله IS را نشان می دهد.

۱. $y = 928/8 - 417/23$

۲. $y = 298/8 - 51423$

۳. $y = 829/8 - 614/23$

۴. $y = 892/8 - 714/23$

۱۷- M_2 عبارتست از:

۱. اسکناس و مسکوک در دست مردم به علاوه سپرده های دیداری و سپرده های مدت دار

۲. اسکناس و مسکوک در دست مردم به علاوه سپرده های دیداری

۳. اسکناس و مسکوک در دست مردم به علاوه سپرده های دیداری و گواهینامه های سپرده

۴. اسکناس و مسکوک در دست مردم به علاوه سپرده های مدت دار

۱۸- از نظر کینز تقاضای پول تابع مستقیم و تابع معکوس است.

۱. نرخ بازده درونی - درآمدهای آتی

۲. نرخ بهره - درآمد

۳. نرخ بازده درونی - نرخ بهره

۴. نرخ بهره - درآمد

۱۹- چنانچه دولت سیاست مالی انبساطی (از طریق افزایش مخارج خود) اعمال نمایند چه نتیجه ای بر اجرای این سیاست مرتب است.

۱. بیرون کردن بخش خصوصی از بازار

۲. فعالتر شدن بخش خصوصی در بازار

۳. ارزانتر شدن هزینه سرمایه گذاری برای بخش خصوصی

۴. تثبیت نرخ بهره در بازار

۲۰- اگر عرضه حقیقی پول کاهش یابد:

۱. منحنی LM به سمت راست انتقال می یابد.

۲. منحنی LM به سمت چپ انتقال می یابد.

۳. منحنی IS به سمت چپ منتقل می شود.

۴. منحنی IS به سمت راست منتقل می شود.

سری سوال : ۱ یک

زمان آزمون (دقیقه) : تستی : ۷۰ تشریحی : ۰

تعداد سوالات : تستی : ۴۰ تشریحی : ۰

عنوان درس : اصول علم اقتصاد ۲، اصول علم اقتصاد ۳ (کلان - جهانگردی)، اقتصاد کلان

رشته تحصیلی / گد درس : مدیریت جهانگردی ۱۳۳۱۰۰۳ - مدیریت دولتی ۱۳۳۱۰۰۶ - مدیریت صنعتی ۱۳۳۱۰۱۲ - حسابداری ۱۳۳۱۰۱۹ - مدیریت بازرگانی ۱۳۳۱۰۲۷ - حسابداری (چندبخشی)، علوم اقتصادی (نظری) چندبخشی، مدیریت دولتی (چندبخشی)، مدیریت بازرگانی (چندبخشی)، مدیریت صنعتی (چندبخشی)، مدیریت جهانگردی (چندبخشی) ۱۳۳۱۰۳۲

۲۱- یکی از تفاوت‌های قابل ملاحظه بین بانکهای تجاری و بنگاههای اقتصادی غیرمالی، نسبت دارایی‌ها به بدهی آنهاست به طوری که نسبت دارایی‌های متعلق به صاحبان سهام بانک به بدهی‌های بانک بسیار پایین‌تر از همین نسبت برای بنگاههای اقتصادی غیرمالی است. این نسبت غالباً

۱. از ۳ به ۱۰ کوچکتر است.
۲. از ۲ به ۱۰ کوچکتر است.
۳. از ۱ به ۱۰ کوچکتر است.
۴. از ۴ به ۱۰ کوچکتر است.

۲۲- کدام گزینه درست است:

۱. معمولاً ذخایر ثانویه بانکها از ویژگی، کیفیت بالا، بازار وسیع و سررسید کوتاه مدت برخوردارند.
۲. معمولاً ذخایر ثانویه بانکها از ویژگی، کیفیت بالا، بازار وسیع و سررسید بلندمدت برخوردارند.
۳. ذخایر ثانویه شامل دارایی‌هایی است که در بلندمدت قابل تبدیل به ذخایر اولیه هستند.
۴. ذخایر ثانویه بانکها شامل اسکناس و مسکوک موجود در بانکها است.

۲۳- کدام گزینه از اهداف اصلی سیاست پولی (که از طریق بانک مرکزی اجرا می‌شود) محسوب نمی‌شود:

۱. حفظ اشتغال کامل
۲. انتشار اسکناس و مسکوک
۳. تعادل تراز پرداختهای خارجی
۴. تثبیت سطح عمومی قیمتها

۲۴- اگر نسبت ذخیره قانونی ۱۲ درصد و مقدار افزایش ذخایر بانک ۲۴۰۰۰ واحد پولی باشد، مقدار افزایش در سپرده برابر خواهد بود با:

۱. ۲۵۶۸۰۰
۲. ۲۰۰۰۰۰
۳. ۳۴۶۰۰۰
۴. ۲۱۱۲۰

۲۵- پایه پولی عبارتست از مجموع

۱. ذخایر بانکها منهای اسکناس و مسکوک نزد مردم
۲. اسکناس و مسکوک نزد مردم منهای ذخایر بانکها
۳. اسکناس و مسکوک نزد مردم به علاوه ذخایر بانکها
۴. اسکناس و مسکوک نزد مردم به علاوه ذخایر قانونی بانکها

سری سوال : ۱ یک

زمان آزمون (دقیقه) : تستی : ۷۰ تشریحی : ۰

تعداد سوالات : تستی : ۴۰ تشریحی : ۰

عنوان درس : اصول علم اقتصاد ۲، اصول علم اقتصاد ۳ (کلان - جهانگردی)، اقتصاد کلان

رشته تحصیلی / گد درس : مدیریت جهانگردی ۱۳۳۱۰۰۳ - مدیریت دولتی ۱۳۳۱۰۰۶ - مدیریت صنعتی ۱۳۳۱۰۱۲ - حسابداری ۱۳۳۱۰۱۹ - مدیریت بازرگانی ۱۳۳۱۰۲۷ - حسابداری (چندبخشی)، علوم اقتصادی (نظری) (چندبخشی)، مدیریت دولتی (چندبخشی)، مدیریت بازرگانی (چندبخشی)، مدیریت صنعتی (چندبخشی)، مدیریت جهانگردی (چندبخشی) ۱۳۳۱۰۳۲

۲۶- الگوی کینزی را در نظر بگیرید که در آن سطح عمومی قیمتها ثابت نبوده و متغیر است. افزایش سطح عمومی

قیمتها از دو طریق می تواند باعث کاهش تقاضای کل گردد. این دو طریق کدام است؟

۱. اثر نرخ بهره، اثر کاهش مخارج دولت
۲. اثر مازاد نقدینگی، اثر ثروت
۳. اثر کاهش مخارج دولت، اثر افزایش مالیات
۴. اثر نرخ بهره، اثر ثروت

۲۷- در چارچوب الگوی $IS - LM$ هیگززی، اعمال یک سیاست مالی انبساطی از طریق کاهش مالیاتها

۱. IS را به سمت چپ تغییر مکان می دهد.
۲. IS را به سمت راست تغییر مکان می دهد.
۳. IS و LM را به سمت راست تغییر مکان می دهد.
۴. IS و LM را به سمت چپ تغییر مکان می دهد.

۲۸- اقتصاددانان کینزی معتقدند عدم انعطاف پذیری کامل مزد پولی، به این دلیل می تواند باشد که

۱. کارگران قادرند قراردادهای خود را با کارفرمایان سالانه چندین بار تغییر دهند.
۲. کارگران دستمزدهای خود را بر اساس قیمت های آتی تعیین می کنند.
۳. کارگران قراردادهای خود با کارفرمایان را ۲ تا ۳ ساله با سطح مزد پولی ثابت تنظیم می کنند.
۴. کارگران بر اساس مزد حقیقی با کارفرمایان قرارداد منعقد می کنند.

۲۹- در الگوی کینزی هر تغییری که باعث کاهش هزینه واحد تولید، در سطح مشخصی از تولید گردد:

۱. منحنی عرضه کل به طرف راست و پایین جابه جا می شود.
۲. منحنی عرضه کل به طرف چپ و بالا جابه جا می شود.
۳. نقطه تعادل روی منحنی به طرف راست و بالا جابه جا می شود.
۴. نقطه تعادل روی منحنی به طرف چپ و پایین جابه جا می شود.

۳۰- بیکاری اصطکاکی

۱. بیکاری است که فرد بر اساس تصمیم خود بیکار می شود. افزایش اطلاعات در دسترس در بازار کار تأثیری بر کاهش دوره این بیکاری ندارد.
۲. بیکاری است که فرد به طور غیرارادی بیکار می شود. فرد با افزایش مهارت خود، دوره بیکاری را کاهش می دهد.
۳. بیکاری است که فرد بر اساس تصمیم خود بیکار می شود. با افزایش اطلاعات در دسترس در بازار کار، دوره این بیکاری کاهش می یابد.
۴. بیکاری است که فرد به طور غیرارادی بیکار می شود. افزایش دستمزد پولی این دوره بیکاری را کاهش می دهد.

سری سوال : ۱ یک

زمان آزمون (دقیقه) : تستی : ۷۰ تشریحی : ۰

تعداد سوالات : تستی : ۴۰ تشریحی : ۰

عنوان درس : اصول علم اقتصاد ۲، اصول علم اقتصاد ۳ (کلان - جهانگردی)، اقتصاد کلان

رشته تحصیلی / گد درس : مدیریت جهانگردی ۱۳۳۱۰۰۳ - مدیریت دولتی ۱۳۳۱۰۰۶ - مدیریت صنعتی ۱۳۳۱۰۱۲ - حسابداری ۱۳۳۱۰۱۹ - مدیریت بازرگانی ۱۳۳۱۰۲۷ - حسابداری (چندبخشی)، علوم اقتصادی (نظری) (چندبخشی)، مدیریت دولتی (چندبخشی)، مدیریت بازرگانی (چندبخشی)، مدیریت صنعتی (چندبخشی)، مدیریت جهانگردی (چندبخشی) ۱۳۳۱۰۳۲

۳۱- در صورت بروز تورم سود برده و زیان می کنند.

۱. وام دهندگان - وام گیرندگان
۲. کارگران - کارفرمایان
۳. وام گیرندگان - وام دهندگان
۴. بنگاهها - وام گیرندگان

۳۲- شیب منحنی فیلیپس در سطوح نزدیک به سطح تولید اشتغال کامل چگونه است؟

۱. بسیار کم
۲. بسیار زیاد
۳. ثابت
۴. ابتدا ثابت و سپس کاهش

۳۳- شوکهای عرضه نامطلوب (مانند افزایش قیمت نفت برای کشورهای وارد کننده نفت) منحنی فیلیپس را به سمت راست جابه جا می کند که سبب افزایش نرخ بیکاری و نرخ تورم می شود چنانچه سیاستگذار تصمیم بگیرد سطح تولید و اشتغال حفظ گردد و از افزایش نرخ بیکاری ممانعت به عمل آورد چه اقدامی را برای عملی شدن این تصمیم خود باید اجرا کند:

۱. اعمال سیاست پولی و مالی انقباضی
۲. اعمال سیاست پولی و مالی انبساطی
۳. کاهش تقاضای کل
۴. تثبیت تقاضای کل

۳۴- پولگرایان معتقدند تغییر در حجم پول

۱. اثر ناچیزی بر تولید حقیقی در کوتاه مدت می گذارد.
۲. اثر شدیدی بر تولید حقیقی در بلندمدت می گذارد.
۳. اثری بر تولید ناخالص ملی پولی در کوتاه مدت ندارد.
۴. اثر شدیدی بر تولید حقیقی در کوتاه مدت می گذارد.

۳۵- از آنجا که پولگرایان تورم را یک پدیده پولی می دانند، عقیده دارند که بهترین راه برای ایجاد رشد با ثبات در

عرضه پول قاعده:

۱. نرخ رشد پول است.
۲. تثبیت حجم پول است.
۳. عرضه کوتاه مدت پول است.
۴. نرخ رشد ثابت حجم پول است.

سری سوال : ۱ یک

زمان آزمون (دقیقه) : تستی : ۷۰ تشریحی : ۰

تعداد سوالات : تستی : ۴۰ تشریحی : ۰

عنوان درس : اصول علم اقتصاد ۲، اصول علم اقتصاد ۲ (کلان - جهانگردی)، اقتصاد کلان

رشته تحصیلی / گد درس : مدیریت جهانگردی ۱۳۳۱۰۰۳ - مدیریت دولتی ۱۳۳۱۰۰۶ - مدیریت صنعتی ۱۳۳۱۰۱۲ - حسابداری ۱۳۳۱۰۱۹ - مدیریت بازرگانی ۱۳۳۱۰۲۷ - حسابداری (چندبخشی)، علوم اقتصادی (نظری) چندبخشی، مدیریت دولتی (چندبخشی)، مدیریت بازرگانی (چندبخشی)، مدیریت صنعتی (چندبخشی)، مدیریت جهانگردی (چندبخشی) ۱۳۳۱۰۳۲

۳۶- در چارچوب الگوی کلاسیکهای جدید، فرض کنید سیاست افزایش عرضه پول از طرف کارگران غیر قابل

پیشبینی باشد. نتایجی که این سیاست پولی انبساطی به دنبال دارد...

۱. مشابه الگوی پولگرایان خواهد بود به طوریکه فقط تولید افزایش می یابد.
۲. متفاوت با الگوی کینزی خواهد بود به طوریکه فقط قیمتها افزایش می یابد.
۳. مشابه الگوی کینزی خواهد بود به طوریکه هم قیمت و هم تولید افزایش خواهند یافت.
۴. متفاوت با پولگرایان خواهد بود به طوریکه فقط قیمت ها افزایش می یابد.

۳۷- پیروان کینز و پولگرایان عقیده دارند تغییر در تقاضای کل چه قابل پیشبینی و چه غیر قابل پیشبینی باشد در

کوتاه مدت

۱. فقط اثر اندک و ناچیزی بر دستمزدها دارد.
۲. فقط بر قیمتها اثرگذار خواهد بود.
۳. بر تولید و اشتغال اثرگذار خواهد بود.
۴. تعدیل سریع مزد پولی را به دنبال خواهد داشت.

۳۸- از نظر پیروان کینز، سیاست مالی دارای سه هدف اصلی است، کدام گزینه از این سه هدف اصلی محسوب نمی

شود؟

۱. تعادل
۲. تثبیت
۳. تخصیص
۴. توزیع

۳۹- کدام گزینه درست است؟

۱. کسر بودجه ساختاری آن بخش از کسر بودجه است که حتی اگر اقتصاد در سطح تولید بالقوه نیز فعالیت کند وجود خواهد داشت.
۲. به عقیده پیروان کینز برای نگاه داشتن اقتصاد در سطح تولید بالقوه، وجود یک کسر بودجه ساختاری به هیچ وجه ضروری نمی باشد.
۳. در زمان رونق اقتصادی، اکثر کسر بودجه دولت، کسر بودجه ادواری است.
۴. در دوره رکود اقتصادی، نسبت کسر بودجه ادواری به کل کسر بودجه، کمتر است از این نسبت در دوره رونق.

۴۰- سایر منابع تأثیرگذار بر رشد اقتصادی، عواملی هستند که میزان تولید برای هر واحد نهاده کارگر را افزایش می

دهند. کدام گزینه از این عوامل رشد محسوب می شود؟

۱. صرفه جویی مقیاس
۲. تعداد کارگران
۳. صرفه جویی تولید
۴. تغییرات تولید

90-91-2

نیمسال دوم ۹۰-۹۱

شماره سوال	الف	ب	ج	د	پاسخ صحیح	صنعت کلید
۱		X			ج	عادی
۲		X			ج	عادی
۳			X		ج	عادی
۴			X		الف	عادی
۵		X			د	عادی
۶			X		الف	عادی
۷	X				د	عادی
۸	X				ب	عادی
۹			X		الف	عادی
۱۰			X		ب	عادی
۱۱	X				د	عادی
۱۲		X			ب	حذف یا تأثیر مثبت
۱۳				X	د	عادی
۱۴				X	ب	عادی
۱۵				X	الف	عادی
۱۶			X		ج	عادی
۱۷	X				الف	عادی
۱۸				X	د	عادی
۱۹	X				الف	عادی
۲۰		X			ب	عادی
۲۱			X		ج	عادی
۲۲	X				الف	عادی
۲۳	X				ب	عادی
۲۴		X			ب	عادی
۲۵	X				ج	عادی
۲۶			X		د	عادی
۲۷	X				ب	عادی
۲۸			X		ج	عادی
۲۹				X	الف	عادی
۳۰			X		ج	عادی
۳۱	X				ج	عادی
۳۲		X			ب	عادی
۳۳	X				ب	عادی
۳۴			X		د	عادی
۳۵				X	د	عادی
۳۶	X				ج	عادی
۳۷			X		ج	عادی
۳۸	X				الف	عادی
۳۹				X	الف	عادی
۴۰			X		الف	عادی

سری سوال: یک ۱

زمان آزمون (دقیقه): تستی: ۷۵ تشریحی: ۰

تعداد سوالات: تستی: ۴۰ تشریحی: ۰

عنوان درس: اصول علم اقتصاد ۲، اصول علم اقتصاد ۳ (کلان - جهانگردی)، اقتصاد کلان

رشته تحصیلی/گد فرس: مدیریت جهانگردی ۱۳۲۱۰۰۳ - مدیریت دولتی ۱۳۲۱۰۰۶ - مدیریت صنعتی ۱۳۲۱۰۱۳ - حسابداری ۱۳۲۱۰۱۹ - مدیریت بازرگانی ۱۳۲۱۰۲۷ - حسابداری (چندبخشی)، علوم اقتصادی (نظری) (چندبخشی)، مدیریت دولتی (چندبخشی)، مدیریت بازرگانی (چندبخشی)، مدیریت صنعتی (چندبخشی)، مدیریت جهانگردی (چندبخشی) ۱۳۲۱۰۳۲

استفاده از ماشین حساب ساده مجاز است

۱- اگر A نشانگر جمعیت فعال و B جمعیت فعال شاغل و C جمعیت فعال غیر شاغل یک کشور باشد کدام یک از گزینه های زیر نشانگر نرخ بیکاری است؟

$$U = \frac{A-C}{C} \times 100 \quad U = \frac{A-B}{A} \times 100 \quad U = \frac{A-C}{A} \times 100 \quad U = \frac{A-B}{C} \times 100$$

۲- در حسابداری ملی موجودی انبار در کدام یک از موارد زیر طبقه بندی می شود؟

۱. مصرف خصوصی ۲. مخارج دولتی ۳. خالص صادرات ۴. سرمایه گذاری

۳- فروض اساسی کلاسیک ها در مورد بازار کار کدام است؟

۱. انعطاف پذیری کامل قیمت ها و فقدان اطلاعات کامل کارگران درباره تغییر مزد حقیقی
۲. انعطاف ناپذیری قیمت ها و اطلاعات کامل عوامل تولید درباره تغییرات مزد حقیقی
۳. انعطاف پذیری کامل قیمت ها و اطلاعات کامل کارگران درباره تغییرات مزد حقیقی
۴. انعطاف ناپذیری قیمت ها و فقدان اطلاعات کامل عوامل تولید درباره تغییرات مزد حقیقی

۴- طبق نظر کلاسیک ها منحنی عرضه کل و تقاضای کل به ترتیب و است؟

۱. صعودی - عمودی ۲. صعودی - نزولی ۳. عمودی - نزولی ۴. عمودی - عمودی

۵- برطبق الگوی کلاسیک کدام یک از گزینه های زیر صحیح است؟

۱. برای رسیدن به وضعیت اشتغال کامل در اقتصاد فقط نیاز به اعمال سیاست های مالی است.
۲. برای رسیدن به وضعیت اشتغال کامل در اقتصاد تنها نیاز به اعمال سیاست پولی است.
۳. برای رسیدن به وضعیت اشتغال کامل در اقتصاد نیاز به اعمال سیاست های پولی و مالی بطور همزمان است.
۴. برای رسیدن به وضعیت اشتغال کامل نیاز به اعمال سیاست های پولی و مالی نیست و بطور خودکار حاصل می شود.

سری سوال: ۱ یک

زمان آزمون (دقیقه): تستی: ۷۵ تشریحی: ۰

تعداد سوالات: تستی: ۴۰ تشریحی: ۰

عنوان درس: اصول علم اقتصاد ۲، اصول علم اقتصاد ۲ (کلان - جهانگردی)، اقتصاد کلان

رشته تحصیلی/گد فرس: مدیریت جهانگردی ۱۳۲۱۰۰۳ - مدیریت دولتی ۱۳۲۱۰۰۶ - مدیریت صنعتی ۱۳۲۱۰۱۳ - حسابداری ۱۳۲۱۰۱۹ - مدیریت بازرگانی ۱۳۲۱۰۲۷ - حسابداری (چندبخشی)، علوم اقتصادی (نظری) چندبخشی، مدیریت دولتی (چندبخشی)، مدیریت بازرگانی (چندبخشی)، مدیریت صنعتی (چندبخشی)، مدیریت جهانگردی (چندبخشی) ۱۳۲۱۰۳۲

۶- اگر نرخ بهره کمتر از نرخ نهایی بازده سرمایه باشد کدامیک از موارد زیر درست است؟

۱. سرمایه گذاری خالص منفی خواهد بود و حجم سرمایه کاهش می یابد.
۲. سرمایه گذاری خالص مثبت خواهد بود و موجودی سرمایه افزایش می یابد.
۳. سرمایه گذاری خالص برابر صفر است و بنگاه ها تنها سرمایه مستهلک را جایگزین خواهند کرد.
۴. خرید کالای سرمایه ای به منظور جایگزینی کالای سرمایه ای مستهلک سود آور نخواهند بود.

۷- اگر میل نهایی به پس انداز $0/4$ باشد، افزایش 50 واحد سرمایه گذاری مستقل چه مقدار درآمد ملی تعادلی را افزایش می دهد؟

- ۱۰۰ .۱ ۷۵ .۲ ۱۲۵ .۳ ۱۵۰ .۴

۸- اگر تابع $T = 0/1Y$ و $C = 50 + 0/75(y - T)$ باشد $G = 200$ ، $I = 100 - 20r$ ، $C = 50 + 0/75(y - T)$ باشد کدامیک از گزینه های زیر منحنی IS را نشان می دهد؟

۱. $Y = 4000 - 201r$
۲. $Y = 4502 - 225r$
۳. $Y = 1077 - 615r$
۴. $Y = 2540 - 418r$

۹- در کدامیک از موارد زیر انتظار داریم که تابع IS به راست انتقال یابد؟

۱. سرمایه گذاری افزایش یابد.
۲. مالیاتها افزایش یابد.
۳. مخارج دولت کاهش یابد.
۴. مقدار صادرات کاهش یابد.

۱۰- کدام یک از موارد زیر نشانگر تعریف شبه پول $(M_p - M_1)$ است؟

۱. سپردههای دیداری(جاری) + اسکناس و مسکوک در دست مردم
۲. سپردههای مدت دار + پس انداز
۳. پول رایج + سپردههای دیداری (جاری) نزد بانکهای بازرگانی
۴. سپردههای مدت دار + پس انداز + سپردههای دیداری(جاری) + اسکناس و مسکوک در دست مردم

۱۱- شیب منحنی عرضه و تقاضای پول از نظر پیروان کینز به ترتیب و است؟

۱. منفی، مثبت ۲. مثبت، منفی ۳. بی نهایت، منفی ۴. مثبت، بی نهایت

سری سوال: ۱ یک

زمان آزمون (دقیقه): تستی: ۷۵ تشریحی: ۰

تعداد سوالات: تستی: ۴۰ تشریحی: ۰

عنوان درس: اصول علم اقتصاد ۲، اصول علم اقتصاد ۳ (کلان - جهانگردی)، اقتصاد کلان

رشته تحصیلی/گد فرس: مدیریت جهانگردی ۱۳۲۱۰۰۳ - حسابداری (چندبخشی)، علوم اقتصادی (نظری) (چندبخشی)، مدیریت دولتی (چندبخشی)، مدیریت بازرگانی ۱۳۲۱۰۲۷ - حسابداری (چندبخشی)، علوم اقتصادی (نظری) (چندبخشی)، مدیریت دولتی (چندبخشی)، مدیریت بازرگانی (چندبخشی)، مدیریت صنعتی (چندبخشی)، مدیریت جهانگردی (چندبخشی) ۱۳۲۱۰۳۲

۱۲- منظور از سیاست مالی و بیرون کردن بخش خصوصی از بازار چیست؟

۱. سیاست مالی انبساطی باعث افزایش در آمد و در نتیجه در بازار پول باعث افزایش نرخ بهره می شود که منجر به کاهش سرمایه گذاری می شود.
۲. سیاست مالی انبساطی باعث افزایش مخارج دولت شده در نتیجه سرمایه گذاران نیازی به سرمایه گذاری جدید ندارد.
۳. هر گاه مخارج دولت افزایش یابد بخش خصوصی تمایلی به سرمایه گذاری ندارد.
۴. سیاست مالی یعنی اینکه فعالیتهای بخش خصوصی در بعضی حوضه ها ممنوع است.

۱۳- کدام یک از گزینه های زیر گویای نظریه کینزی در مورد سیاست پولی انبساطی است؟

۱. $M^s \uparrow \Rightarrow r \downarrow \Rightarrow I \uparrow \Rightarrow AD \uparrow \Rightarrow y \uparrow$
۲. $M^s \uparrow \Rightarrow r \uparrow \Rightarrow I \downarrow \Rightarrow AD \downarrow \Rightarrow y \downarrow$
۳. $M^s \downarrow \Rightarrow r \downarrow \Rightarrow I \uparrow \Rightarrow AD \uparrow \Rightarrow y \uparrow$
۴. $M^s \downarrow \Rightarrow r \uparrow \Rightarrow I \downarrow \Rightarrow AD \downarrow \Rightarrow y \downarrow$

۱۴- سیاست پولی انبساطی چه اثری بر روی منحنی LM دارد؟

۱. حرکت بر روی منحنی به سمت پایین
۲. حرکت بر روی منحنی به سمت بالا
۳. انتقال منحنی به سمت بالا
۴. انتقال منحنی به سمت پایین

۱۵- نرخ ذخیره قانونی چقدر باشد تا با افزایش ذخایر بانک به میزان ۱۰۰۰۰ مقدار سپرده ها برابر با ۴۰۰۰۰ افزایش یابد؟

۱. ۲۰٪
۲. ۱۰٪
۳. ۱۵٪
۴. ۲۵٪

۱۶- کدام گزینه صحیح است؟

۱. اولین بانک خصوصی ایران بانک بازرگانی نام داشت.
۲. اولین بانک ایرانی در سال ۱۳۰۴ به نام بانک جدید شرق تاسیس شد
۳. بانک پهلوی قشون اولین بانکی بود که در ایران تاسیس شد.
۴. بانک مرکزی در سال ۱۳۰۹ در ایران تاسیس شد

۱۷- کدام گزینه به ترتیب نشانگر سیاست پولی انبساطی و پولی انقباضی است؟

۱. فروش اوراق بهادار دولتی - افزایش نرخ تنزیل مجدد
۲. افزایش نرخ ذخیره قانونی - کاهش نرخ تنزیل مجدد
۳. کاهش نرخ ذخیره قانونی - فروش اوراق بهادار دولتی
۴. خرید اوراق بهادار دولتی - کاهش نرخ ذخیره قانونی

سری سوال: ۱ یک

زمان آزمون (دقیقه): تستی: ۷۵ تشریحی: ۰

تعداد سوالات: تستی: ۴۰ تشریحی: ۰

عنوان درس: اصول علم اقتصاد ۲، اصول علم اقتصاد ۳ (کلان - جهانگردی)، اقتصاد کلان

رشته تحصیلی/گد فرس: مدیریت جهانگردی ۱۳۲۱۰۰۳ - مدیریت دولتی ۱۳۲۱۰۰۶ - مدیریت صنعتی ۱۳۲۱۰۱۳ - حسابداری ۱۳۲۱۰۱۹ - مدیریت بازرگانی ۱۳۲۱۰۲۷ - حسابداری (چندبخشی)، علوم اقتصادی (نظری) (چندبخشی)، مدیریت دولتی (چندبخشی)، مدیریت بازرگانی (چندبخشی)، مدیریت صنعتی (چندبخشی)، مدیریت جهانگردی (چندبخشی) ۱۳۲۱۰۳۲

۱۸- کدام یک از گزینه های زیر نادرست است ؟

۱. در الگوی کینزی انتظارات قیمت بر مبنای قیمت های گذشته شکل می گیرد.
۲. شوک نفتی در ۱۹۷۳ موجب انتقال منحنی عرضه کل به چپ و کاهش تولید گردید.
۳. افزایش سطح عمومی قیمت ها موجب افزایش تقاضای پول می گردد.
۴. در وضعیت اشتغال کامل کلاسیک منحنی عرضه کل صعودی است.

۱۹- کارگران شهرستان میانه به دلیل عدم آشنایی به جوشکاری و فقدان مهارت لازم در این خصوص بیکار مانده اند این نوع از بیکاری را چه می نامند؟

۱. بیکاری اصطلاحی ۲. بیکاری ساختاری ۳. بیکاری ادواری ۴. بیکاری پنهان

۲۰- کدام یک از موارد زیر در مورد منحنی فیلیپس صحیح است؟

۱. روی این منحنی نرخهای پایین تر بیکاری با نرخهای بالاتر تورم ارتباط دارند
۲. رابطه مستقیم بین نرخ بیکاری و نرخ تورم را نشان می دهد.
۳. برای استخراج منحنی فیلیپس باید منحنی عرضه کل جابجا شود.
۴. برای استخراج منحنی فیلیپس باید منحنی تقاضای کل ثابت فرض شود.

۲۱- منحنی فیلیپس در چه فضایی ترسیم می شود؟

۱. نرخ بهره - نرخ تورم
۲. نرخ بیکاری - نرخ بهره
۳. نرخ بیکاری - نرخ تورم
۴. نرخ مزد - نرخ بهره

۲۲- به عقیده کلاسیکهای جدید

۱. سیاستهای مالی و پولی باعث افزایش تولید می شود
۲. نرخ رشد انتخاب شده عرضه پول به وسیله مقامات پولی تولید و اشتغال را تحت تأثیر قرار می دهد.
۳. سیاستهای سیستماتیک باعث تغییرات قابل پیش بینی در تقاضای کل می گردند و اثری بر متغیرهای حقیقی نمی گذارند.
۴. سیاست های اقتصادی کینزینها باعث بهبود شرایط اقتصادی می شود.

سری سوال: ۱ یک

زمان آزمون (دقیقه): تستی: ۷۵ تشریحی: ۰

تعداد سوالات: تستی: ۴۰ تشریحی: ۰

عنوان درس: اصول علم اقتصاد ۲، اصول علم اقتصاد ۳ (کلان - جهانگردی)، اقتصاد کلان

رشته تحصیلی/گد فرس: مدیریت جهانگردی ۱۳۲۱۰۰۳ - حسابداری (چندبخشی)، علوم اقتصادی (نظری) (چندبخشی)، مدیریت دولتی (چندبخشی)، مدیریت بازرگانی ۱۳۲۱۰۲۷ - حسابداری (چندبخشی)، مدیریت دولتی (چندبخشی)، مدیریت بازرگانی (چندبخشی)، مدیریت صنعتی (چندبخشی)، مدیریت جهانگردی (چندبخشی) ۱۳۲۱۰۳۲

۲۳- بنا به عقیده پول گرایان

۱. در کوتاه مدت فقط عامل طرف عرضه تولید را تغییر می دهند.
۲. سیاست مالی ابزار تثبیت موثری می باشد.
۳. در کوتاه مدت تغییر در حجم پول می تواند تولید را تغییر دهد.
۴. قاعده بودجه متعادل از رشد مخارج دولت جلوگیری نمی کند.

۲۴- کدام گزینه ی زیر نشانگر عملیات بازار باز است؟

۱. خرید و فروش سهام شرکتی در بازار بورس
۲. خرید و فروش سهام دولتی در بازار بورس
۳. خرید و فروش اوراق بهادار دولتی در بازار باز
۴. خرید اوراق قرضه بانک مرکزی توسط دولت

۲۵- اگر رابطه بین درآمد (تولید ناخالص ملی) و پول در بازه زمانی خاص رابطه ای با ثبات و در سایر اوقات بی ثبات باشد به ترتیب استراتژی هدف قرار دادن..... و..... مطلوب می باشد.

۱. عرضه پول و نرخ بهره
۲. نرخ بهره و عرضه پول
۳. عرضه پول و اعتبارات
۴. اعتبارات و نرخ بهره

۲۶- براساس مطالعات ادوارد دنیسون کدام یک از عوامل زیر سهم بیشتری در رشد بهره وری نیروی کار ایالات متحده آمریکا داشته است ؟

۱. سرمایه
۲. صرفه جویی مقیاس
۳. آموزش کارگران
۴. تغییرات تکنولوژیک

۲۷- کدام یک از گزینه های زیر بیانگر تولید ناخالص داخلی است ؟

۱. تولید ملی ناخالص ملی تقسیم بر کل جمعی
۲. تولید ملی ناخالص ملی منهای استهلاک
۳. تولید ملی خالص ملی منهای خالص درآمد تولید از خارج
۴. تولید ملی خالص ملی اسمی تقسیم بر شاخص تورم زدایی تولی

سری سوال: ۱ یک

زمان آزمون (دقیقه): تستی: ۷۵ تشریحی: ۰

تعداد سوالات: تستی: ۴۰ تشریحی: ۰

عنوان درس: اصول علم اقتصاد ۲، اصول علم اقتصاد ۳ (کلان - جهانگردی)، اقتصاد کلان

رشته تحصیلی/گد فرس: مدیریت جهانگردی ۱۳۳۱۰۰۳ - مدیریت دولتی ۱۳۳۱۰۰۶ - مدیریت صنعتی ۱۳۳۱۰۱۳ - حسابداری ۱۳۳۱۰۱۹ - مدیریت بازرگانی ۱۳۳۱۰۲۷ - حسابداری (چندبخشی)، علوم اقتصادی (نظری) چندبخشی، مدیریت دولتی (چندبخشی)، مدیریت بازرگانی (چندبخشی)، مدیریت صنعتی (چندبخشی)، مدیریت جهانگردی (چندبخشی) ۱۳۳۱۰۳۲

۲۸- کدام یک از گزینه های زیر نادرست است؟

۱. تشکیل سرمایه، رشد جمعیت، رشد سرمایه انسانی موانع توسعه کشورهای فقیر محسوب می شود.
۲. تشکیل سرمایه به شکل ساختمان و ماشین آلات بهروری نیروی کار را افزایش می دهد.
۳. استراتژی رشد نامتعادل شامل توسعه در بخش صادرات است.
۴. کشورهای صنعتی از طریق افزایش تعرفه واردات از استراتژیهای توسعه کشورهای در حال توسعه حمایت می کنند.

۲۹- اقتصاد دانان از چه اصطلاحی برای توصیف مهارتها و سطح تحصیلات نیروی کار استفاده می کنند؟

۱. سرمایه انسانی
۲. توسعه انسانی
۳. بهره وری نیروی کار
۴. کارائی نیروی کار

۳۰- کدام یک از اقتصاددانان زیر معتقد بودند نظام سرمایه دارای به خاطر تضادهای ذاتی اش دوامی نخواهد داشت و در نهایت جای خود را به سوسیالیسم خواهد داد.

۱. کارل مارکس
۲. جان هابسون
۳. جان مینارد کینز
۴. آدام اسمیت

۳۱- کدام یک از گزینه های زیر به ترتیب جزء متغیرهای ثابت و جاری محسوب می شوند؟

۱. سرمایه گذاری - پس انداز
۲. پس انداز - سرمایه گذاری
۳. سرمایه - نرخ بهره
۴. نرخ بهره - سرمایه

۳۲- فرض می کنیم سه نوع کالای نهایی توسط افراد کشور B تولید شده است بر اساس جدول داده شده به سه سوال زیر پاسخ دهید؟

میزان تولید ناخالص ملی اسمی در سال ۱۳۸۷ چقدر است؟

نوع کالای نهایی	سال پایه ۱۳۸۶		سال ۱۳۸۷	
	وزن	قیمت	وزن	قیمت
گندم	۱۰۰	۳۰۰	۱۲۰	۳۵۰
خرما	۲۰۰	۲۰۰	۲۸۰	۳۰۰

۱۸۶۰۰۰ .۴

۵۲۲۰۰ .۳

۱۶۸۰۰۰ .۲

۵۵۲۰۰ .۱

تعداد سوالات: تستی: ۴۰: تشریحی: ۰
زمان آزمون (دقیقه): تستی: ۷۵: تشریحی: ۰
سری سوال: ۱ یک

عنوان درس: اصول علم اقتصاد ۲، اصول علم اقتصاد ۳ (کلان - جهانگردی)، اقتصاد کلان

رشته تحصیلی/گد فرس: مدیریت جهانگردی ۱۲۲۱۰۰۳ - مدیریت دولتی ۱۲۲۱۰۰۶ - مدیریت صنعتی ۱۲۲۱۰۱۳ - حسابداری ۱۲۲۱۰۱۹ - مدیریت بازرگانی ۱۲۲۱۰۲۷ - حسابداری (چندبخشی)، علوم اقتصادی (نظری) (چندبخشی)، مدیریت دولتی (چندبخشی)، مدیریت بازرگانی (چندبخشی)، مدیریت صنعتی (چندبخشی)، مدیریت جهانگردی (چندبخشی) ۱۲۲۱۰۳۲

۳۳- میزان تولید ناخالص ملی اسمی در سال ۱۳۸۷ به قیمت ثابت (سال پایه) چقدر است؟

۱. ۱۳۲۰۰۰ ۲. ۱۶۸۰۰۰ ۳. ۱۶۳۰۰۰ ۴. ۱۸۶۰۰۰

۳۴- شاخص قیمت در سال ۱۳۸۷ نسبت به سال پایه چقدر است؟

۱. ۱۵۰ ۲. ۱۳۲ ۳. ۱۲۷ ۴. ۱۰۵

۳۵- با توجه به اطلاعات زیر میزان مصرف بخش خصوصی (C) در شرایط تعادل چقدر می باشد؟

$$GNP = 1200 \quad I = 100 \quad G = 400 \quad X = 300 \quad M = 200$$

۱. ۲۰۰ ۲. ۶۰۰ ۳. ۲۰۰۰ ۴. ۲۲۰۰

۳۶- برطبق الگوی کلاسیک کدام یک از موارد زیر نادرست است؟

۱. مزد پولی و سطح عمومی قیمت ها انعطاف پذیرند
۲. مشارکت کنندگان در بازار کار اطلاعات کاملی از مزد حقیقی دارند.
۳. سیاست های پولی موجب تغییرات تولید می شوند
۴. کارگران هیچگونه توهم پولی ندارند.

۳۷- اگر در یک اقتصاد $C = 60 + 0.75Y$ و $T = 20 + 0.1Y$ باشد و $M = 0.20Y$ مقدار تثبیت کننده های خودکار برابر با کدام گزینه است؟

۱. ۰/۰۴ ۲. ۰/۲۷۵ ۳. ۰/۰۷۵ ۴. ۰/۹۷۵

۳۸- با توجه به اطلاعات سوال قبلی ضریب افزایش سرمایه گذاری کدام است؟ (سرمایه گذاری مستقل است)

۱. ۲/۹ ۲. ۱/۹ ۳. ۴ ۴. ۳

سری سوال: ۱ یک

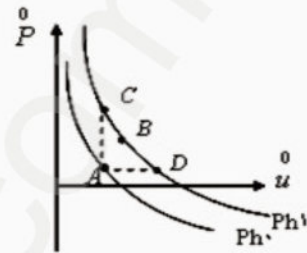
زمان آزمون (دقیقه): تستی: ۷۵ تشریحی: ۰

تعداد سوالات: تستی: ۴۰ تشریحی: ۰

عنوان درس: اصول علم اقتصاد ۲، اصول علم اقتصاد ۳ (کلان - جهانگردی)، اقتصاد کلان

رشته تحصیلی/گد فرس: مدیریت جهانگردی ۱۳۳۱۰۰۳ - مدیریت دولتی ۱۳۳۱۰۰۶ - مدیریت صنعتی ۱۳۳۱۰۱۳ - حسابداری ۱۳۳۱۰۱۹ - مدیریت بازرگانی ۱۳۳۱۰۲۷ - حسابداری (چندبخشی)، علوم اقتصادی (نظری) چندبخشی، مدیریت دولتی (چندبخشی)، مدیریت بازرگانی (چندبخشی)، مدیریت صنعتی (چندبخشی)، مدیریت جهانگردی (چندبخشی) ۱۳۳۱۰۳۲

۳۹- با توجه به شکل زیر کدام یک از موارد زیر موجب انتقال از نقطه A به نقطه B خواهد شد؟



۲. سیاست مالی انبساطی

۴. شوک مطلوب عرضه

۱. سیاست پولی انبساطی

۳. شوک نامطلوب عرضه

۴۰- با توجه به شکل سوال قبلی چه عاملی موجب حرکت از نقطه B به سمت نقطه C می گردد؟

۲. سیاست مالی انبساطی

۴. افزایش نرخ مالیات

۱. سیاست پولی انقباضی

۳. کاهش مخارج دولتی

91-92-1

رقم السؤال	الف	ب	ج	د	الإجابة الصحيحة	وضعية الكلية
١				X	عادي	١
٢				X	عادي	٢
٣	X				عادي	٣
٤		X			عادي	٤
٥		X			عادي	٥
٦	X				عادي	٦
٧				X	عادي	٧
٨		X			عادي	٨
٩		X			عادي	٩
١٠		X			عادي	١٠
١١		X			عادي	١١
١٢				X	عادي	١٢
١٣	X				عادي	١٣
١٤			X		عادي	١٤
١٥	X				عادي	١٥
١٦		X			عادي	١٦
١٧				X	عادي	١٧
١٨	X				عادي	١٨
١٩	X				عادي	١٩
٢٠		X			عادي	٢٠
٢١			X		عادي	٢١
٢٢		X			عادي	٢٢
٢٣			X		عادي	٢٣
٢٤			X		عادي	٢٤
٢٥		X			عادي	٢٥
٢٦			X		عادي	٢٦
٢٧			X		عادي	٢٧
٢٨	X				عادي	٢٨
٢٩			X		عادي	٢٩
٣٠	X				عادي	٣٠
٣١		X			عادي	٣١
٣٢			X		عادي	٣٢
٣٣				X	عادي	٣٣
٣٤		X			عادي	٣٤
٣٥		X			عادي	٣٥
٣٦				X	عادي	٣٦
٣٧		X			عادي	٣٧
٣٨				X	عادي	٣٨

٣٩		X		٣٩	عادي	٣٩
٤٠		X		٤٠	عادي	٤٠

pnueExam.com

تعداد سوالات: تستی: ۴۰، تشریحی: ۰، زمان آزمون (دقیقه): تستی: ۹۰، تشریحی: ۰، سری سوال: یک ۱

عنوان درس: اصول علم اقتصاد ۲، اصول علم اقتصاد ۳ (کلان - جهانگردی)، اقتصاد کلان

رشته تحصیلی/گد فرس: مدیریت جهانگردی ۱۲۲۱۰۰۳ - مدیریت دولتی ۱۲۲۱۰۰۶ - مدیریت صنعتی ۱۲۲۱۰۱۳ - حسابداری ۱۲۲۱۰۱۹ - مدیریت بازرگانی ۱۲۲۱۰۲۷ - حسابداری (چندبخشی)، علوم اقتصادی (نظری) چندبخشی، مدیریت دولتی (چندبخشی)، مدیریت بازرگانی (چندبخشی)، مدیریت صنعتی (چندبخشی)، مدیریت جهانگردی (چندبخشی) ۱۲۲۱۰۳۲

استفاده از ماشین حساب ساده مجاز است

۱- پرداخت پاداش به عوامل سرمایه، زمین و خدمات کارفرمایی و عامل تولید کار (مالک) در بخش غیر شرکتی ناشی از کدام یک از اجزای در آمد ملی محسوب می شود؟

۱. مزد و حقوق افراد
۲. سود بنگاهها
۳. خالص بهره و بهره پرداختی به افرا
۴. درآمد ناشی از اموال

۲- کدام گزینه صحیح نمی باشد؟

۱. تغییر در قیمت های جاری و تغییر در میزان فیزیکی تولید، هر دو تولید ناخالص ملی اسمی را تغییر می دهند.
۲. تولید ناخالص داخلی (GDP) عبارت است از تولید ناخالص ملی به اضافه درآمد عوامل تولید از خارج.
۳. اقتصاد زیرزمینی در محاسبه تولید ناخالص ملی در نظر گرفته نمی شود.
۴. تولید ناخالص ملی جامع ترین معیار فعالیت های اقتصادی یک جامعه است.

۳- اگر در کشوری تورم وجود نداشته باشد تولید ناخالص ملی اسمی و حقیقی چه رابطه ای با هم دارند؟

۱. تولید ناخالص ملی حقیقی بزرگتر از اسمی است.
۲. تولید ناخالص ملی اسمی بزرگتر از حقیقی است.
۳. تولید ناخالص ملی اسمی و حقیقی با هم مساوی هستند.
۴. تولید ناخالص ملی اسمی در هر صورت کوچکتر از حقیقی است.

۴- از نظر کلاسیک ها تولید تحت تاثیر کدام یک از عوامل تولید قرار می گیرد؟

۱. عوامل طرف عرضه
۲. عوامل طرف تقاضا
۳. هم عوامل طرف عرضه و هم عوامل طرف تقاضا
۴. تغییر حجم پول

۵- از نظر کلاسیک ها کدام گزینه بر سرعت گردش پولی تاثیر نمی گذارد؟

۱. استفاده از کارت های بانکی
۲. تسهیلات اعتباری
۳. عامل زمان وقتی بسیار کوتاه مدت است
۴. تکنولوژی در اقتصاد

۶- از نظر کلاسیک ها کدام یک از منابع تأمین مالی افزایش مخارج دولت بر تقاضای کل اثر خواهد داشت؟

۱. افزایش مالیات ها
۲. کاهش مالیات ها
۳. فروش اوراق قرضه
۴. چاپ اسکناس

سری سوال: ۱ یک

زمان آزمون (دقیقه): تستی: ۹۰ تشریحی: ۰

تعداد سوالات: تستی: ۴۰ تشریحی: ۰

عنوان درس: اصول علم اقتصاد ۲، اصول علم اقتصاد ۳ (کلان - جهانگردی)، اقتصاد کلان

رشته تحصیلی/گد فرس: مدیریت جهانگردی ۱۳۳۱۰۰۳ - مدیریت دولتی ۱۳۳۱۰۰۶ - مدیریت صنعتی ۱۳۳۱۰۱۳ - حسابداری ۱۳۳۱۰۱۹ - مدیریت بازرگانی ۱۳۳۱۰۲۷ - حسابداری (چندبخشی)، علوم اقتصادی (نظری) (چندبخشی)، مدیریت دولتی (چندبخشی)، مدیریت بازرگانی (چندبخشی)، مدیریت صنعتی (چندبخشی)، مدیریت جهانگردی (چندبخشی) ۱۳۳۱۰۳۲

۷- با توجه به اطلاعات داده شده $T=100$ و $G=100$ و $I=500$ و $C=200+\frac{1}{75}Y_d$ میزان درآمد ملی تعادلی کدام گزینه است

۱. ۱۷۲۵ ۲. ۲۱۷۵ ۳. ۲۹۰۰ ۴. ۷۲۵

۸- با توجه به اطلاعات داده شده $T=100$ و $G=100$ و $I=500$ و $C=200+\frac{1}{75}Y_d$ چنانچه دولت همزمان مالیات و مخارج خود را ۱۰۰ واحد افزایش دهد ($\Delta T = \Delta G = 100$) میزان درآمد ملی تعادلی چقدر تغییری خواهد کرد؟

۱. ۱۰۰ واحد افزایش می یابد. ۲. ۱۰۰ واحد کاهش می یابد.
۳. ۱ واحد افزایش می یابد. ۴. ۱ واحد کاهش می یابد.

۹- با توجه به اطلاعات داده شده $T=100$ و $G=100$ و $I=500$ و $C=200+\frac{1}{75}Y_d$ ضریب افزایش مالیات و ضریب افزایش مخارج دولت کدام گزینه است

۱. ضریب افزایش مالیات ۴ و ضریب افزایش مخارج دولت ۵
۲. ضریب افزایش مالیات ۴ و ضریب افزایش مخارج دولت ۴
۳. ضریب افزایش مالیات ۳- و ضریب افزایش مخارج دولت ۴
۴. ضریب افزایش مالیات ۴- و ضریب افزایش مخارج دولت ۴

۱۰- در یک اقتصاد سه بخشی با کاهش مالیات ها به میزان ۵۰ واحد ($\Delta T = -50$) تولید تعادلی به میزان ۳۵۰ افزایش یافته است ($\Delta Y^* = 350$) میل نهایی به پس انداز را بدست آورید؟

۱. ۰/۱۲۵ ۲. ۰/۱۵ ۳. ۰/۸۷۵ ۴. ۰/۳۰

۱۱- رابطه $MPC + MPS = 1$ تحت چه شرایطی برقرار است؟

۱. فقط هنگامی که اقتصاد در تعادل باشد.
۲. فقط هنگامی که سیاست های مالی انبساطی اتخاذ شود.
۳. فقط هنگامی که سیاست های مالی انقباضی اتخاذ شود.
۴. همواره برقرار است.

سری سوال: ۱ یک

زمان آزمون (دقیقه): تستی: ۹۰ تشریحی: ۰

تعداد سوالات: تستی: ۴۰ تشریحی: ۰

عنوان درس: اصول علم اقتصاد ۲، اصول علم اقتصاد ۳ (کلان - جهانگردی)، اقتصاد کلان

رشته تحصیلی/گد فرس: مدیریت جهانگردی ۱۳۲۱۰۰۳ - مدیریت دولتی ۱۳۲۱۰۰۶ - مدیریت صنعتی ۱۳۲۱۰۱۳ - حسابداری ۱۳۲۱۰۱۹ - مدیریت بازرگانی ۱۳۲۱۰۲۷ - حسابداری (چندبخشی)، علوم اقتصادی (نظری) چندبخشی، مدیریت دولتی (چندبخشی)، مدیریت بازرگانی (چندبخشی)، مدیریت صنعتی (چندبخشی)، مدیریت جهانگردی (چندبخشی) ۱۳۲۱۰۳۲

۱۲- کدام یک از موارد زیر در خصوص سرمایه گذاری صحیح نمی باشد؟

۱. تنها سرمایه گذاری برنامه ریزی شده است که تقاضا برای تولید ایجاد می کند.
۲. نرخ بازده مورد انتظار، نرخ سود مورد انتظار است که بر حسب درصدی از هزینه طرح بیان می شود.
۳. کینز عقیده داشت که تغییر در انتظارات مدیران بنگاههای اقتصادی درباره سود دهی آتی طرح های سرمایه گذاری علت عمده بی ثباتی سرمایه گذاری است.
۴. کینز معتقد است سرمایه گذاری متغیرترین جزء مخارج غیر مستقل است.

۱۳- با افزایش انتظارات تورمی مصرف بخش خصوصی چگونه تغییر خواهد کرد؟

۱. مصرف کاهش می یابد.
۲. مصرف افزایش می یابد.
۳. مصرف ثابت می ماند.
۴. اثر آن بر مصرف نامعین است.

۱۴- کدام یک از متغیرها به ترتیب جریان هرز و تزریق می باشد؟

۱. $S = \text{جریان هرز و جریان تزریق}$
۲. $I = \text{جریان هرز و جریان تزریق}$
۳. $X = \text{جریان هرز و جریان تزریق}$
۴. $M = \text{جریان هرز و جریان تزریق}$

۱۵- چنانچه در یک اقتصاد رابطه $S + T > I + G$ وجود داشته باشد...

۱. در اقتصاد افزایش ناخواسته در موجودی ها و مازاد عرضه وجود دارد.
۲. در اقتصاد کاهش ناخواسته در موجودی ها و مازاد تقاضا وجود دارد.
۳. در اقتصاد افزایش ناخواسته در موجودی ها و مازاد تقاضا وجود دارد.
۴. در اقتصاد کاهش ناخواسته در موجودی ها و مازاد عرضه وجود دارد.

۱۶- ضریب افزایش خالص مالیات ها می تواند اثر در مالیات پرداختی یا در پرداخت های انتقالی (هر دو) را نشان دهد.

۱. کاهش - افزایش
۲. افزایش - کاهش
۳. افزایش - افزایش
۴. کاهش - کاهش

تعداد سوالات: تستی: ۴۰؛ تشریحی: ۰. زمان آزمون (دقیقه): تستی: ۹۰؛ تشریحی: ۰. سری سوال: ۱ یک

عنوان درس: اصول علم اقتصاد ۲، اصول علم اقتصاد ۳ (کلان - جهانگردی)، اقتصاد کلان

رشته تحصیلی/گد فرس: مدیریت جهانگردی ۱۳۲۱۰۰۳ - مدیریت دولتی ۱۳۲۱۰۰۶ - مدیریت صنعتی ۱۳۲۱۰۱۳ - حسابداری ۱۳۲۱۰۱۹ - مدیریت بازرگانی ۱۳۲۱۰۲۷ - حسابداری (چندبخشی)، علوم اقتصادی (نظری) (چندبخشی)، مدیریت دولتی (چندبخشی)، مدیریت بازرگانی (چندبخشی)، مدیریت صنعتی (چندبخشی)، مدیریت جهانگردی (چندبخشی) ۱۳۲۱۰۳۲

۱۷- چنانچه سرمایه گذاری به دلیل کاهش بازدهی انتظاری در یک اقتصاد به میزان ۲۰۰ واحد کاهش یابد و میل نهایی به مصرف ۰/۷۵ باشد سیاستگذاران برای خنثی نمودن ۸۰۰ واحد کاهش تولید تعادلی، میزان مالیات ها را باید به چه میزان کاهش دهند؟

۰.۱ ۲۰۰ .۲ ۳۰۰ .۳ ۲۶۷ .۴ ۲۵۰

۱۸- در یک اقتصاد باز کدام یک از متغیرها به صورت مخارج مستقل در نظر گرفته می شوند؟

۰.۱ M واردات .۲ T مالیات .۳ C مصرف .۴ X صادرات

۱۹- اگر در یک اقتصاد چهار بخشی، میل نهایی به واردات ۰/۱ و میل نهایی به مصرف ۰/۷ و میل نهایی به مالیات ۰/۲ می باشد. ضریب افزایش واردات برابر است با

۰.۱ -۱/۸۵ .۲ -۱/۵۸ .۳ -۲/۳۳ .۴ -۲/۲۷

۲۰- هر گاه تابع سرمایه گذاری به صورت $I = F(r)$ و رابطه سرمایه گذاری با نرخ بهره (r) معکوس باشد و MEC بازده نهایی سرمایه گذاری باشد در این صورت

- ۰.۱ اگر $MEC > r$ باشد سرمایه گذاری افزایش می یابد.
- ۰.۲ اگر $MEC > r$ باشد سرمایه گذاری کاهش می یابد.
- ۰.۳ اگر $MEC < r$ باشد سرمایه گذاری افزایش می یابد.
- ۰.۴ اگر $MEC < r$ باشد سرمایه گذاری تغییری نمی کند.

۲۱- چنانچه داشته باشیم $T = ۰/۲Y$ و $C = ۲۰ + ۰/۷۵(y - T)$ و $G = ۱۰۰$ و $I = ۱۰۰ - ۲۲r$ (سرمایه گذاری) باشد معادله IS کدام است؟

۰.۱ $Y = \frac{1000}{44} - \frac{100}{44}r$.۲ $Y = 585 - 15r$.۳ $Y = 1000 - 50r$.۴ $Y = 550 - 55r$

۲۲- کدام گزینه از نظرات کلاسیک ها در خصوص تقاضای پول درست نمی باشد؟

- ۰.۱ تقاضای پول تنها به درآمد بستگی دارد.
- ۰.۲ تقاضای پول علاوه بر درآمد به نرخ بهره نیز بستگی دارد.
- ۰.۳ سرعت گردش پول نسبت به درآمد مقداری ثابت است.
- ۰.۴ تقاضای پول تابعی از حجم معاملات افراد است.

۲۳- کدام یک از سیاست های زیر سیاست مالی انبساطی است؟

۰.۱ افزایش مخارج دولتی .۲ افزایش مالیات ها .۳ کاهش مخارج دولتی .۴ افزایش واردات

سری سوال: ۱ یک

زمان آزمون (دقیقه): تستی: ۹۰ تشریحی: ۰

تعداد سوالات: تستی: ۴۰ تشریحی: ۰

عنوان درس: اصول علم اقتصاد ۲، اصول علم اقتصاد ۳ (کلان - جهانگردی)، اقتصاد کلان

رشته تحصیلی/گد فرس: مدیریت جهانگردی ۱۳۲۱۰۰۳ - مدیریت دولتی ۱۳۲۱۰۰۶ - مدیریت صنعتی ۱۳۲۱۰۱۳ - حسابداری ۱۳۲۱۰۱۹ - مدیریت بازرگانی ۱۳۲۱۰۲۷ - حسابداری (چندبخشی)، علوم اقتصادی (نظری) چندبخشی، مدیریت دولتی (چندبخشی)، مدیریت بازرگانی (چندبخشی)، مدیریت صنعتی (چندبخشی)، مدیریت جهانگردی (چندبخشی) ۱۳۲۱۰۳۲

۲۴- با کاهش سطح عمومی قیمت ها

۱. عرضه حقیقی پول افزایش یافته منحنی LM به سمت چپ منتقل می شود
۲. عرضه حقیقی پول کاهش یافته منحنی LM به سمت راست منتقل می شود
۳. عرضه حقیقی پول افزایش یافته منحنی LM با تغییر شیب به سمت چپ منتقل می شود
۴. عرضه حقیقی پول افزایش یافته منحنی LM به سمت راست منتقل می شود

۲۵- سود آورترین فعالیت بانک چیست؟

۱. پذیرش سپرده
۲. عامل پرداخت
۳. انتشار اسکناس
۴. ارائه وام به مشتریان

۲۶- کدام گزینه در خصوص بانک مرکزی صحیح نمی باشد؟

۱. مهمترین وظیفه بانک مرکزی اجرای سیاست های پولی در یک کشور است.
۲. بانک مرکزی عموماً بانک دولت محسوب می شود.
۳. بانک مرکزی جهت کنترل حجم پول و اعتبار، درصدی از ذخایر بانک های بازرگانی را تحت عنوان ذخیره قانونی نزد خود نگهداری می نماید.
۴. بانک مرکزی جهت کنترل تورم از سیاست پولی انبساطی استفاده می نماید.

۲۷- کدام یک از موارد زیر سیاست پولی انقباضی نامیده می شود؟

۱. فروش اوراق قرضه
۲. خرید اوراق قرضه
۳. کاهش نرخ تنزیل مجدد
۴. کاهش نرخ ذخیره قانونی

۲۸- کدام گزینه از ویژگی های بازار کار در الگوی کینزی است؟

۱. افزایش مداوم مزد پولی، وجود اطلاعات کامل
۲. انعطاف پذیری کامل مزد پولی، وجود اطلاعات ناقص
۳. انعطاف ناپذیری کامل مزد پولی، وجود اطلاعات ناقص
۴. افزایش مزد حقیقی بیش از افزایش سطح عمومی قیمت ها

تعداد سوالات: تستی: ۴۰: تشریحی: ۰
زمان آزمون (دقیقه): تستی: ۹۰: تشریحی: ۰
سری سوال: ۱ یک

عنوان درس: اصول علم اقتصاد ۲، اصول علم اقتصاد ۳ (کلان - جهانگردی)، اقتصاد کلان

رشته تحصیلی/گد فرس: مدیریت جهانگردی ۱۳۲۱۰۰۳ - مدیریت دولتی ۱۳۲۱۰۰۶ - مدیریت صنعتی ۱۳۲۱۰۱۳ - حسابداری ۱۳۲۱۰۱۹ - مدیریت بازرگانی ۱۳۲۱۰۲۷ - حسابداری (چندبخشی)، علوم اقتصادی (نظری) (چندبخشی)، مدیریت دولتی (چندبخشی)، مدیریت بازرگانی (چندبخشی)، مدیریت صنعتی (چندبخشی)، مدیریت جهانگردی (چندبخشی) ۱۳۲۱۰۳۲

۲۹- کدام یک از سیاست های زیر منجر به انتقال منحنی تقاضای کل اقتصاد به سمت چپ می گردد؟

۱. اعمال سیاست های پولی انبساطی
۲. اعمال سیاست پولی انقباضی
۳. اعمال سیاست های مالی انبساطی
۴. افزایش مخارج سرمایه گذاری

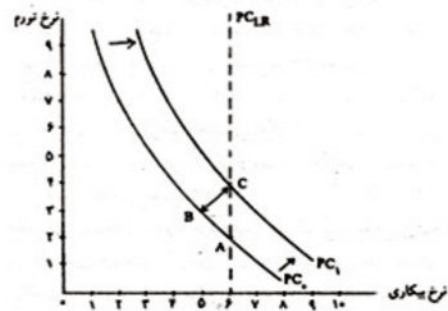
۳۰- هر چه اقتصاد از تولید بالقوه دورتر باشد تولید حقیقی بیشتر و سطح قیمت ها کمتر خواهد بود.

۱. کاهش - کاهش
۲. افزایش- افزایش
۳. افزایش- کاهش
۴. کاهش- افزایش

۳۱- در صورت بروز تورم وام گیرندگان و وام دهندگان

۱. سود می برند - زیان می کنند.
۲. زیان می کنند - سود می برند.
۳. زیان می کنند - زیان می کنند
۴. سود می برند - سود می برند

۳۲- در شکل مقابل PC عمودی کدام منحنی را نشان می دهد؟



۱. منحنی فیلیپس کوتاه مدت
۲. منحنی فیلیپس پول گرایان بلند مدت
۳. منحنی عرضه پول گرایان
۴. منحنی تقاضای کلاسیک های جدید

۳۳- کدام یک از موارد از نظریات پول گرایان نمی باشد؟

۱. پول گرایان عقیده داشتند تغییرات در حجم پول باعث تغییرات متناسب در تولید ناخالص ملی پولی می گردد.
۲. در نظریه پول گرایان سرعت گردش پول و تولید ثابت نمی باشد.
۳. فریدمن معتقد است اگر دولت در اقتصاد مداخله نکند اقتصاد به سمت نرخ های طبیعی تولید و بیکاری حرکت خواهد کرد.
۴. فریدمن تقاضای بخش خصوصی را بی ثبات می دانست.

سری سوال: ۱ یک

زمان آزمون (دقیقه): تستی: ۹۰ تشریحی: ۰

تعداد سوالات: تستی: ۴۰ تشریحی: ۰

عنوان درس: اصول علم اقتصاد ۲، اصول علم اقتصاد ۳ (کلان - جهانگردی)، اقتصاد کلان

رشته تحصیلی/گد فرس: مدیریت جهانگردی ۱۲۲۱۰۰۳ - مدیریت دولتی ۱۲۲۱۰۰۶ - مدیریت صنعتی ۱۲۲۱۰۱۳ - حسابداری ۱۲۲۱۰۱۹ - مدیریت بازرگانی ۱۲۲۱۰۲۷ - حسابداری (چندبخشی)، علوم اقتصادی (نظری) (چندبخشی)، مدیریت دولتی (چندبخشی)، مدیریت بازرگانی (چندبخشی)، مدیریت صنعتی (چندبخشی)، مدیریت جهانگردی (چندبخشی) ۱۲۲۱۰۳۲

۳۴- صاحب نظران کلاسیک جدید می گویند برای اینکه سیاست تثبیت کارآیی داشته باشد باید سیستماتیک باشد و

اگر سیستماتیک باشد

۱. قابل پیش بینی خواهد بود و متغیرهای حقیقی مانند تولید و اشتغال را تحت تاثیر قرار نخواهد داد.
۲. غیر قابل پیش بینی خواهد بود و متغیرهای حقیقی مانند تولید و اشتغال را در بلند مدت تحت تاثیر شدید قرار خواهد داد.
۳. قابل پیش بینی خواهد بود و متغیرهای حقیقی مانند تولید و اشتغال را تحت تاثیر قرار خواهد داد.
۴. غیر قابل پیش بینی خواهد بود و متغیرهای حقیقی مانند تولید و اشتغال را تحت تاثیر قرار نخواهد داد.

۳۵- کدام یک از استراتژیهای زیر، کنترل تورم را در میان مدت (۳ تا ۵ سال) به خاطر تعهد دستیابی به نرخ های هدف رشد عرضه پول تضمین می کند؟

۱. استراتژی هدف قرار دادن نرخ بهره
۲. استراتژی هدف قرار دادن سطح اعتبارات
۳. استراتژی هدف قرار دادن غیر مستقیم عرضه پول
۴. استراتژی هدف قرار دادن میزان بدهی ها

۳۶- کدام یک از نقش های سیاست مالی عموماً با چشم پوشی از اصول بودجه متعادل، قابل دستیابی است؟

۱. تخصیص
۲. توزیع
۳. تثبیت
۴. تعدیل

۳۷- پیروان کینز معتقدند ترکیب سیاست مالی انبساطی و سیاست پولی انقباضی چه پیامدی را به همراه خواهد داشت؟

۱. افزایش کسری تراز تجاری یعنی فزونی واردات کالا بر صادرات کالا
۲. افزایش کسری تراز تجاری یعنی فزونی صادرات کالا بر واردات کالا
۳. کاهش کسری تراز تجاری یعنی فزونی واردات کالا بر صادرات کالا
۴. تعادل در تراز تجاری یعنی فزونی واردات کالا بر صادرات کالا

۳۸- آن بخش از کسری بودجه که حتی اگر اقتصاد در سطح بالقوه تولید فعالیت کند وجود خواهد داشت چه نامیده می شود؟

۱. کسر بودجه ساختاری
۲. کسر بودجه ادواری
۳. کسر بودجه تجاری
۴. کسر بودجه ناشی از رکود اقتصادی

سری سوال: ۱ یک

زمان آزمون (دقیقه): تستی: ۹۰ تشریحی: ۰

تعداد سوالات: تستی: ۴۰ تشریحی: ۰

عنوان درس: اصول علم اقتصاد ۲، اصول علم اقتصاد ۳ (کلان - جهانگردی)، اقتصاد کلان

رشته تحصیلی/گد فرس: مدیریت جهانگردی ۱۳۳۱۰۰۳ - مدیریت دولتی ۱۳۳۱۰۰۶ - مدیریت صنعتی ۱۳۳۱۰۱۳ - حسابداری ۱۳۳۱۰۱۹ - مدیریت بازرگانی ۱۳۳۱۰۲۷ - حسابداری (چندبخشی)، علوم اقتصادی (نظری) چندبخشی، مدیریت دولتی (چندبخشی)، مدیریت بازرگانی (چندبخشی)، مدیریت صنعتی (چندبخشی)، مدیریت جهانگردی (چندبخشی) ۱۳۳۱۰۳۲

۳۹- افزایش بهره وری در اثر تخصیص و تقسیم کار بیشتر چه نامیده می شود؟

۱. کارآیی
۲. اثر بخشی
۳. بهره وری عامل تولید
۴. صرفه جویی نسبت به مقیاس

۴۰- اگر سرمایه گذاری در بسیاری از بخش های اقتصاد صورت گیرد تا همه بخش ها با هم رشد کنند از چه استراتژی رشد استفاده شده است؟

۱. استراتژی رشد نامتعادل
۲. استراتژی رشد متعادل
۳. استراتژی توسعه صادرات
۴. استراتژی جایگزینی واردات

91-92-2

شماره سوال	الف	ب	ج	د	پاسخ صحيح
۱			X		عادي
۲		X			عادي
۳			X		عادي
۴			X		عادي
۵		X			عادي
۶				X	عادي
۷			X		عادي
۸		X			عادي
۹			X		عادي
۱۰	X				عادي
۱۱			X		عادي
۱۲				X	عادي
۱۳	X				عادي
۱۴			X		عادي
۱۵			X		عادي
۱۶		X			عادي
۱۷				X	عادي
۱۸			X		عادي
۱۹		X			عادي
۲۰			X		عادي
۲۱		X			عادي
۲۲			X		عادي
۲۳	X				عادي
۲۴				X	عادي
۲۵	X				عادي
۲۶			X		عادي
۲۷				X	عادي
۲۸		X			عادي
۲۹			X		عادي
۳۰			X		عادي
۳۱	X				عادي
۳۲		X			عادي
۳۳	X				عادي
۳۴			X		عادي
۳۵			X		عادي
۳۶		X			عادي
۳۷			X		عادي
۳۸		X			عادي
۳۹	X				عادي
۴۰		X			عادي

سری سوال: یک ۱

زمان آزمون (دقیقه): تستی: ۹۰ تشریحی: ۰

تعداد سوالات: تستی: ۴۰ تشریحی: ۰

عنوان درس: اصول علم اقتصاد ۲، اصول علم اقتصاد ۳ (کلان - جهانگردی)، اقتصاد کلان

رشته تحصیلی/گد فرس: مدیریت جهانگردی ۱۳۳۱۰۰۳ - مدیریت دولتی ۱۳۳۱۰۰۶ - مدیریت صنعتی ۱۳۳۱۰۱۲ - حسابداری ۱۳۳۱۰۱۹ - مدیریت بازرگانی ۱۳۳۱۰۲۷ - حسابداری (چندبخشی)، علوم اقتصادی (نظری) (چندبخشی)، مدیریت بازرگانی (چندبخشی)، مدیریت جهانگردی (چندبخشی)، مدیریت دولتی (چندبخشی)، مدیریت صنعتی (چندبخشی) ۱۳۳۱۰۳۲

استفاده از ماشین حساب ساده مجاز است

۱- کدام جزء سرمایه گذاری دارای نوسانات می باشد؟

۱. سرمایه گذاری ثابت
۲. سرمایه گذاری در تجهیزات
۳. سرمایه گذاری در ماشین آلات
۴. ساختمان واحدهای مسکونی

۲- کدام گزینه در مورد استهلاک صحیح است؟

۱. هزینه ای است که برای به دست آوردن درآمد ملی متحمل می شویم ولی در تولید ناخالص ملی وجود ندارد.
۲. در محاسبه ی درآمد ملی، ارزش استهلاک باید از فروش نهایی کسر شود.
۳. استهلاک منبعی برای پرداخت به عوامل تولید است نه هزینه ی تولید
۴. استهلاک آن بخش از ارزش موجودی سرمایه است که در پایان عمر مفید آن باقی می ماند.

۳- نشان دهنده ی اختلاف بین تولید ناخالص داخلی و تولید ناخالص ملی می باشد.

۱. خالص درآمد عوامل تولید از خارج
۲. استهلاک
۳. خالص مالیات های غیر مستقیم
۴. تورم زدایی ضمنی

۴- درآمد فردی قابل تصرف شامل کدام اقلام است؟

۱. مخارج مصرفی + پس انداز
۲. پس انداز + بهره ی بانکی + یارانه های مستقیم و غیر مستقیم
۳. مخارج مصرفی + پس انداز + بهره ی پرداختی به بنگاه ها
۴. پس انداز + بهره ی بانکی + یارانه های مستقیم و غیر مستقیم

۵- کدام گزینه نشان دهنده ی بازار کار کلاسیک است؟

۱. عرضه ی نیروی کار به مزد اسمی و تقاضای نیروی کار به مزد حقیقی بستگی دارد.
۲. تقاضای نیروی کار به مزد اسمی و عرضه ی نیروی کار به مزد حقیقی بستگی دارد.
۳. عرضه و تقاضای نیروی کار هر دو به مزد حقیقی بستگی دارند.
۴. عرضه و تقاضای نیروی کار هر دو به مزد اسمی بستگی دارند.

تعداد سوالات: تستی: ۴۰؛ تشریحی: ۰. زمان آزمون (دقیقه): تستی: ۹۰؛ تشریحی: ۰. سری سوال: ۱ یک

عنوان درس: اصول علم اقتصاد ۲، اصول علم اقتصاد ۳ (کلان - جهانگردی)، اقتصاد کلان

رشته تحصیلی/گد فرس: مدیریت جهانگردی ۱۲۲۱۰۰۳ - مدیریت دولتی ۱۲۲۱۰۰۶ - مدیریت صنعتی ۱۲۲۱۰۱۲ - حسابداری ۱۲۲۱۰۱۹ - مدیریت بازرگانی ۱۲۲۱۰۲۷ - حسابداری (چندبخشی)، علوم اقتصادی (نظری) چندبخشی، مدیریت بازرگانی (چندبخشی)، مدیریت جهانگردی (چندبخشی)، مدیریت دولتی (چندبخشی)، مدیریت صنعتی (چندبخشی) ۱۲۲۱۰۳۲

۶- در الگوی کلاسیک مقدار تولید توسط و سطح عمومی قیمت ها توسط تعیین می شود.

۱. عرضه ی کل - تقاضای کل
۲. تقاضای کل - عرضه ی کل
۳. عرضه ی کل - عرضه ی کل
۴. تقاضای کل - تقاضای کل

۷- کدام گزینه نشان دهنده ی نظریه ی مقداری پول می باشد؟

۱. نظریه ی تقاضای پول کیندی
۲. نظریه ی عرضه ی پول نئوکلاسیک
۳. نظریه ی تقاضای کل کلاسیک
۴. نظریه ی عرضه ی پول کیندی

۸- در الگوی کلاسیک کدام گزینه باعث تطبیق خودکار با وضعیت اشتغال می شود؟

۱. خنثی بودن پول
۲. انعطاف پذیری دستمزدها
۳. عمودی بودن منحنی عرضه ی کل
۴. عدم تأثیر سیاست های مالی در اقتصاد

۹- افزایش مصرف در نتیجه ی افزایش یک واحد درآمد را می نامیم.

۱. میل نهایی به مصرف
۲. میل نهایی به پس انداز
۳. میل متوسط به مصرف
۴. میل متوسط به پس انداز

۱۰- اگر با افزایش ۱۰۰ واحد درآمد، مصرف ۸۰ واحد افزایش پیدا کند، MPS چه قدر است؟

۱. $0/8$
۲. 80
۳. $0/2$
۴. 20

۱۱- کدام گزینه صحیح است؟

۱. $MPC - MPS = 1$
۲. $MPC + MPS = 1$
۳. $MPC = 1 + MPS$
۴. $MPS = 1 + MPC$

۱۲- هزینه ی تأمین مالی طرح سرمایه گذاری و درآمد آن می باشد.

۱. نرخ بازدهی مورد انتظار - نرخ بهره ی مورد انتظار
۲. نرخ بهره ی آتی - نرخ بازدهی آتی
۳. نرخ بهره ی بازار - نرخ بازدهی مورد انتظار
۴. نرخ بازدهی مورد انتظار - نرخ بهره ی آتی

۱۳- اگر تابع مصرف به صورت $C = 100 + 0/8Y$ باشد، مقدار پس انداز در درآمد ۱۰۰۰ چه قدر است؟

۱. 100
۲. 900
۳. 250
۴. 450

تعداد سوالات: تستی: ۴۰، تشریحی: ۰. زمان آزمون (دقیقه): تستی: ۹۰، تشریحی: ۰. سری سوال: ۱ یک

عنوان درس: اصول علم اقتصاد ۲، اصول علم اقتصاد ۳ (کلان - جهانگردی)، اقتصاد کلان

رشته تحصیلی/گد فرس: مدیریت جهانگردی ۱۳۳۱۰۰۳ - مدیریت دولتی ۱۳۳۱۰۰۶ - مدیریت صنعتی ۱۳۳۱۰۱۳ - حسابداری ۱۳۳۱۰۱۹ - مدیریت بازرگانی ۱۳۳۱۰۲۷ - حسابداری (چندبخشی)، علوم اقتصادی (نظری) (چندبخشی)، مدیریت بازرگانی (چندبخشی)، مدیریت جهانگردی (چندبخشی)، مدیریت دولتی (چندبخشی)، مدیریت صنعتی (چندبخشی) ۱۳۳۱۰۳۲

۱۴- فاصله ی بین منحنی تقاضای کل و تابع مصرف در مدل سه بخشی عبارت است از

۱. I ۲. $C + I$ ۳. $C + I + G$ ۴. $I + G$

۱۵- اگر جریان تزریق $(I + G)$ بیش تر از جریان هرز $(S + T)$ باشد، وجود دارد.

۱. کمبود ناخواسته در موجودی انبار به اندازه ی $(I + G) - (S + T)$

۲. کمبود ناخواسته در موجودی انبار به اندازه ی $(S + T) - (I + G)$

۳. انباشت ناخواسته در موجودی انبار به اندازه ی $(I + G) - (S + T)$

۴. انباشت ناخواسته در موجودی انبار به اندازه ی $(S + T) - (I + G)$

۱۶- اگر با افزایش سرمایه گذاری مستقل از ۱۰۰ به ۳۰۰ تولید تعادلی ۵۰۰ واحد افزایش پیدا کند، MPC چقدر است؟

۱. $0/4$ ۲. $0/6$ ۳. $0/8$ ۴. $0/75$

۱۷- تغییر مشخص در مخارج مستقل باعث افزایش چند برابر تولید و درآمد ملی می گردد. این چند برابر افزایش، خوانده می شود.

۱. تغییر در موجودی انبار ۲. میل نهایی به مصرف

۳. ضریب افزایش مخارج مستقل کینزی ۴. برابری تراوشات و تزریقات

۱۸- در یک جامعه فرضی که در آن مصرف مستقل ۲۰ واحد، میل نهایی به مصرف $0/8$ ، مالیات مستقل ۵۰، نرخ مالیات $0/25$ ، واردات مستقل ۵۰، میل نهایی به واردات $0/1$ ، صادرات مستقل ۲۵۰، مخارج دولت ۳۰۰ و سرمایه گذاری ۲۰۰ باشد، درآمد ملی تعادلی چقدر است؟

۱. ۲۰۰۰ ۲. ۱۳۶۰ ۳. ۳۲۲۲ ۴. ۱۳۴۰

۱۹- در مسأله قبل اگر مخارج دولت و مالیات ثابت به طور همزمان ۵۰ واحد افزایش یابد، درآمد ملی تعادلی چقدر تغییر می کند؟

۱. $38/5$ ۲. $42/4$ ۳. 50 ۴. $46/6$

۲۰- منحنی IS مکان هندسی ترکیببات است که را متعادل می سازد.

۱. نرخ بهره و سرمایه گذاری - بازار کالا ۲. نرخ بهره و سرمایه گذاری - بازار پول

۳. نرخ بهره و درآمد ملی - بازار پول ۴. نرخ بهره و درآمد ملی - بازار کالا

تعداد سوالات: تستی: ۴۰؛ تشریحی: ۰. زمان آزمون (دقیقه): تستی: ۹۰؛ تشریحی: ۰. سری سوال: ۱ یک

عنوان درس: اصول علم اقتصاد ۲، اصول علم اقتصاد ۳ (کلان - جهانگردی)، اقتصاد کلان

رشته تحصیلی/گد فرس: مدیریت جهانگردی ۱۲۲۱۰۰۳ - مدیریت دولتی ۱۲۲۱۰۰۶ - مدیریت صنعتی ۱۲۲۱۰۱۲ - حسابداری ۱۲۲۱۰۱۹ - مدیریت بازرگانی ۱۲۲۱۰۲۷ - حسابداری (چندبخشی)، علوم اقتصادی (نظری) (چندبخشی)، مدیریت بازرگانی (چندبخشی)، مدیریت جهانگردی (چندبخشی)، مدیریت دولتی (چندبخشی)، مدیریت صنعتی (چندبخشی) ۱۲۲۱۰۳۲

۲۱- در تعریف پول M_p شامل و M_p شامل می شود.

۱. سپرده های دیداری - گواهی نامه ی سپرده
۲. سپرده های مدت دار - سپرده های دیداری
۳. سپرده های مدت دار - گواهی نامه ی سپرده
۴. گواهی نامه ی سپرده - سپرده های دیداری

۲۲- چرا شیب منحنی تقاضای پول کنیزی منفی است؟

۱. زیرا مقدار تقاضای پول به طور معکوس به نرخ بهره بستگی دارد.
۲. زیرا مقدار تقاضای پول به طور معکوس درآمد ملی بستگی دارد.
۳. زیرا مقدار تقاضای پول به طور معکوس به عرضه ی پول بستگی دارد.
۴. زیرا مقدار تقاضای پول به طور معکوس به مقدار سرمایه گذاری بستگی دارد.

۲۳- کدام گزینه نشان دهنده ی فرآیند بیرون کردن بخش خصوصی از بازار است؟

۱. سیاست پولی انبساطی ← کاهش نرخ بهره ← افزایش سرمایه گذاری
۲. سیاست مالی انبساطی ← افزایش نرخ بهره ← کاهش سرمایه گذاری
۳. سیاست پولی انقباضی ← کاهش نرخ بهره ← کاهش سرمایه گذاری
۴. سیاست مالی انقباضی ← کاهش نرخ بهره ← افزایش سرمایه گذاری

۲۴- کدام گزینه باعث انتقال منحنی LM به چپ می شود؟

۱. افزایش عرضه ی پول
۲. کاهش عرضه ی پول
۳. افزایش مخارج دولت
۴. کاهش مخارج دولت

۲۵- کدام مورد جزء اهداف سیاست های پولی بانک مرکزی نمی باشد؟

۱. جلوگیری از بروز تورم
۲. افزایش نرخ رشد اقتصادی
۳. ثبات ارزش خارجی پول
۴. کنترل حجم مخارج دولت

۲۶- اگر بانک مرکزی با ۵۰۰ واحد افزایش در ذخایر، سپرده ها را به ۲۵۰۰ واحد برساند، نرخ ذخیره ی قانونی چقدر است؟

۱. ۰/۲
۲. ۰/۳
۳. ۰/۲۵
۴. ۰/۱

سری سوال: ۱ یک

زمان آزمون (دقیقه): تستی: ۹۰ تشریحی: ۰

تعداد سوالات: تستی: ۴۰ تشریحی: ۰

عنوان درس: اصول علم اقتصاد ۲، اصول علم اقتصاد ۳ (کلان - جهانگردی)، اقتصاد کلان

رشته تحصیلی/گد درس: مدیریت جهانگردی ۱۲۲۱۰۰۳ - مدیریت دولتی ۱۲۲۱۰۰۶ - مدیریت صنعتی ۱۲۲۱۰۱۲ - حسابداری ۱۲۲۱۰۱۹ - مدیریت بازرگانی ۱۲۲۱۰۲۷ - حسابداری (چندبخشی)، علوم اقتصادی (نظری) (چندبخشی)، مدیریت بازرگانی (چندبخشی)، مدیریت جهانگردی (چندبخشی)، مدیریت دولتی (چندبخشی)، مدیریت صنعتی (چندبخشی) ۱۲۲۱۰۳۲

۲۷- باعث شدن منحنی تقاضای کل می شود.

۱. اثر نرخ بهره و اثر ثروت - صعودی
۲. اثر نرخ بهره و اثر ثروت - نزولی
۳. اثر جانشینی و اثر درآمدی - صعودی
۴. اثر جانشینی و اثر درآمدی - نزولی

۲۸- کدام گزینه صحیح است؟

۱. افزایش مالیات ها باعث جا به جایی منحنی IS به سمت راست و تغییر مکان منحنی تقاضای کل به سمت راست می شود.
۲. افزایش مالیات ها باعث جا به جایی منحنی IS به سمت چپ و تغییر مکان منحنی تقاضای کل به سمت راست می شود.
۳. افزایش مالیات ها باعث جا به جایی منحنی IS به سمت راست و تغییر مکان منحنی تقاضای کل به سمت چپ می شود.
۴. کاهش مالیات ها باعث جا به جایی منحنی IS به سمت راست و تغییر مکان منحنی تقاضای کل به سمت راست می شود.

۲۹- در نظریه ی کینز با افزایش انتظارات تورمی در جامعه

۱. منحنی عرضه ی کل به سمت چپ منتقل می شود.
۲. منحنی عرضه ی کل به سمت راست منتقل می شود.
۳. منحنی تقاضای کل به سمت چپ منتقل می شود.
۴. منحنی تقاضای کل به سمت راست منتقل می شود.

۳۰- کدام گزینه نشان دهنده نرخ بیکاری است؟

۱. نسبت تعداد کل نیروی کار فعال به تعداد کل جمعیت
۲. نسبت تعداد کل نیروی کار فعال به تعداد کل جمعیت بیکار ضربدر ۱۰۰
۳. نسبت تعداد کل نیروی کار فعال به تعداد کل جمعیت بیکار و جویای کار
۴. نسبت تعداد بیکاران به کل نیروی کار ضربدر ۱۰۰

۳۱- کدام گزینه در مورد منحنی فیلیپس صحیح نمی باشد؟

۱. روی منحنی فیلیپس نرخ های پایین بیکاری با نرخ های بالاتر تورم ارتباط پیدا می کند.
۲. در سطح تولید نزدیک به اشتغال کامل شیب منحنی فیلیپس بیش تر می شود.
۳. هر چه نرخ بیکاری بیش تر شود، شیب منحنی فیلیپس کم تر می شود.
۴. سیاستهای پولی و مالی انبساطی باعث انتقال منحنی فیلیپس به سمت راست می گردد.

تعداد سوالات: تستی: ۴۰ تشریحی: ۰ زمان آزمون (دقیقه): تستی: ۹۰ تشریحی: ۰ سری سوال: ۱ یک

عنوان درس: اصول علم اقتصاد ۲، اصول علم اقتصاد ۳ (کلان - جهانگردی)، اقتصاد کلان

رشته تحصیلی/گد فرسی: مدیریت جهانگردی ۱۲۲۱۰۰۳ - مدیریت دولتی ۱۲۲۱۰۰۶ - مدیریت صنعتی ۱۲۲۱۰۱۲ - حسابداری ۱۲۲۱۰۱۹ - مدیریت بازرگانی ۱۲۲۱۰۲۷ - حسابداری (چندبخشی)، علوم اقتصادی (نظری) (چندبخشی)، مدیریت بازرگانی (چندبخشی)، مدیریت جهانگردی (چندبخشی)، مدیریت دولتی (چندبخشی)، مدیریت صنعتی (چندبخشی) ۱۲۲۱۰۳۲

۳۲- کدام گزینه در مورد نظریات پول گرایان صحیح است؟

۱. عرضه ی پول تنها عاملی است که بر تقاضای کل و تولید ناخالص ملی اثر می گذارد.
۲. با افزایش حجم پول به میزان ۵۰٪ تولید ناخالص ملی پول بیشتر از ۵۰٪ افزایش پیدا می کند.
۳. منحنی عرضه ی پول گرایان یک منحنی صعودی و شیب منحنی عرضه ی کینز است.
۴. همه ی موارد صحیح می باشد.

۳۳- تورم مارپیچی توسط کدام گروه از اقتصاددانان بیان شد؟

۱. کلاسیک ها
۲. کینزین ها
۳. نئوکلاسیک ها
۴. پول گرایان

۳۴- چرا فریدمن موافق تغییر در نرخ رشد پول برای مقابله با اثرات کوتاه مدت شوک ها در اقتصاد نمی باشد؟

۱. زیرا معتقد است اثرات شوکها در کوتاه مدت و بلندمدت موقتی هستند.
۲. زیرا معتقد است ما نمی توانیم میزان شوک را به دقت اندازه گیری کنیم تا سیاستی برای مقابله با آن طراحی نماییم.
۳. زیرا معتقد است تغییرات در نرخ رشد پول اهمیت چندانی جهت مقابله با شوک ها در اقتصاد ندارد.
۴. زیرا معتقد است تغییرات در نرخ رشد پول نمی تواند منجر به افزایش تولید و اشتغال در اقتصاد شود.

۳۵- پایه گذار مکتب کلاسیک جدید کدام یک از اقتصاددانان زیر بوده است؟

۱. لوکاس
۲. فریدمن
۳. گوردن
۴. ریکاردو

۳۶- سیاست کلی پیروان مکتب بر اساس قواعد و مکتب بر اساس انتخاب سیاست گذار می باشد.

۱. کینز - کلاسیک جدید
۲. کلاسیک جدید - کینز
۳. پول گرایان - کلاسیک جدید
۴. کینز - پول گرایان

۳۷- کاهش نرخ تنزیل مجدد یک سیاست و فروش اوراق بهادار دولتی یک سیاست می باشد

۱. پولی انبساطی - پولی انقباضی
۲. پولی انقباضی - پولی انبساطی
۳. پولی انبساطی - پولی انبساطی
۴. پولی انقباضی - پولی انقباضی

۳۸- اصلی ترین منتقد استراتژی هدف قرار دادن اعتبارات، پیروان کدام مکتب اقتصادی هستند؟

۱. کلاسیک ها
۲. کلاسیک های جدید
۳. کینزین ها
۴. پول گرایان

سری سوال: ۱ یک

زمان آزمون (دقیقه): ۹۰ تشریحی: ۰

تعداد سوالات: تستی: ۴۰ تشریحی: ۰

عنوان درس: اصول علم اقتصاد ۲، اصول علم اقتصاد ۳ (کلان - جهانگردی)، اقتصاد کلان

رشته تحصیلی/گد درس: مدیریت جهانگردی ۱۲۲۱۰۰۳ - مدیریت دولتی ۱۲۲۱۰۰۶ - مدیریت صنعتی ۱۲۲۱۰۱۲ - حسابداری ۱۲۲۱۰۱۹ - مدیریت بازرگانی ۱۲۲۱۰۲۷ - حسابداری (چندبخشی)، علوم اقتصادی (نظری) چندبخشی، مدیریت بازرگانی (چندبخشی)، مدیریت جهانگردی (چندبخشی)، مدیریت دولتی (چندبخشی)، مدیریت صنعتی (چندبخشی) ۱۲۲۱۰۳۲

۳۹- از نظر پیروان کینز، ترکیب سیاست مالی انبساطی و پولی انقباضی باعث تراز تجاری می شود که این مسأله ناشی از نرخ بهره می باشد.

۱. افزایش کسری تجاری - پایین بودن
۲. افزایش کسری تجاری - بالا بودن
۳. کاهش کسری تجاری - پایین بودن
۴. کاهش کسری تجاری - بالا بودن

۴۰- کدام گزینه صحیح است؟

۱. تغییرات در الگوی تشکیل سرمایه یکی از عوامل افزایش نرخ بهره وری نیروی کار می باشد.
۲. در اقتصاد آمریکا رشد برنامه ی پرداخت های انتقالی از عوامل بازدارنده ی بیکاری بوده است.
۳. یکی از سیاست های اقتصادی ریگان در آمریکا کاهش مداخله ی دولت در فعالیت های اقتصادی بوده است.
۴. تغییر در ترکیب سنی و جنسی نیروی کار بعد از سال ۱۹۷۰ در آمریکا، بهره وری نیروی کار را افزایش داده است.

92-93-1

1221032 93-1

شماره سوال	الف	ب	ج	د	پاسخ صحيح	وضيعت كليد	
1	X				د	عادي	1
2		X			ب.ب	عادي	2
3	X				الف	عادي	3
4		X			ج	عادي	4
5			X		ج	عادي	5
6		X			الف	عادي	6
7		X			ج	عادي	7
8			X		ب.ب	عادي	8
9	X				الف	عادي	9
10		X			ج	عادي	10
11		X			ب.ب	عادي	11
12			X		ج	عادي	12
13		X			الف	عادي	13
14	X				د	عادي	14
15		X			الف	عادي	15
16		X			ب.ب	عادي	16
17	X				ج	عادي	17
18			X		ب.ب	عادي	18
19		X			ج	عادي	19
20			X		د	عادي	20
21		X			ج	عادي	21
22			X		الف	عادي	22
23	X				ب.ب	عادي	23
24		X			ب.ب	عادي	24
25			X		د	عادي	25
26	X				الف	عادي	26
27		X			ب.ب	عادي	27
28	X				د	عادي	28
29	X				الف	عادي	29
30			X		د	عادي	30
31	X				د	عادي	31
32			X		ج	عادي	32
33	X				د	عادي	33
34		X			ب.ب	عادي	34
35	X				الف	عادي	35
36					ب.ب	عادي	36
37		X			الف	عادي	37
38			X		د	عادي	38
39		X			ب.ب	عادي	39
40	X				ج	عادي	40

تعداد سوالات: تستی: ۴۰ تشریحی: ۰ زمان آزمون (دقیقه): تستی: ۹۰ تشریحی: ۰ سری سوال: یک ۱

عنوان درس: اصول علم اقتصاد ۲، اصول علم اقتصاد ۳ (کلان - جهانگردی)، اقتصاد کلان

رشته تحصیلی/گد فرس: مدیریت جهانگردی ۱۳۳۱۰۰۳ - مدیریت دولتی ۱۳۳۱۰۰۶ - مدیریت صنعتی ۱۳۳۱۰۱۲ - حسابداری ۱۳۳۱۰۱۹ - مدیریت بازرگانی ۱۳۳۱۰۲۷ - حسابداری (چندبخشی)، علوم اقتصادی (نظری) چندبخشی، مدیریت بازرگانی (چندبخشی)، مدیریت جهانگردی (چندبخشی)، مدیریت دولتی (چندبخشی)، مدیریت صنعتی (چندبخشی) ۱۳۳۱۰۳۲

استفاده از ماشین حساب ساده مجاز است

۱- کدام گزینه در مورد متغیر اقتصاد کلان صحیح است؟

۱. سرمایه و ثروت افراد، متغیرهای ثابت محسوب می شوند
۲. ثروت و پس انداز افراد، متغیرهای ثابت محسوب می شوند.
۳. موجودی انبار و سرمایه، متغیرهای جاری محسوب می شوند
۴. نرخ بهره و ثروت، متغیرهای جاری محسوب می شوند.

۲- تمرکز اقتصاد کلان بر مسائل اشتغال کامل و ثبات قیمت ها منجر به اقدامات عملی کدامیک از دانشمندان ذیل شد؟

۱. کارل مارکس
۲. هابسون
۳. جان مینارد کینز
۴. ماکس وبر

۳- اگر درآمد ملی ۱۲۶۰۰ میلیارد ریال، سود توزیع نشده ۱۶۰۰ میلیارد ریال و پرداخت ها به تامین اجتماعی ۲۲۰۰ میلیارد ریال باشد در این صورت با لحاظ نمودن ۶۰۰ میلیارد ریال پرداختی بابت کمک های بلاعوض مردم و ۹۰۰ میلیارد ریال خالص بهره پرداختی تعیین کنید که درآمد فردی چقدر است؟

۱. ۸۸۰۰
۲. ۱۰۳۰۰
۳. ۷۹۰۰
۴. ۱۱۵۰۰

۴- کدام گزینه صحیح است؟

$$1. \text{ تورم زدایی ضمنی تولید ناخالص ملی} = \frac{\text{تولید ناخالص ملی اسمی}}{\text{تولید ناخالص ملی حقیقی}}$$

$$2. \text{ استهلاك} - \text{درآمد} = \text{درآمد قابل مصرف}$$

$$3. \text{ استهلاك} + \text{تولید ناخالص ملی} = \text{تولید ناخالص ملی}$$

$$4. GDP = GNP + NI$$

۵- با کم کردن مالیات از درآمد فردی به چه مفهومی دست پیدا می کنیم؟

۱. مخارج مصرفی فرد
۲. پس انداز
۳. درآمد ملی منهای درآمد شخصی
۴. درآمد قابل تصرف فردی

۶- نظریه تقاضای کل کلاسیک ها چه نامیده می شود؟

۱. تئوری بهره
۲. نظریه اشتغال کامل
۳. نظریه مقداری پول
۴. تئوری پول

تعداد سوالات: تستی: ۴۰، تشریحی: ۰. زمان آزمون (دقیقه): تستی: ۹۰، تشریحی: ۰. سری سوال: ۱ یک

عنوان درس: اصول علم اقتصاد ۲، اصول علم اقتصاد ۳ (کلان - جهانگردی)، اقتصاد کلان

رشته تحصیلی/گد درسی: مدیریت جهانگردی ۱۳۲۱۰۰۳ - مدیریت دولتی ۱۳۲۱۰۰۶ - مدیریت صنعتی ۱۳۲۱۰۱۳ - حسابداری ۱۳۲۱۰۱۹ - مدیریت بازرگانی ۱۳۲۱۰۲۷ - حسابداری (چندبخشی)، علوم اقتصادی (نظری) (چندبخشی)، مدیریت بازرگانی (چندبخشی)، مدیریت جهانگردی (چندبخشی)، مدیریت دولتی (چندبخشی)، مدیریت صنعتی (چندبخشی) ۱۳۲۱۰۳۲

۷- در چارچوب نظریات کلاسیک ها اگر حجم پول ۲ برابر شد سطح عمومی قیمت ها چند درصد افزایش خواهد یافت

۱. ۱۰۰٪ ۲. ۲۰۰٪ ۳. ۳۰۰٪ ۴. ۴۰۰٪

۸- اگر قیمت ها نصف و مزد اسمی دو برابر شود آنگاه مزد حقیقی:

۱. نصف می شود. ۲. تغییر نمی کند. ۳. چهار برابر می شود. ۴. دو برابر می شود.

۹- در یک الگوی اقتصاد دو بخشی $C = 50 + 0.75Y$ و سرمایه گذاری $I = 100$ می باشد، در این صورت کدام گزینه صحیح می باشد؟

۱. $S = 50, C = 350, Y = 400$ ۲. $S = 100, C = 450, Y = 600$
۳. $S = 100, C = 500, Y = 600$ ۴. $S = 50, C = 450, Y = 500$

۱۰- در یک الگوی دو بخشی، اگر میل نهایی به پس انداز 0.4 باشد، افزایش 50 واحد سرمایه گذاری مستقل چه مقدار درآمد ملی تعادلی را افزایش می دهد؟

۱. ۱۰۰ ۲. ۷۵ ۳. ۱۲۵ ۴. ۱۵۰

۱۱- در اقتصاد کینزی کدام گزینه درست است؟

۱. $MPC + MPS > 1$ ۲. $MPC = MPS + 1$
۳. $\frac{\Delta C}{\Delta Y} - \frac{\Delta S}{\Delta Y} < 0$ ۴. $\frac{\Delta C}{\Delta Y} = 1 - \frac{\Delta S}{\Delta Y}$

۱۲- اگر تابع پس انداز به شکل $S = -200 + 0.2Y$ باشد در چه سطح درآمدی، مصرف و درآمد برابر می شوند؟

۱. ۵۰۰ ۲. ۸۰۰ ۳. ۱۰۰۰ ۴. ۱۲۰۰

۱۳- منحنی IS را نشان می دهد.

۱. ترکیبات مختلف نرخ بهره و درآمد حقیقی را که بازار پول در تعادل است.
۲. ترکیبات مختلف نرخ بهره و درآمد حقیقی را که بازار کالا در تعادل است.
۳. ترکیبات مختلف نرخ بهره و عرضه پول را که بازار کالا در تعادل است.
۴. ترکیبات مختلف نرخ بهره و درآمد حقیقی را که بازار پول در تعادل است.

تعداد سوالات: تستی: ۴۰؛ تشریحی: ۰. زمان آزمون (دقیقه): تستی: ۹۰؛ تشریحی: ۰. سری سوال: ۱ یک

عنوان درس: اصول علم اقتصاد ۲، اصول علم اقتصاد ۳ (کلان - جهانگردی)، اقتصاد کلان

رشته تحصیلی/گد درس: مدیریت جهانگردی ۱۲۲۱۰۰۳ - مدیریت دولتی ۱۲۲۱۰۰۶ - مدیریت صنعتی ۱۲۲۱۰۱۲ - حسابداری ۱۲۲۱۰۱۹ - مدیریت بازرگانی ۱۲۲۱۰۲۷ - حسابداری (چندبخشی)، علوم اقتصادی (نظری) (چندبخشی)، مدیریت بازرگانی (چندبخشی)، مدیریت جهانگردی (چندبخشی)، مدیریت دولتی (چندبخشی)، مدیریت صنعتی (چندبخشی) ۱۲۲۱۰۳۲

۱۴- در یک اقتصاد $I = 100$ ، $C = 40 + 0.8YD$ ، $T = 10 + 0.1Y$ ، $G = 50$ در آمد ملی در حالت تعادل چقدر است؟

۱. ۵۰۰ ۲. ۱۹۰ ۳. ۶۵۰ ۴. ۷۰۰

۱۵- کدام یک از سیاست های زیر سیاست مالی انقباضی است؟

۱. افزایش مخارج دولتی ۲. افزایش نرخ تنزیل مجدد
۳. کاهش عرضه پول ۴. افزایش مالیات ها

۱۶- ضریب تکاثر مخارج دولت در مدل چهار بخشی برابر است با:

۱. $\frac{1}{1 + b + (1 + t) + M}$ ۲. $\frac{1}{1 - b + bt + M}$
۳. $\frac{1}{1 + b + bt + M}$ ۴. $\frac{1}{1 - b + bt - M}$

۱۷- هنگامی که در اقتصاد سه بخشی تعادل وجود داشته باشد کدام رابطه زیر برقرار است؟

۱. $I = S$ ۲. $G = T$
۳. $I + G = S + T$ ۴. $I + G + X = S + T + M$

۱۸- کدام گزینه سیاست پولی انقباضی محسوب می شود؟

۱. کاهش نرخ ذخیره قانونی ۲. افزایش رشد نقدینگی
۳. فروش اوراق قرضه ۴. کاهش نرخ تنزیل مجدد

۱۹- سیاست مالی مطابق کدام گزینه باعث بیرون کردن بخش خصوصی از بازار می شود؟

۱. سیاست مالی انبساطی و از طریق کاهش نرخ بهره ۲. سیاست مالی انقباضی و از طریق کاهش نرخ بهره
۳. سیاست مالی انبساطی و از طریق افزایش نرخ بهره ۴. سیاست مالی انقباضی و از طریق افزایش نرخ بهره

تعداد سوالات: تستی: ۴۰، تشریحی: ۰، زمان آزمون (دقیقه): تستی: ۹۰، تشریحی: ۰، سری سوال: ۱ یک

عنوان درس: اصول علم اقتصاد ۲، اصول علم اقتصاد ۳ (کلان - جهانگردی)، اقتصاد کلان

رشته تحصیلی/گد درس: مدیریت جهانگردی ۱۳۳۱۰۰۳ - مدیریت دولتی ۱۳۳۱۰۰۶ - مدیریت صنعتی ۱۳۳۱۰۱۳ - حسابداری ۱۳۳۱۰۱۹ - مدیریت بازرگانی ۱۳۳۱۰۲۷ - حسابداری (چندبخشی)، علوم اقتصادی (نظری) چندبخشی، مدیریت بازرگانی (چندبخشی)، مدیریت جهانگردی (چندبخشی)، مدیریت دولتی (چندبخشی)، مدیریت صنعتی (چندبخشی) ۱۳۳۱۰۳۲

۲۰- ضریب افزایش سپرده عبارت است از:

$$1. \frac{1}{\text{نرخ ذخیره قانونی}}$$

$$2. \frac{1}{\text{نرخ ذخیره قانونی} - 1}$$

$$3. \frac{\text{نرخ ذخیره قانونی}}{\text{نرخ ذخیره قانونی} - 1}$$

$$4. \frac{\text{نرخ ذخیره قانونی} - 1}{\text{نرخ ذخیره قانونی}}$$

۲۱- کدام یک از اقلام زیر جزء وظایف بانک مرکزی نیست؟

۱. بانک داری دولت
۲. وام دادن به بخش خصوصی
۳. اجرای سیاست پولی
۴. انتشار اسکناس و مسکوکات

۲۲- افزایش ذخیره قانونی از ۱ درصد به ۲ درصد چه تاثیری به همراه خواهد داشت؟

۱. کاهش قدرت خلق پول بانک های بازرگانی
۲. افزایش حجم پول
۳. افزایش توانایی دولت در اعمال سیاست مالی
۴. افزایش قدرت وام دهی بانک ها

۲۳- سود آورترین فعالیت بانک ها کدام است؟

۱. وام دهی به مشتریان
۲. نشر اسکناس
۳. پذیرش سپرده
۴. پول آفرینی

۲۴- کدام یک از عوامل زیر باعث تغییر مکان منحنی عرضه کل می گردند؟

۱. تغییر در قیمت ها
۲. تغییر در انتظارات تورمی بنگاه ها
۳. تغییر در سرمایه گذاری
۴. تغییر در پس انداز

۲۵- کینز معتقد بود که در بازار کار، مزد پولی و مشارکت کنندگان در بازار کار (کارگران) در باره مزد حقیقی

اطلاعات کامل

۱. کاملا انعطاف پذیر نیست - دارند
۲. کاملا انعطاف پذیر نیست - ندارند
۳. کاملا انعطاف پذیر است - دارند
۴. کاملا انعطاف پذیر است - ندارند

تعداد سوالات: تستی: ۴۰: تشریحی: ۰. زمان آزمون (دقیقه): تستی: ۹۰: تشریحی: ۰. سری سوال: ۱ یک

عنوان درس: اصول علم اقتصاد ۲، اصول علم اقتصاد ۳ (کلان - جهانگردی)، اقتصاد کلان

رشته تحصیلی/گد درس: مدیریت جهانگردی ۱۳۳۱۰۰۳ - مدیریت دولتی ۱۳۳۱۰۰۶ - مدیریت صنعتی ۱۳۳۱۰۱۳ - حسابداری ۱۳۳۱۰۱۹ - مدیریت بازرگانی ۱۳۳۱۰۲۷ - حسابداری (چندبخشی)، علوم اقتصادی (نظری) (چندبخشی، مدیریت بازرگانی (چندبخشی)، مدیریت جهانگردی (چندبخشی)، مدیریت دولتی (چندبخشی)، مدیریت صنعتی (چندبخشی) ۱۳۳۱۰۳۲

۲۶- کاهش مخارج دولت چه نوع سیاستی است؟

۱. سیاست مالی انقباضی
۲. سیاست پولی انقباضی
۳. سیاست مالی انبساطی
۴. سیاست پولی انبساطی

۲۷- از دیدگاه کینز افزایش مخارج دولت چه اثری بر قیمت و تولید می گذارد؟ (با فرض ثابت بودن منحنی عرضه کل)

۱. کاهش تولید و افزایش قیمت ها
۲. افزایش تولید و افزایش قیمت ها
۳. افزایش تولید و کاهش قیمت ها
۴. کاهش تولید و کاهش قیمت ها

۲۸- انعطاف پذیری کامل مزد پولی و اطلاعات کامل دربارهٔ مزد حقیقی دو فرض عمده کدام گروه از اقتصاددانان است؟

۱. کلاسیک ها
۲. کینزی ها
۳. پول گرایان
۴. کلاسیک های جدید

۲۹- اگر شاخص قیمت ها در دو سال متوالی به ترتیب ۸۰۰ و ۱۰۰۰ باشد، نرخ تورم چند درصد است؟

۱. ۲۵٪
۲. ۲۰٪
۳. ۲۰۰٪
۴. ۱۰۰٪

۳۰- بیکاری که به علت عدم سازگاری مهارت ها و محل جغرافیایی زندگی کارگران با فرصت های شغلی موجود ایجاد می شود چه نام دارد؟

۱. اصطکاک
۲. ادواری
۳. فصلی
۴. ساختاری

۳۱- منحنی فیلیپس رابطه میان چه عواملی را بیان می کند؟

۱. نرخ تورم و نرخ بیکاری
۲. نرخ تورم و تقاضای کل
۳. نرخ تورم و عرضه کل
۴. نرخ بیکاری و عرضه کل

تعداد سوالات: تستی: ۴۰: تشریحی: ۰. زمان آزمون (دقیقه): تستی: ۹۰: تشریحی: ۰. سری سوال: ۱ یک

عنوان درس: اصول علم اقتصاد ۲، اصول علم اقتصاد ۳ (کلان - جهانگردی)، اقتصاد کلان

رشته تحصیلی/گد فرسی: مدیریت جهانگردی ۱۲۲۱۰۰۳ - مدیریت دولتی ۱۲۲۱۰۰۶ - مدیریت صنعتی ۱۲۲۱۰۱۳ - حسابداری ۱۲۲۱۰۱۹ - مدیریت بازرگانی ۱۲۲۱۰۲۷ - حسابداری (چندبخشی)، علوم اقتصادی (نظری) (چندبخشی)، مدیریت بازرگانی (چندبخشی)، مدیریت جهانگردی (چندبخشی)، مدیریت دولتی (چندبخشی)، مدیریت صنعتی (چندبخشی) ۱۲۲۱۰۳۲

۳۲- بروز شوک مطلوب عرضه باعث می شود:

۱. سطح عمومی قیمت ها و نرخ بیکاری افزایش یابد.
۲. سطح عمومی قیمت ها افزایش، ولی نرخ بیکاری کاهش یابد
۳. سطح عمومی قیمت ها و نرخ بیکاری ثابت بماند.
۴. سطح عمومی قیمت ها و نرخ بیکاری کاهش می یابد.

۳۳- با حرکت منحنی تقاضای کل به سمت بالا و راست (در نظام کینزی)

۱. بیکاری کاهش می یابد.
۲. سطح عمومی قیمت ها کاهش می یابد.
۳. بیکاری افزایش می یابد.
۴. الف و ب درست است.

۳۴- این جمله به کدام مکتب اقتصادی مربوط می شود. اگر دولت در اقتصاد دخالت نکند اقتصاد به سمت نرخ های طبیعی تولید و بیکاری حرکت خواهد کرد؟

۱. کلاسیک ها
۲. پول گرایان
۳. کینز
۴. کلاسیک های جدید

۳۵- نرخ بهره ای که بانک مرکزی برای وامی که به بانک های تجاری می دهد از آنها دریافت می کند چه می نامند؟

۱. نرخ بهره بازار
۲. نرخ تنزیل مجدد
۳. نرخ ذخیره قانونی
۴. نرخ بهره رسمی

۳۶- کدام گزینه مبین راه های مختلف سیاست پولی انقباضی است؟

۱. افزایش نرخ ذخیره قانونی، افزایش نرخ تنزیل مجدد و فروش اوراق قرضه.
۲. کاهش نرخ ذخیره قانونی، افزایش نرخ تنزیل مجدد و خرید اوراق قرضه.
۳. کاهش نرخ ذخیره قانونی، افزایش نرخ تنزیل مجدد و فروش اوراق قرضه.
۴. افزایش نرخ ذخیره قانونی، کاهش نرخ تنزیل مجدد و خرید اوراق قرضه.

۳۷- در یک اقتصاد $T = 20 + 0.2y$ و $C = 50 + 0.8y$ و $M = 0.4y$ می باشد. ضریب تثبیت کننده خودکار کدام است.

۱. ۰/۴
۲. ۰/۳
۳. ۰/۲۵
۴. ۰/۳

تعداد سوالات: تستی: ۴۰: تشریحی: ۰
زمان آزمون (دقیقه): تستی: ۹۰: تشریحی: ۰
سری سوال: ۱ یک

عنوان درس: اصول علم اقتصاد ۲، اصول علم اقتصاد ۳ (کلان - جهانگردی)، اقتصاد کلان

رشته تحصیلی/گد درس: مدیریت جهانگردی ۱۲۲۱۰۰۳ - ، مدیریت دولتی ۱۲۲۱۰۰۶ - ، مدیریت صنعتی ۱۲۲۱۰۱۳ - ، حسابداری ۱۲۲۱۰۱۹ - ، مدیریت بازرگانی ۱۲۲۱۰۲۷ - ، حسابداری (چندبخشی)، علوم اقتصادی (نظری) (چندبخشی)، مدیریت بازرگانی (چندبخشی)، مدیریت جهانگردی (چندبخشی)، مدیریت دولتی (چندبخشی)، مدیریت صنعتی (چندبخشی) ۱۲۲۱۰۳۲

۳۸- از نظر کینز اهداف سیاست مالی کدام است؟

۱. تخصیص، تولید، تثبیت
۲. تخصیص، تولید، توزیع
۳. تولید، توزیع، تثبیت
۴. تخصیص، توزیع، تثبیت

۳۹- صرفه جویی های ناشی از مقیاس

۱. باعث می شود تا با کوچک شدن اندازه اقتصاد، رشد اقتصادی فراهم گردد.
۲. باعث افزایش کارایی نیروی کار و سرمایه می شود.
۳. باعث جایگزینی، بین کار و سرمایه.
۴. الف و ب صحیح است.

۴۰- کدام یک از اقتصاد دانان زیر معتقد به استراتژی توسعه نامتعادل می باشند؟

۱. ادوارد دنیسون
۲. آلبرت هیرشمن
۳. نورکس
۴. نلسون

شماره سوال	الف	ب	ج	د	پاسخ صحیح	وضعیت کلید
۱	X			الف		عادی
۲		X		ج		عادی
۳	X			ب		عادی
۴		X		الف		عادی
۵		X		د		عادی
۶			X	ج		عادی
۷		X		الف		عادی
۸	X			ج		عادی
۹		X		ج		عادی
۱۰			X	ج		عادی
۱۱		X		د		عادی
۱۲			X	ج		عادی
۱۳				ب	X	عادی
۱۴			X	ج		عادی
۱۵		X		د		عادی
۱۶			X	ب		عادی
۱۷			X	ج		عادی
۱۸			X	ج		عادی
۱۹		X		ج		عادی
۲۰		X		الف		عادی
۲۱		X		ب		عادی
۲۲			X	الف		عادی
۲۳			X	الف		عادی
۲۴		X		ب		عادی
۲۵				ب	X	عادی
۲۶	X			الف		عادی
۲۷		X		ب		عادی
۲۸		X		الف		عادی
۲۹			X	الف		عادی
۳۰				د	X	عادی
۳۱	X			الف		عادی
۳۲			X	د		عادی
۳۳				الف	X	عادی
۳۴			X	ب		عادی
۳۵				ب	X	عادی
۳۶	X			الف		عادی
۳۷		X		ب		عادی
۳۸				د	X	عادی
۳۹				ب	X	عادی
۴۰		X		ب		عادی

92-93-2

سری سوال: یک ۱

زمان آزمون (دقیقه): تستی: ۹۰ تشریحی: ۰

تعداد سوالات: تستی: ۴۰ تشریحی: ۰

عنوان درس: اصول علم اقتصاد ۲، اصول علم اقتصاد ۳ (کلان - جهانگردی)، اقتصاد کلان

رشته تحصیلی/گد فرس: مدیریت جهانگردی ۱۲۲۱۰۰۳ - مدیریت دولتی ۱۲۲۱۰۰۶ - مدیریت صنعتی ۱۲۲۱۰۱۲ - حسابداری ۱۲۲۱۰۱۹ - مدیریت بازرگانی ۱۲۲۱۰۲۷ - علوم اقتصادی (نظری) چندبخشی، حسابداری (چندبخشی)، مدیریت دولتی (چندبخشی)، مدیریت بازرگانی (چندبخشی)، مدیریت صنعتی (چندبخشی)، مدیریت جهانگردی (چندبخشی) ۱۲۲۱۰۳۲

استفاده از ماشین حساب ساده مجاز است

۱- چه کسی از استدلال کلان اقتصادی برای پیش بینی سقوط نهایی سرمایه داری استفاده کرد؟

۱. جان هابسون ۲. کارل ماکس ۳. آدام اسمیت ۴. کینز

۲- سرمایه و درآمد هر کدام به ترتیب مربوط به کدام یک از متغیرهای اقتصاد کلان می باشند؟

۱. جاری - جاری ۲. ثابت - ثابت ۳. جاری - ثابت ۴. ثابت - جاری

۳- بزرگترین جزء تولید ناخالص ملی کدام است؟

۱. خالص صادرات ۲. مخارج دولت ۳. سرمایه گذاری ۴. مصرف

۴- اگر درآمد ملی ۱۲۶۰۰، سود توزیع نشده ۱۶۰۰ و پرداختی به تأمین اجتماعی ۲۲۰۰ میلیارد ریال باشد، در این صورت با لحاظ نمودن ۶۰۰ میلیارد ریال پرداختی بابت کمک های بلاعوض مردم و ۹۰۰ میلیارد ریال خالص بهره پرداختی باشد، تعیین کنید که درآمد فردی چقدر خواهد شد؟

۱. ۱۱۵۰۰ میلیارد ریال ۲. ۷۹۰۰ میلیارد ریال
۳. ۱۰۳۰۰ میلیارد ریال ۴. ۸۸۰۰ میلیارد ریال

۵- کدام یک از روش های زیر جزء روش های محاسبه درآمد ملی و تولید ملی نیست؟

۱. روش درآمد ۲. روش سرمایه گذاری ۳. روش تولید ۴. روش مخارج

۶- کدام یک در محاسبه تولید ناخالص ملی به حساب نمی آید؟

۱. استهلاک ۲. مصرف خانوارها
۳. خدمات خانم های خانه دار ۴. سرمایه گذاری بنگاه ها

۷- در نظریه کلاسیک ها عامل اصلی تعیین کننده تولید کل کدام است؟

۱. عرضه ۲. تقاضا
۳. سطح عمومی قیمت ها ۴. دولت

تعداد سوالات: تستی: ۴۰؛ تشریحی: ۰. زمان آزمون (دقیقه): تستی: ۹۰؛ تشریحی: ۰. سری سوال: ۱ یک

عنوان درس: اصول علم اقتصاد ۲، اصول علم اقتصاد ۳ (کلان - جهانگردی)، اقتصاد کلان

رشته تحصیلی/گد درس: مدیریت جهانگردی ۱۲۲۱۰۰۳ - مدیریت دولتی ۱۲۲۱۰۰۶ - مدیریت صنعتی ۱۲۲۱۰۱۲ - حسابداری ۱۲۲۱۰۱۹ - مدیریت بازرگانی ۱۲۲۱۰۲۷ - علوم اقتصادی (نظری) چندبخشی، حسابداری (چندبخشی)، مدیریت دولتی (چندبخشی)، مدیریت بازرگانی (چندبخشی)، مدیریت صنعتی (چندبخشی)، مدیریت جهانگردی (چندبخشی) ۱۲۲۱۰۳۲

۸- تورم زدائی تولید ناخالص ملی برابر است با:

۱. تولید ناخالص ملی اسمی \times شاخص قیمت

۲. $\frac{\text{تولید ناخالص ملی اسمی}}{\text{تولید ناخالص ملی حقیقی}}$

تولید ناخالص ملی حقیقی

۳. $\frac{\text{تولید ناخالص حقیقی}}{\text{تولید ناخالص اسمی}}$

تولید ناخالص اسمی

۴. $\frac{\text{تولید ناخالص ملی حقیقی}}{\text{شاخص قیمت}}$

شاخص قیمت

۹- منحنی تقاضای کل از دیدگاه کلاسیک ها:

۱. صعودی است. ۲. نزولی است. ۳. عمودی است. ۴. افقی است.

۱۰- در بازار کار بنگاه ها و خانوارها می باشند.

۱. عرضه کننده - تقاضا کننده ۲. تقاضا کننده - عرضه کننده

۳. فروشنده - خریدار ۴. تولید کننده - مصرف کننده

۱۱- فرض کنید تابع مصرف $C = 100 + 0.8Y$ و سرمایه گذاری برون زا برابر ۵۰ واحد باشد. تولید تعادلی چقدر خواهد بود؟

۱. ۶۰۰ واحد ۲. ۷۰۰ واحد ۳. ۷۵۰ واحد ۴. ۸۰۰ واحد

۱۲- افزایش سطح عمومی قیمت ها ارزش حقیقی داراییهای مالی خانوارها را کاهش داده که در نتیجه باعث کاهش مصرف و تقاضای کل می گردد. این اثر چه نامیده می شود؟

۱. اثر نرخ بهره ۲. اثر ثروت ۳. اثر جانشینی ۴. اثر درآمدی

سری سوال: ۱ یک

زمان آزمون (دقیقه): تستی: ۹۰ تشریحی: ۰

تعداد سوالات: تستی: ۴۰ تشریحی: ۰

عنوان درس: اصول علم اقتصاد ۲، اصول علم اقتصاد ۳ (کلان - جهانگردی)، اقتصاد کلان

رشته تحصیلی/گد فرس: مدیریت جهانگردی ۱۲۲۱۰۰۳ - مدیریت دولتی ۱۲۲۱۰۰۶ - مدیریت صنعتی ۱۲۲۱۰۱۲ - حسابداری ۱۲۲۱۰۱۹ - مدیریت بازرگانی ۱۲۲۱۰۲۷ - علوم اقتصادی (نظری) چندبخشی، حسابداری (چندبخشی)، مدیریت دولتی (چندبخشی)، مدیریت بازرگانی (چندبخشی)، مدیریت صنعتی (چندبخشی)، مدیریت جهانگردی (چندبخشی) ۱۲۲۱۰۳۲

۱۳- در نظریه تقاضای کل کینزی، اگر $S = 1$ باشد، در این صورت:

۱. مقدار انباشت موجودی ناخواسته مثبت است.
۲. مقدار انباشت موجودی ناخواسته منفی است.
۳. مقدار انباشت موجودی ناخواسته صفر است.
۴. تولید بیش از تقاضای کل بوده و اقتصاد با مازاد عرضه مواجه است.

۱۴- ضریب افزایش مالیات برون را عبارتست از:

$$\begin{array}{llll} ۱. \frac{MPC}{1-MPC} & ۲. \frac{-MPC}{1-MPC} & ۳. \frac{MPS}{1-MPC} & ۴. \frac{-MPS}{1-MPC} \end{array}$$

۱۵- شرط تعادل در الگوی سه بخشی یعنی با وجود دولت عبارتست از:

$$۱. T + G = S + I \quad ۲. I + T = S + G \quad ۳. S + T = I + G \quad ۴. T - G - S = I$$

۱۶- نظریه تقاضای کل کلاسیک ها چه نامیده می شود؟

۱. تئوری بهره
۲. نظریه اشتغال کامل
۳. نظریه اشتغال ناقص
۴. نظریه مقداری پول

۱۷- از نظر کینز کدام عوامل بر سرمایه گذاری بنگاه مؤثر می باشد؟

۱. درآمد دائمی و درآمد جاری
۲. ثروت افراد و درآمد دوران زندگی
۳. انتظارات بنگاه ها از سوددهی آتی طرح و نرخ بهره
۴. انتظارات بنگاه ها از سود دهی فعلی طرح و نرخ بازده

۱۸- با افزایش مالیات، درآمد خانوار کاهش یافته و در نتیجه می یابد.

۱. مخارج مصرفی کاهش
۲. مخارج سرمایه گذاری افزایش
۳. مخارج سرمایه گذاری کاهش
۴. مخارج مصرفی افزایش

۱۹- منحنی LM مکان هندسی ترکیباتی از و است که بازار پول را متعادل می سازد.

۱. نرخ بهره - قیمت
۲. نرخ بهره - درآمد
۳. نرخ بهره - سرمایه گذاری
۴. نرخ بهره - حجم پول

تعداد سوالات: تستی: ۴۰: تشریحی: ۰. زمان آزمون (دقیقه): تستی: ۹۰: تشریحی: ۰. سری سوال: ۱ یک

عنوان درس: اصول علم اقتصاد ۲، اصول علم اقتصاد ۳ (کلان - جهانگردی)، اقتصاد کلان

رشته تحصیلی/گد فرس: مدیریت جهانگردی ۱۲۲۱۰۰۳ - مدیریت دولتی ۱۲۲۱۰۰۶ - مدیریت صنعتی ۱۲۲۱۰۱۲ - حسابداری ۱۲۲۱۰۱۹ - مدیریت بازرگانی ۱۲۲۱۰۲۷ - علوم اقتصادی (نظری) چندبخشی، حسابداری (چندبخشی)، مدیریت دولتی (چندبخشی)، مدیریت بازرگانی (چندبخشی)، مدیریت صنعتی (چندبخشی)، مدیریت جهانگردی (چندبخشی) ۱۲۲۱۰۳۲

۲۰- نوعی از بیکاری که به علت عدم سازگاری مهارتها و محل جغرافیایی زندگی کارگران ایجاد می شود، چه نام دارد؟

۱. بیکاری اصطکاکی ۲. بیکاری ادواری ۳. بیکاری ساختاری ۴. بیکاری فصلی

۲۱- کدام گزینه باعث انتقال منحنی LM به سمت چپ می گردد؟

۱. افزایش سطح قیمتها و کاهش عرضه پول ۲. کاهش سطح قیمتها و افزایش عرضه پول
۳. افزایش سطح قیمتها و افزایش عرضه پول ۴. کاهش سطح قیمتها و کاهش عرضه پول

۲۲- افزایش عرضه پول باعث و LM و افزایش مخارج باعث IS می شود.

۱. انتقال به راست - انتقال به راست ۲. انتقال به راست - انتقال به چپ
۳. انتقال به چپ - انتقال به چپ ۴. انتقال به چپ - انتقال به راست

۲۳- ضریب افزایش سپرده عبارتست از:

۱. $\frac{1}{\text{نسبت ذخیره قانونی}}$ ۲. $\frac{1}{\text{نسبت ذخیره قانونی} - 1}$
۳. $\frac{\text{نسبت ذخیره قانونی}}{\text{نسبت ذخیره قانونی} - 1}$ ۴. $\frac{\text{نسبت ذخیره قانونی}}{1 - \text{نسبت ذخیره قانونی}}$

۲۴- کدام یک از گزینه های زیر از وظایف بانک مرکزی نیست؟

۱. دادن وام به مردم ۲. بانکداری دولت
۳. اجرای سیاست پولی ۴. انتشار اسکناس و مسکوک

۲۵- افزایش سرعت کارایی و افزایش کارایی بازار کار از نظر در دسترس بودن اطلاعات در مورد مشاغل موجود موجب کاهش چه نوع بیکاری می شود؟

۱. پنهان ۲. اصطکاکی ۳. ساختاری ۴. ادواری

تعداد سوالات: تستی: ۴۰، تشریحی: ۰. زمان آزمون (دقیقه): تستی: ۹۰، تشریحی: ۰. سری سوال: ۱ یک

عنوان درس: اصول علم اقتصاد، اصول علم اقتصاد (کلان - جهانگردی)، اقتصاد کلان

رشته تحصیلی/گد فرس: مدیریت جهانگردی ۱۳۲۱۰۰۳ - مدیریت دولتی ۱۳۲۱۰۰۶ - مدیریت صنعتی ۱۳۲۱۰۱۳ - حسابداری ۱۳۲۱۰۱۹ - مدیریت بازرگانی ۱۳۲۱۰۲۷ - علوم اقتصادی (نظری) چندبخشی، حسابداری (چندبخشی)، مدیریت دولتی (چندبخشی)، مدیریت بازرگانی (چندبخشی)، مدیریت صنعتی (چندبخشی)، مدیریت جهانگردی (چندبخشی) ۱۳۲۱۰۳۲

۲۶- هنگامی که رابطه بین پول و درآمد بی ثبات است، کدام استراتژی مطلوب تر است؟

۱. استراتژی هدف قراردادن عرضه پول
۲. استراتژی انتظارات منطقی
۳. استراتژی هدف قراردادن نرخ بهره
۴. استراتژی هدف قراردادن اعتبارات

۲۷- هدف از سیاست مالی که به منظور اثرگذاری بر مخارج مصرفی بخش خصوصی صورت می گیرد چه نام دارد؟

۱. تخصیص
۲. تثبیت
۳. توزیع
۴. تعدیل

۲۸- از نظر پیروان کینز سیاست مالی دارای کدام یک از اهداف ذیل نمی باشد؟

۱. تخصیص
۲. تعدیل
۳. توزیع
۴. تثبیت

۲۹- کینز معتقد بود که در بازار کار، مزد پولی و مشارکت کنندگان در بازار کار درباره مزد حقیقی

اطلاعاتی کامل

۱. کاملاً انعطاف پذیر نیست - دارند
۲. کاملاً انعطاف پذیر نیست - ندارند
۳. کاملاً انعطاف پذیر است - دارند
۴. کاملاً انعطاف پذیر است - ندارند

۳۰- در چه صورت منحنی عرضه کل به سمت راست منتقل می شود؟

۱. افزایش قیمت مواد خام
۲. کاهش مخارج دولت
۳. افزایش سرمایه گذاری
۴. کاهش انتظارات تورمی

۳۱- کدام گزینه جزء هزینه های تورم می باشد؟

۱. فشارهای اجتماعی
۲. توزیع برابر درآمد
۳. کارایی اقتصادی
۴. نرخ پایین بیکاری

۳۲- کدام یک از عوامل زیر باعث جابجایی منحنی فیلیپس به سمت چپ و پایین می گردد؟

۱. افزایش تقاضای کل اقتصاد
۲. افزایش در انتظارات تورمی کارگران
۳. شوک های عرضه مطلوب
۴. شوک های عرضه نامطلوب

۳۳- کدام گزینه جزء ابزار های بانک مرکزی جهت اعمال سیاستهای پولی نیست؟

۱. عملیات بازار باز
۲. نرخ تنزیل مجدد
۳. تغییر در مالیات ها
۴. نسبت ذخیره قانونی

تعداد سوالات: تستی: ۴۰: تشریحی: ۰. زمان آزمون (دقیقه): تستی: ۹۰: تشریحی: ۰. سری سوال: ۱ یک

عنوان درس: اصول علم اقتصاد ۲، اصول علم اقتصاد ۳ (کلان - جهانگردی)، اقتصاد کلان

رشته تحصیلی/گد فرس: مدیریت جهانگردی ۱۲۲۱۰۰۳ - مدیریت دولتی ۱۲۲۱۰۰۶ - مدیریت صنعتی ۱۲۲۱۰۱۲ - حسابداری ۱۲۲۱۰۱۹ - مدیریت بازرگانی ۱۲۲۱۰۲۷ - علوم اقتصادی (نظری) چندبخشی، حسابداری (چندبخشی)، مدیریت دولتی (چندبخشی)، مدیریت بازرگانی (چندبخشی)، مدیریت صنعتی (چندبخشی)، مدیریت جهانگردی (چندبخشی) ۱۲۲۱۰۳۲

۳۴- کسر بودجه ساختاری چیست؟

۱. آن بخش از کسری بودجه است که حتی اگر اقتصاد در سطح تولید بالقوه نیز فعالیت کند وجود خواهد داشت.
۲. آن بخش از کسری بودجه است که ناشی از پایین تر بودن تولید واقعی از تولید بالقوه می باشد.
۳. آن بخش از کسری بودجه است که اقتصاد در سطح تولید واقعی است.
۴. آن بخش از کسری بودجه است که اقتصاد در سطح تولید بالقوه است.

۳۵- کدام گزینه به عنوان موتور رشد بسیاری از کشورهای در حال توسعه بعد از جنگ دوم جهانی مطرح شده است؟

۱. تجارت با کشورهای صنعتی
۲. حمایت دولت از صنایع
۳. اتکا به کمک های خارجی از طریق وام
۴. اتکا به رشد جمعیت و نیروی انسانی فعال

۳۶- اگر $I = 100 - 200r$ ، $G = 200$ ، $T = 0.2y$ ، $C = 50 + 0.75(y - T)$ باشد ، کدام گزینه معادله IS را نشان می دهد؟

۱. $y = 875 + 500r$
۲. $y = 500 + 875r$
۳. $y = 500 - 875r$
۴. $y = 875 - 500r$

۳۷- اگر میل نهایی به پس انداز برابر ۰.۲۵ و تابع مالیات به صورت $T = 0.2y$ باشد، ضریب افزایش مخارج دولت چه مقدار خواهد بود؟

۱. ۳/۵
۲. ۲/۵
۳. ۴
۴. ۴/۵

۳۸- با توجه به نظریه مقداری پول کلاسیک، کدام گزینه بیانگر سرعت گردش پول می باشد؟ (P سطح عمومی قیمتها، Y تولید حقیقی و M مقدار پول در اقتصاد می باشد)

۱. $V = \frac{P \times M}{Y}$
۲. $V = \frac{Y}{P \times M}$
۳. $V = \frac{P \times Y}{M}$
۴. $V = \frac{M}{P \times Y}$

۳۹- ضریب افزایش بودجه متعادل برابر است با:

۱. یک
۲. صفر
۳. $\frac{1}{1 - MPC}$
۴. $\frac{-MPC}{1 - MPC}$

۴۰- در الگوی نئوکلاسیک سیاستهای اقتصادی باید به دنبال چه هدفی باشند؟

۱. نرخ تورم پایین و شناور
۲. نرخ تورم شناور و باثبات
۳. نرخ تورم بالا و باثبات
۴. نرخ تورم پایین و باثبات



سری سوال: ۱ یک

زمان آزمون (دقیقه): تستی: ۹۰ تشریحی: ۰

تعداد سوالات: تستی: ۴۰ تشریحی: ۰

عنوان درس: اصول علم اقتصاد ۲، اصول علم اقتصاد ۳ (کلان - جهانگردی)، اقتصاد کلان

رشته تحصیلی/گد درس: مدیریت جهانگردی ۱۲۲۱۰۰۳ - مدیریت دولتی ۱۲۲۱۰۰۶ - مدیریت صنعتی ۱۲۲۱۰۱۲ - حسابداری ۱۲۲۱۰۱۹ - مدیریت بازرگانی ۱۲۲۱۰۲۷ - علوم اقتصادی (نظری) چندبخشی، حسابداری (چندبخشی)، مدیریت دولتی (چندبخشی)، مدیریت بازرگانی (چندبخشی)، مدیریت صنعتی (چندبخشی)، مدیریت جهانگردی (چندبخشی) ۱۲۲۱۰۳۲

pnueexam.com

شماره سوال	الف	ب	ج	د	پاسخ صحيح	وضعيت كليد
١		X			ب	عادي
٢				X	د	عادي
٣	X				د	عادي
٤			X		ج	عادي
٥	X				ب	عادي
٦	X				ج	عادي
٧			X		الف	عادي
٨				X	ب	عادي
٩			X		ب	عادي
١٠	X				ب	عادي
١١					ج	عادي
١٢			X		ب	عادي
١٣	X				ج	عادي
١٤			X		ب	عادي
١٥			X		ج	عادي
١٦				X	د	عادي
١٧			X		ج	عادي
١٨	X				الف	عادي
١٩		X			ب	عادي
٢٠			X		ج	عادي
٢١	X				الف	عادي
٢٢	X				الف	عادي
٢٣		X			الف	عادي
٢٤			X		الف	عادي
٢٥		X			ب	عادي
٢٦				X	ج	عادي
٢٧	X				الف	عادي
٢٨		X			ب	عادي
٢٩		X			ب	عادي
٣٠			X		د	عادي
٣١	X				الف	عادي
٣٢				X	ج	عادي
٣٣			X		ج	عادي
٣٤					الف	عادي
٣٥				X	الف	عادي
٣٦			X		د	عادي
٣٧		X			ب	عادي
٣٨			X		ج	عادي
٣٩			X		الف	عادي
٤٠	X				د	عادي

93-94-1

سری سوال: یک ۱

زمان آزمون (دقیقه): تستی: ۹۰ تشریحی: ۰

تعداد سوالات: تستی: ۴۰ تشریحی: ۰

عنوان درس: اصول علم اقتصاد ۲، اصول علم اقتصاد ۳ (کلان - جهانگردی)، اقتصاد کلان

رشته تحصیلی/گد فرس: مدیریت جهانگردی ۱۳۲۱۰۰۳ - مدیریت دولتی ۱۳۲۱۰۰۶ - مدیریت صنعتی ۱۳۲۱۰۱۲ - حسابداری ۱۳۲۱۰۱۹ - مدیریت بازرگانی ۱۳۲۱۰۲۷ - حسابداری (چندبخشی)، علوم اقتصادی (نظری) (چندبخشی)، مدیریت بازرگانی (چندبخشی)، مدیریت جهانگردی (چندبخشی)، مدیریت دولتی (چندبخشی)، مدیریت صنعتی (چندبخشی) ۱۳۲۱۰۳۲

استفاده از ماشین حساب ساده مجاز است

۱- کتاب نظریه، عمومی اشتغال، بهره و پول، از چه کسی است؟

۱. اسمیت ۲. هابسون ۳. کینز ۴. مارکس

۲- متغیرهای اقتصاد کلان به چه صورتی تقسیم می گردد؟

۱. سرمایه گذاری ۲. ثابت جاری
۳. تعریفی و رفتاری ۴. یک بخشی و دوی بخشی

۳- بزرگترین جزء تولید ناخالص ملی کدام است؟

۱. سرمایه گذاری ۲. مصرف ۳. مخارج دولتی ۴. خالص صادراتی

۴- کدام یک از موارد زیر از اجزای درآمد ملی نیست؟

۱. مزد و حقوق افراد ۲. خالص بهره و بهره پرداختی به افراد
۳. خالص مالیات های غیر مستقیم ۴. سود بنگاه ها

۵- تفاوت بین تولید ناخالص ملی و تولید ناخالص داخلی؟

۱. مالیات های غیر مستقیم بخش تولید پرداختی به دولت است
۲. هزینه استهلاک سرمایه
۳. مالیات های غیر مستقیم بخش خصوصی پرداختی به دولت
۴. خالص درآمد عوامل از خارج

۶- کدام یک از روش های زیر جزء روش های محاسبه ی درآمد ملی و تولید ملی نیستند؟

۱. روش درآمد ۲. روش سرمایه گذاری ۳. روش تولید ۴. روش مخارج

۷- کدام یک از فروض بنیادی نظریه کلاسیک می باشد

۱. تولید حقیقی تابعی از میزان عرضه پول است
۲. هم عوامل عرضه و هم عوامل تقاضا در تعیین تولید حقیقی موثر می باشند
۳. منحنی تقاضای کل عمودی است
۴. تقاضای کل از عرضه پول متاثر می شود

سری سوال: ۱ یک

زمان آزمون (دقیقه): تستی: ۹۰ تشریحی: ۰

تعداد سوالات: تستی: ۴۰ تشریحی: ۰

عنوان درس: اصول علم اقتصاد ۲، اصول علم اقتصاد ۳ (کلان - جهانگردی)، اقتصاد کلان

رشته تحصیلی/گد فرسی: مدیریت جهانگردی ۱۳۲۱۰۰۳ - مدیریت دولتی ۱۳۲۱۰۰۶ - مدیریت صنعتی ۱۳۲۱۰۱۳ - حسابداری ۱۳۲۱۰۱۹ - مدیریت بازرگانی ۱۳۲۱۰۲۷ - حسابداری (چندبخشی)، علوم اقتصادی (نظری) (چندبخشی)، مدیریت بازرگانی (چندبخشی)، مدیریت جهانگردی (چندبخشی)، مدیریت دولتی (چندبخشی)، مدیریت صنعتی (چندبخشی) ۱۳۲۱۰۳۲

۸- کدام گزینه نشان دهنده نظر کلاسیک ها در خصوص عرضه در بازار کار می باشد؟

۱. عرضه کار به مزد اسمی و تقاضای کار به مزد حقیقی بستگی دارد.
۲. عرضه کار به مزد حقیقی و تقاضای کار به مزد اسمی بستگی دارد.
۳. عرضه و تقاضای کار هر دو به مزد حقیقی بستگی دارد.
۴. عرضه و تقاضای کار هر دو به مزد اسمی بستگی دارد.

۹- اگر سطح عمومی قیمتی برابر با ۲۵ و سطح تولید حقیقی برابر با ۱۰۰ و میزان حجم پول در اقتصاد برابر با ۲۵۰ باشد طبق نظریه مقداری پول، سرعت گردش پول برابر است با؟

۱. ۲۵۰ ۲. ۲۵۰۰ ۳. ۱۰۰ ۴. ۱۰

۱۰- اگر شاخص قیمت ها نصف، مزد اسمی دو برابر شود آنگاه مزد حقیقی:

۱. تغییر نمی کند ۲. دوبرابر می شود ۳. چهار برابر می شود ۴. نصف می شود

۱۱- کدام گزینه های زیر از اجزای تقاضای کل محسوب نمی شود؟

۱. مصرف ۲. مخارج دولت ۳. پس انداز ۴. سرمایه گذاری

۱۲- در کوتاه مدت مصرف به کدام یک از عوامل زیر بستگی ندارد؟

۱. درآمد ۲. انتظارات تورمی ۳. ثروت ۴. پس انداز

۱۳- در مدل دویبخشی تعادل درآمد ملی، شرط تعادل عبارت است از:

۱. $S = Y - C$ ۲. $Y = C + S$ ۳. $I = S$ ۴. گزینه ۱ و ۲

۱۴- اگر تابع مصرف $C = 75 + 0.8Y$ باشد، تابع پس انداز کدام گزینه است؟

۱. $S = 75 + 0.2Y$ ۲. $S = 75 - 0.2Y$
۳. $S = -75 + 0.2Y$ ۴. $S = -75 - 0.2Y$

۱۵- ضریب افزایش مالیات برون زا عبارت است از:

۱. $\frac{-MPC}{1-MPC}$ ۲. $\frac{MPC}{1-MPC}$ ۳. $\frac{MPS}{1-MPC}$ ۴. $\frac{-MPS}{1-MPC}$

تعداد سوالات: تستی: ۴۰: تشریحی: ۰
زمان آزمون (دقیقه): تستی: ۹۰: تشریحی: ۰
سری سوال: ۱ یک

عنوان درس: اصول علم اقتصاد: اصول علم اقتصاد (کلان - جهانگردی)، اقتصاد کلان

رشته تحصیلی/گد فرسی: مدیریت جهانگردی ۱۳۲۱۰۰۳ - مدیریت دولتی ۱۳۲۱۰۰۶ - مدیریت صنعتی ۱۳۲۱۰۱۳ - حسابداری ۱۳۲۱۰۱۹ - مدیریت بازرگانی ۱۳۲۱۰۲۷ - حسابداری (چندبخشی)، علوم اقتصادی (نظری) چندبخشی، مدیریت بازرگانی (چندبخشی)، مدیریت جهانگردی (چندبخشی)، مدیریت دولتی (چندبخشی)، مدیریت صنعتی (چندبخشی) ۱۳۲۱۰۳۲

۱۶- در یک اقتصاد دو بخشی $I = 100$ و $C = 10 + 0.9y$ میزان درآمد ملی چقدر است؟

۸۰ .۱ ۲۱۰ .۲ ۱۱۰۰ .۳ ۲۱۲۰ .۴

۱۷- اگر تابع مصرف بصورت $C = 50 + 0.75y$ و $T = 0.1Y$ و $G = 200$ و $I = 75 - 0.5r$ باشد، معادله IS برابر است با:

۱. $y = 1000 - 200r$ ۲. $y = 100 - 200r$
۳. $y = 1077 - 615r$ ۴. $y = 200 - 1000r$

۱۸- کدام گزینه شرط تعادل یک اقتصاد سه بخشی است؟

۱. $S + T = I + G$ ۲. $S + I = T + G$ ۳. $S + G = I + T$ ۴. $S + T = G - I$

۱۹- منحنی IS نشان می دهد:

۱. ترکیبات مختلف نرخ بهره و درآمد حقیقی را که در آن ترکیبات بازار پول در تعادل است
۲. ترکیبات مختلف نرخ بهره و عرضه پول را که بازار کالا در تعادل است
۳. ترکیبات مختلف پول و درآمد حقیقی را که بازار کالا در تعادل است
۴. ترکیبات مختلف نرخ بهره و درآمد حقیقی را که بازار کالا در تعادل است

۲۰- اگر مخارج دولت افزایش یابد:

۱. منحنی IS به صورت موازی به سمت راست جا به جا می شود.
۲. منحنی IS به صورت موازی به سمت چپ جا به جا می شود
۳. منحنی LM به صورت موازی به سمت راست جا به جا می شود
۴. منحنی LM به صورت موازی به سمت چپ جا به جا می شود.

۲۱- اگر بودجه دولت متوازن باشد و مخارج و درآمد دولت هر یک به میزان ۱۰۰ واحد افزایش یابند درآمد ملی چه میزان تغییر می کند.

۷۵ .۱ ۱۰۰ .۲ ۷۵ .۳ ۴۰۰ .۴

۲۲- کدام یک از سیاست های زیر، سیاست مالی استنباطی است؟

۱. افزایش مخارج دولت ۲. افزایش عرضه پول ۳. کاهش مالیات ها ۴. گزینه ۱ و ۳

سری سوال: ۱ یک

زمان آزمون (دقیقه): تستی: ۹۰ تشریحی: ۰

تعداد سوالات: تستی: ۴۰ تشریحی: ۰

عنوان درس: اصول علم اقتصاد ۲، اصول علم اقتصاد ۳ (کلان - جهانگردی)، اقتصاد کلان

رشته تحصیلی/گد فرس: مدیریت جهانگردی ۱۳۲۱۰۰۳ - مدیریت دولتی ۱۳۲۱۰۰۶ - مدیریت صنعتی ۱۳۲۱۰۱۳ - حسابداری ۱۳۲۱۰۱۹ - مدیریت بازرگانی ۱۳۲۱۰۲۷ - حسابداری (چندبخشی)، علوم اقتصادی (نظری) (چندبخشی)، مدیریت بازرگانی (چندبخشی)، مدیریت جهانگردی (چندبخشی)، مدیریت دولتی (چندبخشی)، مدیریت صنعتی (چندبخشی) ۱۳۲۱۰۳۲

۲۳- کدام یک، مشخصه عمده پول نیست؟

۱. وسیله مبادله ۲. وسیله ذخیره ارزش ۳. وسیله وام دادن ۴. واحد حساب

۲۴- در صورتی که عرضه پول کاهش و مخارج دولت افزایش یابد به ترتیب:

۱. منحنی LM به چپ و منحنی IS به راست منتقل می شود.
 ۲. منحنی LM به راست و منحنی IS به چپ منتقل می شود.
 ۳. منحنی LM و منحنی IS هر دو به چپ منتقل می شوند.
 ۴. منحنی LM و منحنی IS هر دو به راست منتقل می شوند.

۲۵- کدام گزینه باعث انتقال منحنی LM به سمت راست می شود؟

۱. افزایش عرضه پول ۲. افزایش مالیات ۳. کاهش عرضه پول ۴. کاهش مالیات

۲۶- تقاضا برای پول از دیدگاه کینز به چه چیزی بستگی دارد؟

۱. درآمد و نرخ بهره ۲. درآمد و پس انداز
 ۳. درآمد و سرمایه گذاری ۴. سرمایه گذاری و نرخ بهره

۲۷- پدیده بیرون راندن بخش خصوصی از بازار از طریق چه سیاستی صورت می گیرد؟

۱. سیاست های مالی انقباضی
 ۲. سیاست ای مالی انبساطی
 ۳. اجرای همزمان سیاست های پولی انبساطی و سیاست های انقباضی
 ۴. سیاست های پولی انبساطی

۲۸- قدیمی ترین وظیفه بانکها کدام گزینه است؟

۱. پذیرش سپرده ۲. عامل پرداخت ۳. ارائه وام به مشتریان ۴. انجام معاملات ارزی

۲۹- سود آور ترین فعالیت بانکها کدام است؟

۱. وام دهی به مشتریان ۲. نشر اسکناس ۳. پذیرش سپرده ۴. پول آفرینی

تعداد سوالات: تستی: ۴۰؛ تشریحی: ۰. زمان آزمون (دقیقه): تستی: ۹۰؛ تشریحی: ۰. سری سوال: ۱ یک

عنوان درس: اصول علم اقتصاد ۲، اصول علم اقتصاد ۳ (کلان - جهانگردی)، اقتصاد کلان

رشته تحصیلی/گد فرس: مدیریت جهانگردی ۱۳۲۱۰۰۳ - مدیریت دولتی ۱۳۲۱۰۰۶ - مدیریت صنعتی ۱۳۲۱۰۱۳ - حسابداری ۱۳۲۱۰۱۹ - مدیریت بازرگانی ۱۳۲۱۰۲۷ - حسابداری (چندبخشی)، علوم اقتصادی (نظری) (چندبخشی)، مدیریت بازرگانی (چندبخشی)، مدیریت جهانگردی (چندبخشی)، مدیریت دولتی (چندبخشی)، مدیریت صنعتی (چندبخشی) ۱۳۲۱۰۳۲

۳۰- کدام گزینه از وظایف بانک مرکزی نمی باشد؟

۱. انتشار اسکناس و مسکوکات
۲. بانکداری دولت
۳. اجرای سیاستهای پولی
۴. اجرای سیاستهای مالی

۳۱- اگر $r r_d$ نرخ ذخیره قانونی باشد ضریب افزایش سپرده کدام است؟

۱. $\frac{1}{1 - r r_d}$
۲. $\frac{1}{r r_d}$
۳. $\frac{1}{1 + r r_d}$
۴. $\frac{1 - r r_d}{r r_d}$

۳۲- اگر سپرده بانکی ۳۰۰ ریال و نرخ ذخیره قانونی ۲۵ درصد باشد پس از کامل شدن اثر فزاینده پولی، حجم سپرده چقدر خواهد بود؟

۱. ۱۵۰۰
۲. ۱۲۰۰
۳. ۶۰۰
۴. ۳۰۰

۳۳- بر اساس دیدگاه کینز، افزایش سطح عمومی قیمتها از چه طریقی بر تقاضای کل تاثیر می گذارد؟

۱. اثر نرخ بهره - اثر کاهش مخارج دولت
۲. اثر مزاد نقدینگی - اثر ثروت
۳. اثر نرخ بهره - اثر ثروت
۴. اثر کاهش مخارج دولت - اثر افزایش مالیات

۳۴- انعطاف پذیری کامل مزد پولی و اطلاعات کامل درباره مزد حقیقی دو فرض عمده کدام گروه از اقتصاد دانان است؟

۱. کینزی ها
۲. کلاسیک ها
۳. پولگرایان
۴. کلاسیک های جدید

۳۵- کدام گزینه باعث تغییر مکان عرضه کل می گردد؟

۱. تغییر در قیمت ها
۲. تغییر در انتظارات تورمی بنگاه ها
۳. تغییر در سرمایه گذاری
۴. تغییر در مصرف

۳۶- شوکهای عرضه مطلوب باعث تغییر مکان منفی عرضه می شود.

۱. به طرف چپ
۲. به طرف راست
۳. تغییر نمی کند
۴. هیچکدام

۳۷- بیکاری ناشی از کوچک کردن دولت از کدام دسته بیکاری تلقی می شود؟

۱. ساختاری
۲. اصطکاکی
۳. ادواری
۴. پنهان

سری سوال: ۱ یک

زمان آزمون (دقیقه): تستی: ۹۰ تشریحی: ۰

تعداد سوالات: تستی: ۴۰ تشریحی: ۰

عنوان درس: اصول علم اقتصاد، اصول علم اقتصاد (کلان - جهانگردی)، اقتصاد کلان

رشته تحصیلی/گد درسی: مدیریت جهانگردی ۱۳۲۱۰۰۳ - مدیریت دولتی ۱۳۲۱۰۰۶ - مدیریت صنعتی ۱۳۲۱۰۱۳ - حسابداری ۱۳۲۱۰۱۹ - مدیریت بازرگانی ۱۳۲۱۰۲۷ - حسابداری (چندبخشی)، علوم اقتصادی (نظری) چندبخشی، مدیریت بازرگانی (چندبخشی)، مدیریت جهانگردی (چندبخشی)، مدیریت دولتی (چندبخشی)، مدیریت صنعتی (چندبخشی) ۱۳۲۱۰۳۲

۳۸- اگر شاخص قیمت ها در سال ۸۸ برابر ۲۰۰ و در سال ۸۹ برابر ۴۵۰ باشد نرخ تورم در سال ۸۹ نسبت به سال ۸۸ چقدر است؟

۱. ۱/۳۵ ۲. ۱۲۵ ۳. ۲۲۵ ۴. ۲۵۰

۳۹- کدام منحنی زیر رابطه معکوس بین نرخ تورم و نرخ بیکاری را نشان می دهد؟

۱. تقاضای پول ۲. تقاضای کل ۳. عرضه کل ۴. فیلیپس

۴۰- کدام گزینه بر اساس نظریه کینز جزء نقش های سیاست های مالی نیست؟

۱. تخصیص ۲. تعادل ۳. تثبیت ۴. توزیع

93-94-2

1221032 94-2

شماره سوال	الف	ب	ج	د	پاسخ صحيح	وضعيت كليد
1	X				ج	عادي
2		X			ب	عادي
3	X				ب	عادي
4	X				ج	عادي
5		X			د	عادي
6				X	ب	عادي
7			X		د	عادي
8		X			ج	عادي
9			X		د	عادي
10	X				ج	عادي
11			X		ج	عادي
12		X			ب	عادي
13				X	ج	عادي
14	X				ج	عادي
15		X			الف	عادي
16	X				ج	عادي
17				X	الف	عادي
18		X			الف	عادي
19			X		د	عادي
20	X				الف	عادي
21			X		ب	عادي
22		X			د	عادي
23				X	ج	عادي
24				X	الف	عادي
25	X				الف	عادي
26			X		الف	عادي
27		X			ب	عادي
28				X	الف	عادي
29	X				الف	عادي
30			X		د	عادي
31				X	ب	عادي
32		X			ب	عادي
33	X				ج	عادي
34			X		ب	عادي
35	X				ج	عادي
36		X			ب	عادي
37				X	الف	عادي
38				X	ب	عادي
39			X		د	عادي
40		X			ب	عادي

تعداد سوالات: نسی: ۴۰ - تشریحی: ۰ - زمان آزمون (دقیقه): نسی: ۹۰ - تشریحی: ۰ - سری سوال: یک ۱

عنوان درس: اصول اقتصاد، اصول علم اقتصاد ۲، اصول علم اقتصاد ۲ (کلان - جهانگردی)، اقتصاد کلان

رشته تحصیلی / کد درس: گرایش (MBA) گرایش استراتژی، کارشناسی ارشد - مدیریت کسب و کار (MBA) کارشناسی ارشد - مدیریت کسب و کار (MBA) گرایش کار آفرینی، کارشناسی ارشد - مدیریت کسب و کار (MBA) بازاریابی، کارشناسی ارشد - مدیریت کسب و کار (MBA) گرایش مالی، کارشناسی ارشد - مدیریت کسب و کار (MBA) گرایش سیستمهای اطلاعاتی و (MBA) گرایش رفتار سازمانی و منابع انسانی، کارشناسی ارشد - مدیریت کسب و کار (MBA) کار - فناوری اطلاعات ۱۳۱۸۴۷۵ - مدیریت جهانگردی ۱۳۲۱۰۰۳ - مدیریت دولتی ۱۳۲۱۰۰۶ - مدیریت صنعتی ۱۳۲۱۰۱۲ حسابداری ۱۳۲۱۰۱۹ - مدیریت بازرگانی ۱۳۲۱۰۲۷ - حسابداری (چندبخشی)، مدیریت بازرگانی (چندبخشی)، مدیریت جهانگردی (چندبخشی)، مدیریت دولتی (چندبخشی)، مدیریت صنعتی (چندبخشی)، علوم اقتصادی (نظری چندبخشی ۱۳۲۱۰۳۲)

استفاده از ماشین حساب ساده مجاز است

۱- کدام یک از اقلام زیر از اجزای تشکیل دهنده تولید ناخالص ملی نیستند؟

۱. مصرف خصوصی
۲. سرمایه گذاری خصوصی
۳. مخارج دولت
۴. واردات

۲- سرمایه گذاری شامل کدام یک از اقلام زیر نیست؟

۱. خرید ماشین آلات و تجهیزات
۲. افزایش موجودی انبار
۳. خرید سکه بهار آزادی
۴. ساختمان واحد های مسکونی

۳- کدام یک از اقلام زیر از اجزای درآمد ملی نیست؟

۱. مزد و حقوق افراد
۲. پس انداز
۳. سود بنگاهها
۴. خالص بهره و بهره پرداختی به افراد

۴- کدام یک از روشهای زیر جزء روشهای محاسبه درآمد ملی و تولید ملی نیستند؟

۱. روش درآمد
۲. روش سرمایه گذاری
۳. روش تولید
۴. روش مخارج

۵- در کوتاه مدت مصرف به کدامیک از عوامل زیر بستگی ندارد؟

۱. درآمد
۲. پس انداز
۳. ثروت
۴. انتظارات تورمی

۶- فرض کنید تابع مصرف $C = 100 + 0.8Y$ و سرمایه گذاری برونزا برابر ۵۰ واحد است. تولید تعادلی برابر خواهد شد با:

۱. ۶۰۰
۲. ۷۰۰
۳. ۷۵۰
۴. ۸۰۰

۷- مجموع گرایش نهایی به مصرف و گرایش نهایی به پس انداز برابر است با:

۱. ۲
۲. ۱
۳. ۱/۵
۴. ۰/۷۵

تعداد سوالات: نسی: ۴۰: تشریحی: - زمان آزمون (دقیقه): نسی: ۹۰: تشریحی: - سری سوال: ۱ یک

عنوان درس: اصول اقتصاد، اصول علم اقتصاد ۲، اصول علم اقتصاد ۲ (کلان - جهانگردی)، اقتصاد کلان

رشته تحصیلی/کد درس: کارشناسی ارشد-مدیریت کسب و کار (MBA) گرایش استراتژی، کارشناسی ارشد-مدیریت کسب و کار (MBA) گرایش بازاریابی، کارشناسی ارشد-مدیریت کسب و کار (MBA) گرایش کار آفرینی، کارشناسی ارشد-مدیریت کسب و کار (MBA) گرایش کسب و کار بین المللی، کارشناسی ارشد-مدیریت کسب و کار (MBA) گرایش مالی، کارشناسی ارشد-مدیریت کسب و کار (MBA) گرایش رفتار سازمانی و منابع انسانی، کارشناسی ارشد-مدیریت کسب و کار (MBA) گرایش سیستمهای اطلاعاتی و فناوری اطلاعات ۱۲۱۸۴۷۵ -، مدیریت جهانگردی ۱۲۲۱۰۰۳ -، مدیریت دولتی ۱۲۲۱۰۰۶ -، مدیریت صنعتی ۱۲۲۱۰۱۲ -، حسابداری ۱۲۲۱۰۱۹ -، مدیریت بازرگانی ۱۲۲۱۰۲۷ -، حسابداری (چندبخشی)، مدیریت بازرگانی (چندبخشی)، مدیریت جهانگردی (چندبخشی)، مدیریت دولتی (چندبخشی)، مدیریت صنعتی (چندبخشی)، علوم اقتصادی (نظری چندبخشی ۱۲۲۱۰۲۲)

۸- ضریب افزایش مخارج دولت در الگوی سه بخشی عبارت است از:

۱. $\frac{1}{MPC}$ ۲. $\frac{1}{1-MPC}$ ۳. $\frac{1}{1+MPC}$ ۴. $\frac{1}{MPC-1}$

۹- ضریب افزایش مالیات برون زا در الگوی سه بخشی عبارتست از:

۱. $\frac{-MPC}{1-MPC}$ ۲. $\frac{MPC}{1-MPC}$ ۳. $\frac{MPS}{1-MPC}$ ۴. $\frac{-MPS}{1-MPC}$

۱۰- ضریب افزایش بودجه متعادل برابر است با:

۱. ۰/۵ ۲. ۱ ۳. ۱/۵ ۴. ۲

۱۱- شرط تعادل در الگوی سه بخشی، یعنی با وجود دولت عبارت است از:

۱. $T+G=S+I$ ۲. $I+T=S+G$ ۳. $S+T=I+G$ ۴. $T-G-S=I$

۱۲- اگر $MPC = MPS$ باشد، ضریب تکاثر مالیات مستقل در الگوی سه بخشی برابر است با:

۱. ۰/۵ ۲. ۱ ۳. -۱ ۴. ۲

۱۳- MPS برابر است با:

۱. $1-MPC$ ۲. $1+MPC$ ۳. $MPC-1$ ۴. $\frac{1}{MPC}$

۱۴- در الگوی اقتصادی $C = ۲۰۰ + ۰/۸Y$ و $I = ۴۰۰$ و $T = ۵۰ + ۰/۱Y$ و $G = ۳۵۰$ در سطح درآمد ملی تعادلی میزان مالیات برابر است با:

۱. ۳۰۹ ۲. ۳۱۴ ۳. ۳۷۵ ۴. ۴۶۰

۱۵- چه کسی عرضه پول را کنترل می کند؟

۱. مردم ۲. دولت ۳. بانکهای تجاری ۴. بانک مرکزی

تعداد سوالات: نسی: ۴۰. تشریحی: ۰. زمان آزمون (دقیقه): نسی: ۹۰. تشریحی: ۰. سری سوال: ۱ یک

عنوان درس: اصول اقتصاد. اصول علم اقتصاد ۲. اصول علم اقتصاد ۲ (کلان - جهانگردی). اقتصاد کلان

رشته تحصیلی / کد درس: کارشناسی ارشد - مدیریت کسب و کار (MBA) گرایش استراتژی، کارشناسی ارشد - مدیریت کسب و کار (MBA) گرایش بازاریابی، کارشناسی ارشد - مدیریت کسب و کار (MBA) گرایش کار آفرینی، کارشناسی ارشد - مدیریت کسب و کار (MBA) گرایش کسب و کار بین المللی، کارشناسی ارشد - مدیریت کسب و کار (MBA) گرایش مالی، کارشناسی ارشد - مدیریت کسب و کار (MBA) گرایش رفتار سازمانی و منابع انسانی، کارشناسی ارشد - مدیریت کسب و کار (MBA) گرایش سیستمهای اطلاعاتی و فناوری اطلاعات ۱۲۱۸۴۷۵ -، مدیریت جهانگردی ۱۲۲۱۰۰۳ -، مدیریت دولتی ۱۲۲۱۰۰۶ -، مدیریت صنعتی ۱۲۲۱۰۱۲ -، حسابداری ۱۲۲۱۰۱۹ -، مدیریت بازرگانی ۱۲۲۱۰۲۷ -، حسابداری (چندبخشی)، مدیریت بازرگانی (چندبخشی)، مدیریت جهانگردی (چندبخشی)، مدیریت دولتی (چندبخشی)، مدیریت صنعتی (چندبخشی)، علوم اقتصادی (نظری چندبخشی ۱۲۲۱۰۲۲)

۱۶- اگر نسبت ذخیره قانونی ۲۰ درصد باشد و حجم ذخایر به میزان ۲۰۰ واحد پول افزایش یابد، حجم سپرده در اقتصاد حداکثر چه مقدار تغییر می کند؟

- ۴۰ . ۱ ۱۰۰۰ . ۲ ۲۰۰ . ۳ ۴۰۰ . ۴

۱۷- کینز عقیده داشت که تقاضا برای پول بستگی دارد به:

۱. تولید ملی و پس انداز
۲. تولید ملی و سرمایه گذاری
۳. تولید ملی و نرخ بهره
۴. سرمایه گذاری و نرخ بهره

۱۸- کدامیک از موارد زیر جزو مشخصه های عمده پول نیستند؟

۱. وسیله مبادله ۲. وسیله ذخیره ارزش ۳. واحد حساب ۴. وسیله وام دادن

۱۹- کلاسیک ها عقیده داشتند که تقاضا برای پول بستگی دارد به:

۱. مصرف ۲. پس انداز ۳. سرمایه گذاری ۴. تولید ملی

۲۰- کدامیک از اقلام زیر جزو وظایف بانک مرکزی نمی باشد؟

۱. بانکداری دولت ۲. انتشار اسکناس و مسکوک
۳. وام دادن به بخش خصوصی ۴. اجرای سیاست پولی

۲۱- کدامیک از اقلام زیر جزو داراییهای ایجاد کننده درآمد بانکهای تجاری نیستند؟

۱. وام ۲. سرمایه گذاری
۳. ذخایر ۴. ساختمانها و سهام و تجهیزات مورد استفاده بانک

۲۲- کدام یک از اقلام زیر باعث تغییر مکان منحنی تقاضای کل نمی شوند؟

۱. تغییر مخارج دولت ۲. تغییر مالیاتها
۳. تغییر قیمتها ۴. تغییر سرمایه گذاری برون زا

تعداد سوالات: نسی: ۴۰ تشریحی: ۰
زمان آزمون (دقیقه): نسی: ۹۰ تشریحی: ۰
سری سوال: ۱ یک

عنوان درس: اصول اقتصاد، اصول علم اقتصاد ۲، اصول علم اقتصاد ۲ (کلان - جهانگردی)، اقتصاد کلان

رشته تحصیلی/کد درس: کارشناسی ارشد-مدیریت کسب و کار (MBA) گرایش استراتژی، کارشناسی ارشد-مدیریت کسب و کار (MBA) گرایش بازاریابی، کارشناسی ارشد-مدیریت کسب و کار (MBA) گرایش کار آفرینی، کارشناسی ارشد-مدیریت کسب و کار (MBA) گرایش کسب و کار بین المللی، کارشناسی ارشد-مدیریت کسب و کار (MBA) گرایش مالی، کارشناسی ارشد-مدیریت کسب و کار (MBA) گرایش رفتار سازمانی و منابع انسانی، کارشناسی ارشد-مدیریت کسب و کار (MBA) گرایش سیستمهای اطلاعاتی و فناوری اطلاعات ۱۲۱۸۴۷۵ -، مدیریت جهانگردی ۱۲۲۱۰۰۳ -، مدیریت دولتی ۱۲۲۱۰۰۶ -، مدیریت صنعتی ۱۲۲۱۰۱۲ -، حسابداری ۱۲۲۱۰۱۹ -، مدیریت بازرگانی ۱۲۲۱۰۲۷ -، حسابداری (چندبخشی)، مدیریت بازرگانی (چندبخشی)، مدیریت جهانگردی (چندبخشی)، مدیریت دولتی (چندبخشی)، مدیریت صنعتی (چندبخشی)، علوم اقتصادی (نظری) (چندبخشی) ۱۲۲۱۰۳۲

۲۳- کدام یک از عوامل زیر باعث تغییر مکان منحنی عرضه کل می گردند؟

۱. تغییر در قیمتها
۲. تغییر در سرمایه گذاری
۳. تغییر در انتظارات تورمی
۴. تغییر در پس انداز

۲۴- منحنی تقاضای کل کلاسیک از کدام یک از عوامل زیر گرفته شده است؟

۱. بازار کار
۲. تقاضای معامله پول
۳. سرمایه گذاری
۴. مصرف

۲۵- کدام یک از انواع بیکاری ناشی از نوسان در فعالیتهای اقتصادی می باشد؟

۱. بیکاری طبیعی
۲. بیکاری ساختاری
۳. بیکاری اصطکاکی
۴. بیکاری ادواری

۲۶- بیکاری که به علت عدم تطابق بین مهارتهای شغلی و مهارتهای مورد نیاز کارفرمایان ایجاد می شود، چه نام دارد؟

۱. بیکاری ادواری
۲. بیکاری ساختاری
۳. بیکاری طبیعی
۴. بیکاری اصطکاکی

۲۷- اگر شاخص قیمت در سال ۱۳۹۳ برابر ۱۸۰ و در سال ۱۳۹۲ برابر ۱۲۰ باشد، نرخ تورم سال ۱۳۹۳ کدام است؟

۱. ۵۰ درصد
۲. ۶۰ درصد
۳. ۳۰ درصد
۴. ۲۵ درصد

۲۸- کدام یک از گزینه های زیر در مورد علت تورم صحیح است؟

۱. هر افزایش تقاضایی، لزوماً منجر به تورم می شود.
۲. افزایش تقاضا در صورتی منجر به تورم می شود که عرضه ثابت باشد.
۳. هر کاهش عرضه ای، منجر به تورم می شود.
۴. کاهش عرضه در صورتی منجر به تورم می شود که کاهش تقاضا از کاهش عرضه بیشتر باشد.

۲۹- تورم کاهش خواهد یافت اگر

۱. تقاضای کل ثابت بماند و هزینه نهاده ها افزایش یابد.
۲. تقاضای کل ثابت بماند و عرضه افزایش یابد.
۳. عرضه کل کاهش یابد.
۴. عرضه کل ثابت بماند.

تعداد سوالات: نسی: ۴۰: تشریحی: ۰: زمان آزمون (دقیقه): نسی: ۹۰: تشریحی: ۰: سری سوال: ۱ یک

عنوان درس: اصول اقتصاد، اصول علم اقتصاد ۲، اصول علم اقتصاد ۲ (کلان - جهانگردی)، اقتصاد کلان

رشته تحصیلی / کد درس: کارشناسی ارشد - مدیریت کسب و کار (MBA) گرایش استراتژی، کارشناسی ارشد - مدیریت کسب و کار (MBA) گرایش بازاریابی، کارشناسی ارشد - مدیریت کسب و کار (MBA) گرایش کار آفرینی، کارشناسی ارشد - مدیریت کسب و کار (MBA) گرایش کسب و کار بین المللی، کارشناسی ارشد - مدیریت کسب و کار (MBA) گرایش مالی، کارشناسی ارشد - مدیریت کسب و کار (MBA) گرایش رفتار سازمانی و منابع انسانی، کارشناسی ارشد - مدیریت کسب و کار (MBA) گرایش سیستمهای اطلاعاتی و فناوری اطلاعات ۱۲۱۸۴۷۵ -، مدیریت جهانگردی ۱۲۲۱۰۰۳ -، مدیریت دولتی ۱۲۲۱۰۰۶ -، مدیریت صنعتی ۱۲۲۱۰۱۲ -، حسابداری ۱۲۲۱۰۱۹ -، مدیریت بازرگانی ۱۲۲۱۰۲۷ -، حسابداری (چندبخشی)، مدیریت بازرگانی (چندبخشی)، مدیریت جهانگردی (چندبخشی)، مدیریت دولتی (چندبخشی)، مدیریت صنعتی (چندبخشی)، علوم اقتصادی (نظری چندبخشی ۱۲۲۱۰۲۲)

۳۰- تورم ناشی از فشار تقاضا به دلیل بوجود می آید.

۱. تغییر در انتظارات تورمی
۲. کاهش حجم پول
۳. افزایش مخارج دولتی
۴. افزایش هزینه نهاده ها

۳۱- منحنی فیلیپس، منحنی است که

۱. رابطه نرخ تورم و نرخ بیکاری را نشان می دهد.
۲. رابطه نرخ تورم و درآمد ملی را نشان می دهد.
۳. رابطه درآمد ملی و نرخ بهره را نشان می دهد.
۴. رابطه درآمد و سطح عمومی قیمت ها را نشان می دهد.

۳۲- با افزایش درآمد ملی و به تبع آن افزایش نرخ بهره اگر دولت بخواهد نرخ بهره را ثابت نگهدارد، کدام یک از سیاستهای زیر مناسب است؟

۱. کاهش نرخ ذخیره قانونی
۲. افزایش نرخ تنزیل مجدد.
۳. فروش اوراق قرضه توسط بانک مرکزی
۴. افزایش مالیات

۳۳- کدام یک از سیاستهای زیر، سیاست پولی انقباضی است؟

۱. خرید اوراق قرضه توسط بانک مرکزی
۲. کاهش نرخ ذخیره قانونی
۳. کاهش نرخ تنزیل مجدد
۴. افزایش نرخ ذخیره قانونی

۳۴- کدامیک از موارد زیر جزو موانع در راه رشد کشورهای فقیر محسوب نمی شود؟

۱. تشکیل سرمایه
۲. پیشرفتهای فنی
۳. رشد سرمایه انسانی
۴. منابع طبیعی غنی

۳۵- دولت چگونه بر توزیع درآمد در جامعه اثر می گذارد؟

۱. از طریق بازار کار
۲. با تغییر در حجم پول
۳. از طرق مالیاتها و پرداختهای انتقالی
۴. از طرق سرمایه گذاری

تعداد سوالات: نسی: ۴۰: تشریحی: ۰: زمان آزمون (دقیقه): نسی: ۹۰: تشریحی: ۰: سری سوال: ۱ یک

عنوان درس: اصول اقتصاد، اصول علم اقتصاد ۲، اصول علم اقتصاد ۲ (کلان - جهانگردی)، اقتصاد کلان

رشته تحصیلی/کد درس: کارشناسی ارشد-مدیریت کسب و کار (MBA) گرایش استراتژی، کارشناسی ارشد-مدیریت کسب و کار (MBA) گرایش بازاریابی، کارشناسی ارشد-مدیریت کسب و کار (MBA) گرایش کار آفرینی، کارشناسی ارشد-مدیریت کسب و کار (MBA) گرایش کسب و کار بین المللی، کارشناسی ارشد-مدیریت کسب و کار (MBA) گرایش مالی، کارشناسی ارشد-مدیریت کسب و کار (MBA) گرایش رفتار سازمانی و منابع انسانی، کارشناسی ارشد-مدیریت کسب و کار (MBA) گرایش سیستمهای اطلاعاتی و فناوری اطلاعات ۱۲۱۸۴۷۵ -، مدیریت جهانگردی ۱۲۲۱۰۰۳ -، مدیریت دولتی ۱۲۲۱۰۰۶ -، مدیریت صنعتی ۱۲۲۱۰۱۲ -، حسابداری ۱۲۲۱۰۱۹ -، مدیریت بازرگانی ۱۲۲۱۰۲۷ -، حسابداری (چندبخشی)، مدیریت بازرگانی (چندبخشی)، مدیریت جهانگردی (چندبخشی)، مدیریت دولتی (چندبخشی)، مدیریت صنعتی (چندبخشی)، علوم اقتصادی (نظری چندبخشی ۱۲۲۱۰۳۲)

۳۶- عامل اصلی کسر بودجه دولت ایران بین سالهای ۱۳۵۹ تا ۱۳۶۷:

۱. افزایش هزینه های تحقیق و توسعه
۲. افزایش هزینه های دفاعی ملی و کاهش قیمت نفت و کاهش صادرات نفت
۳. افزایش توان مالیات گیری دولت
۴. افزایش واردات کالاهای مصرفی

۳۷- قاعده بودجه متعادل مسئله ای است که:

۱. بیروان کینز با آن مخالف میباشد، اما پول گرایان و کلاسیک های جدید با آن موافقت.
۲. بیروان کینز، پول گرایان و کلاسیک های جدید با آن موافقت.
۳. بیروان کینز با آن موافقت، اما پول گرایان و کلاسیک های جدید با آن موافق نیستند.
۴. بیروان کینز، پول گرایان و کلاسیک های جدید با آن مخالفند.

۳۸- نیست کسر بودجه ادواری به کل کسر بودجه، در دوره رکود اقتصادی و در دوره رونق اقتصادی..... می باشد.

۱. بیشتر - کمتر
۲. بیشتر - ثابت
۳. ثابت - کمتر
۴. کمتر - بیشتر

۳۹- با کاهش تولید در دوره رکود، نسبت تولید به نهاده کار.....

۱. کاهش می یابد.
۲. افزایش می یابد.
۳. ثابت می ماند
۴. بستگی به میزان سرمایه گذاری دارد.

۴۰- تغییر در ترکیب سنی و جنسی نیروی کار در جهت ورود زنان و جوانان به نیروی کار:

۱. بهره وری نیروی کار را افزایش می دهد.
۲. بهره وری نیروی کار را کاهش می دهد.
۳. در بهره وری نیروی کار تاثیری ندارد.
۴. بهره وری را افزایش و تولید را کاهش می دهد.

وضعیت کلید پاسخ صحیح د ج ب الف شماره سوال

1	X	د	عادي
2	X	ب	عادي
3	X	ج	عادي
4	X	ب	عادي
5	X	ب	عادي
6	X	ج	عادي
7	X	ب	عادي
8	X	ب	عادي
9	X	الف	عادي
10	X	ب	عادي
11	X	ج	عادي
12	X	ج	عادي
13	X	الف	عادي
14	X	ج	عادي
15	X	د	عادي
16	X	ب	عادي
17	X	ب	عادي
18	X	د	عادي
19	X	د	عادي
20	X	ج	عادي
21	X	ج	عادي
22	X	ج	عادي
23	X	ج	عادي
24	X	ب	عادي
25	X	د	عادي
26	X	ب	عادي
27	X	الف	عادي
28	X	ب	عادي
29	X	ب	عادي
30	X	ج	عادي
31	X	الف	عادي
32	X	الف	عادي
33	X	د	عادي
34	X	د	عادي
35	X	ج	عادي
36	X	ب	عادي
37	X	الف	عادي
38	X	الف	عادي
39	X	الف	عادي
40	X	ب	عادي

pasokh 95-1

تعداد سوالات: تستی: ۴۰: تشریحی: ۰. زمان آزمون (دقیقه): تستی: ۹۰: تشریحی: ۰. سری سوال: یک ۱

عنوان درس: اصول علم اقتصاد ۲، اصول علم اقتصاد ۳ (کلان - جهانگردی)، اقتصاد کلان

رشته تحصیلی/گد فرس: مدیریت جهانگردی ۱۳۲۱۰۰۳ - مدیریت دولتی ۱۳۲۱۰۰۶ - مدیریت صنعتی ۱۳۲۱۰۱۲ - حسابداری ۱۳۲۱۰۱۹ - مدیریت بازرگانی ۱۳۲۱۰۲۷ - علوم اقتصادی (نظری) چندبخشی، مدیریت جهانگردی (چندبخشی)، حسابداری (چندبخشی)، مدیریت صنعتی (چندبخشی)، مدیریت بازرگانی (چندبخشی)، مدیریت دولتی (چندبخشی) ۱۳۲۱۰۳۲

۱- اقتصاد کلان بررسی نظریه ها یا انگاره هایی است که برای توضیح کدام یک از گزینه های زیر ارائه شده اند؟

۱. عملکرد اقتصادی یک کشور
۲. عملکرد اقتصادی کل جهان
۳. فعالیت اقتصادی بنگاه ها
۴. فعالیت اقتصادی بخش ها

۲- کدام یک از گزینه های زیر، از بزرگترین اجزاء تولید ناخالص ملی می باشد؟

۱. مصرف
۲. سرمایه گذاری
۳. مخارج دولت
۴. خالص صادرات

۳- سیاستگزاران از ارقام تولید ناخالص ملی برای کدام یک از گزینه های زیر استفاده می کنند؟

۱. برای بررسی نوسانات کوتاه مدت و اثرات بلند مدت.
۲. برای کنترل نوسانات کوتاه مدت و روند رشد بلند مدت.
۳. برای بررسی نوسانات فعالیت های کوتاه مدت و بلند مدت.
۴. برای کنترل فعالیت های کوتاه مدت و بلند مدت.

۴- در الگوی کلاسیک مهمترین نهاده برای تولید کالا کدام گزینه زیر است؟

۱. سرمایه
۲. نیروی کار
۳. تکنولوژی
۴. مواد اولیه

۵- گرایش نهایی به مصرف (MPC) با افزایش درآمد چگونه تغییر می کند؟

۱. زیاد می شود.
۲. کم می شود.
۳. بدون تغییر می ماند.
۴. نا مشخص است.

۶- اگر در الگوی ساده کینزی $Y = 300$ و $S = 25$ و $I = 100$ باشد، موجودی ناخواسته انبار (کمبود یا مازاد) برابر کدام گزینه زیر خواهد بود؟

۱. ۵۰
۲. ۷۵
۳. ۵۰-
۴. ۷۵-

۷- وقتی یکی از مخارج مستقل (مثلاً: سرمایه گذاری) افزایش می یابد، فرآیند ضریب افزایش در یک مرحله (افزایش تولید در یک مقدار مشخص) متوقف می شود؟

۱. در هر دور بعدی مقدار افزایش در تقاضا برای کالای مصرفی بزرگتر می شود.
۲. در هر دور بعدی مقدار افزایش در تقاضا برای کالای مصرفی کوچکتر می شود.
۳. در هر دور بعدی مقدار افزایش در تقاضا برای سرمایه گذاری بزرگتر می شود.
۴. در هر دور بعدی مقدار افزایش در تقاضا برای سرمایه گذاری کوچکتر می شود.

تعداد سوالات: تستی: ۴۰: تشریحی: ۰. زمان آزمون (دقیقه): تستی: ۹۰: تشریحی: ۰. سری سوال: ۱ یک

عنوان درس: اصول علم اقتصاد ۲، اصول علم اقتصاد ۳ (کلان - جهانگردی)، اقتصاد کلان

رشته تحصیلی/گد درس: مدیریت جهانگردی ۱۳۲۱۰۰۳ - مدیریت دولتی ۱۳۲۱۰۰۶ - مدیریت صنعتی ۱۳۲۱۰۱۳ - حسابداری ۱۳۲۱۰۱۹ - مدیریت بازرگانی ۱۳۲۱۰۲۷ - علوم اقتصادی (نظری) چندبخشی، مدیریت جهانگردی (چندبخشی)، حسابداری (چندبخشی)، مدیریت صنعتی (چندبخشی)، مدیریت بازرگانی (چندبخشی)، مدیریت دولتی (چندبخشی) ۱۳۲۱۰۳۲

۸- با افزایش مالیات ها کدام یک از گزینه های زیر در اقتصاد رخ می دهد؟

۱. $AD > Y$ ۲. $S + T > Y$ ۳. $S + T > I + G$ ۴. $I + G > Y$

۹- کدام یک از گزینه های زیر ضریب افزایش در اقتصاد باز است؟ (m, t, b) به ترتیب میل نهایی به مصرف، مالیات و واردات هستند

۱. $\frac{1}{1-b+bt+m}$ ۲. $\frac{1}{1-b-bt+m}$ ۳. $\frac{b}{1-b+bt+m}$ ۴. $\frac{-b}{1-b+bt+m}$

۱۰- پول هم مانند هر کالای اقتصادی دیگر به کدام یک از گزینه های زیر بستگی دارد؟

۱. سیاست پولی و مالی ۲. نرخ بهره و تولید ۳. عامل زمان و مکان ۴. عوامل بازار پول

۱۱- کدام یک از گزینه های زیر عرضه پول را کنترل می کند؟

۱. دولت ۲. مردم ۳. بانک های بازرگانی ۴. بانک مرکزی

۱۲- بر اساس کدام یک از گزینه های زیر سرعت گردش پول (نسبت درآمد به پول) مقداری ثابت نخواهد بود؟

۱. اگر تقاضای پول علاوه بر درآمد به نرخ بهره نیز بستگی داشته باشد.
۲. اگر تقاضای پول تنها به درآمد افراد بستگی داشته باشد.
۳. اگر عرضه پول علاوه بر درآمد به نرخ بهره نیز بستگی داشته باشد.
۴. اگر عرضه پول تنها تابع سیاست های پولی و مالی دولت باشد.

۱۳- کدام یک از گزینه های زیر را " اثر بیرون کردن بخش خصوصی از بازار " گفته می شود؟

۱. هر افزایش تولیدی که ناشی از سیاست پولی انبساطی باشد.
۲. هر افزایش تولیدی که ناشی از سیاست مالی انبساطی باشد.
۳. هر کاهش تولیدی که ناشی از سیاست مالی انقباضی باشد.
۴. هر کاهش تولیدی که ناشی از سیاست پولی انقباضی باشد.

تعداد سوالات: تستی: ۴۰: تشریحی: ۰. زمان آزمون (دقیقه): تستی: ۹۰: تشریحی: ۰. سری سوال: ۱ یک

عنوان درس: اصول علم اقتصاد ۲، اصول علم اقتصاد ۳ (کلان - جهانگردی)، اقتصاد کلان

رشته تحصیلی/گد درس: مدیریت جهانگردی ۱۳۲۱۰۰۳ - مدیریت دولتی ۱۳۲۱۰۰۶ - مدیریت صنعتی ۱۳۲۱۰۱۳ - حسابداری ۱۳۲۱۰۱۹ - مدیریت بازرگانی ۱۳۲۱۰۲۷ - علوم اقتصادی (نظری) چندبخشی، مدیریت جهانگردی (چندبخشی)، حسابداری (چندبخشی)، مدیریت صنعتی (چندبخشی)، مدیریت بازرگانی (چندبخشی)، مدیریت دولتی (چندبخشی) ۱۳۲۱۰۳۲

۱۴- هرگاه در اقتصادی بطور همزمان سیاست پولی و مالی انبساطی اتخاذ گردد، تغییرات نرخ بهره و درآمد ملی مطابق کدام یک از گزینه های زیر خواهد بود؟

۱. نرخ بهره و درآمد ملی هردو زیاد می شود.
۲. نرخ بهره و درآمد ملی هردو کم می شود.
۳. نرخ بهره کم، ولی درآمد ملی نا مشخص است.
۴. نرخ بهره نا مشخص، ولی درآمد ملی زیاد می شود.

۱۵- کدام یک از گزینه های زیر، از اشکال مختلف پرداخت وام به مشتریان بانک ها است؟

۱. خرید سهام معاملات ارزی
۲. صدور حواله و چک
۳. تنزیل اوراق بهادار
۴. روش عامل پرداخت

۱۶- کدام یک از گزینه های زیر، تقسیم بندی وام ها برحسب سر رسید وام درست است؟

۱. وام های کوتاه مدت و بلند مدت
۲. وام های کوتاه مدت و دیداری
۳. وام های کوتاه مدت و مدت دار
۴. وام های دیداری و مدت دار

۱۷- کدام یک از گزینه های زیر از، ابزارهای کنترل حجم قدرت خرید و ذخیره بانک ها است؟

۱. سیاست های پولی انبساطی و انقباضی، تغییر در ذخیره قانونی
۲. نرخ تنزیل مجدد، نسبت ذخیره خواسته شده، سیاست های پولی
۳. عملیات بازار باز، نرخ تنزیل مجدد، نسبت ذخیره خواسته شده
۴. عملیات بازار باز، نرخ تنزیل مجدد، نسبت ذخیره احتیاطی

۱۸- کدام یک از گزینه های زیر، علاوه بر مسئولیت نگاهداری حسابهای دولت برای اولین بار حق نشر اسکناس (در سال ۱۳۱۱) نیز به این بانک واگذار شد؟

۱. بانک شاهی
۲. بانک پهلوی قشون
۳. بانک سپه
۴. بانک ملی

۱۹- شورای عالی بانک ها شامل چند عضو می باشد؟

۱. هفت عضو
۲. هشت عضو
۳. نه عضو
۴. ده عضو

۲۰- افزایش سطح عمومی قیمت ها، براساس کدام یک از گزینه های زیر باعث کاهش تقاضای کل می گردد؟

۱. اثر قیمت و اثر ثروت
۲. اثر قیمت و اثر نرخ بهره
۳. اثر نرخ بهره و اثر ثروت
۴. اثر درآمد و اثر قیمت



تعداد سوالات: تستی: ۴۰؛ تشریحی: ۰. زمان آزمون (دقیقه): تستی: ۹۰؛ تشریحی: ۰. سری سوال: ۱ یک

عنوان درس: اصول علم اقتصاد؛ اصول علم اقتصاد (کلان - جهانگردی)، اقتصاد کلان

رشته تحصیلی/گد فرس: مدیریت جهانگردی ۱۳۲۱۰۰۳ - مدیریت دولتی ۱۳۲۱۰۰۶ - مدیریت صنعتی ۱۳۲۱۰۱۲ - حسابداری ۱۳۲۱۰۱۹ - مدیریت بازرگانی ۱۳۲۱۰۲۷ - علوم اقتصادی (نظری) چندبخشی، مدیریت جهانگردی (چندبخشی)، حسابداری (چندبخشی)، مدیریت صنعتی (چندبخشی)، مدیریت بازرگانی (چندبخشی)، مدیریت دولتی (چندبخشی) ۱۳۲۱۰۳۲

۲۱- کدام یک از گزینه های زیر از عوامل جانبی کاهش نرخ رشد تولید در دو دهه ۱۹۷۰ و ۱۹۸۰ ایالات متحده آمریکا بوده است؟

۱. رشد بیکاری ساختاری
۲. رشد تورم ساختاری
۳. سیاست های نامناسب مالی
۴. سیاست های نامناسب پولی

۲۲- اولین شوک قیمت نفت که باعث رکود شدید در ایالات متحده آمریکا و سایر کشورهای عمده وارد کننده نفت گردید، مربوط به کدام یک از گزینه های زیر است؟

۱. سال ۱۹۶۰
۲. سال ۱۹۴۵
۳. سال ۱۹۶۵
۴. سال ۱۹۷۰

۲۳- اعمال یک سیاست پولی انبساطی (افزایش عرضه پول) چه تاثیری بر تولید و قیمت تعادلی دارد؟

۱. هر دو (تولید و قیمت تعادلی) زیاد می شود.
۲. هر دو (تولید و قیمت تعادلی) کم می شود.
۳. هیچ تاثیری بر تولید و قیمت تعادلی ندارد.
۴. تغییر تولید و قیمت تعادلی به شیب منحنی عرضه بستگی دارد.

۲۴- شوک بزرگ افزایش قیمت نفت باعث بوجود آمدن، کدام یک از گزینه های زیر در کشورهای وارد کننده نفت شد؟

۱. کاهش تولید، درآمد ملی و سرمایه گذاری
۲. انتقال منحنی عرضه به راست و پایین
۳. انتقال منحنی تقاضا به چپ و بالا
۴. کاهش تولید و افزایش سطح عمومی قیمت ها

۲۵- سیاست هایی که به دنبال اهدافی چون از میان برداشتن نوسان های شدید در سطح فعالیت های اقتصادی هستند، جزء کدام یک از گزینه های زیر هستند؟

۱. سیاست های انبساطی
۲. سیاست های انقباضی
۳. سیاست های ضد تورمی
۴. سیاست های تثبیت

۲۶- کدام یک از گزینه های زیر را تورم رکودی (یا رکود تورمی) گویند؟

۱. نرخ تورم بالا و نرخ بیکاری پایین
۲. نرخ تورم پایین و نرخ بیکاری بالا
۳. نرخ تورم پایین و نرخ بیکاری پایین
۴. نرخ تورم بالا و نرخ بیکاری بالا



تعداد سوالات: تستی: ۴۰: تشریحی: ۰. زمان آزمون (دقیقه): تستی: ۹۰: تشریحی: ۰. سری سوال: ۱ یک

عنوان درس: اصول علم اقتصاد ۲، اصول علم اقتصاد ۳ (کلان - جهانگردی)، اقتصاد کلان

رشته تحصیلی/گد درس: مدیریت جهانگردی ۱۳۲۱۰۰۳ - مدیریت دولتی ۱۳۲۱۰۰۶ - مدیریت صنعتی ۱۳۲۱۰۱۲ - حسابداری ۱۳۲۱۰۱۹ - مدیریت بازرگانی ۱۳۲۱۰۲۷ - علوم اقتصادی (نظری) چندبخشی، مدیریت جهانگردی (چندبخشی)، حسابداری (چندبخشی)، مدیریت صنعتی (چندبخشی)، مدیریت بازرگانی (چندبخشی)، مدیریت دولتی (چندبخشی) ۱۳۲۱۰۳۲

۲۷- در الگوی کینز اگر تنها عرضه کل به سمت راست و پایین جابجا شود، کدام گزینه زیر را خواهیم داشت؟

۱. تولید افزایش ولی سطح عمومی قیمت ها کاهش می یابد.
۲. تولید کاهش ولی سطح عمومی قیمت ها افزایش می یابد.
۳. هر دو (تولید و سطح عمومی قیمت ها) افزایش می یابد.
۴. هر دو (تولید و سطح عمومی قیمت ها) کاهش می یابد.

۲۸- کدام یک از گزینه های زیر، اثر شوک های عرضه بر بیکاری را خنثی می کند؟

۱. سیاست های انقباضی
۲. سیاست های انبساطی
۳. سیاست های تثبیتی
۴. سیاست های درآمدی

۲۹- به عقیده پولگرایان کدام یک از گزینه های زیر، تولید ناخالص ملی اسمی را مشخص می کند؟

۱. قیمت جاری
۲. حجم پول
۳. سطح فعالیت
۴. منحنی عرضه کل

۳۰- به عقیده پولگرایان کدام یک از گزینه های زیر، باعث ارتباط رشد با ثبات در عرضه پول و فعالیت های اقتصادی می شود؟

۱. عدم وجود ارتباط بین عرضه پول و درآمد پولی
۲. وجود ارتباط نزدیک بین عرضه پول و درآمد پولی
۳. وجود ارتباط نزدیک بین عرضه پول و سطح قیمت ها
۴. عدم وجود ارتباط بین عرضه پول و سطح قیمت ها

۳۱- به عقیده پیروان کینز "رشد با ثبات عرضه پول" مطابق کدام یک از گزینه های زیر است؟

۱. نمی تواند اقتصاد را به سمت تعادل هدایت کند.
۲. می تواند اقتصاد را به سمت تعادل هدایت کند.
۳. می تواند ثبات در فعالیت های اقتصادی را تضمین کند.
۴. نمی تواند ثبات در فعالیت های اقتصادی را تضمین کند.

۳۲- به نظر پیروان کینز، قواعدی مانند بودجه متعادل یا رشد ثابت عرضه پول چگونه است؟

۱. در بلند مدت می تواند موثر باشد.
۲. در کوتاه مدت می تواند موثر باشد.
۳. اصولاً قواعد مناسبی است.
۴. کلاً قواعد زیان باری است.

تعداد سوالات: تستی: ۴۰: تشریحی: ۰. زمان آزمون (دقیقه): تستی: ۹۰: تشریحی: ۰. سری سوال: ۱ یک

عنوان درس: اصول علم اقتصاد ۲، اصول علم اقتصاد ۳ (کلان - جهانگردی)، اقتصاد کلان

رشته تحصیلی/گد درس: مدیریت جهانگردی ۱۳۲۱۰۰۳ - مدیریت دولتی ۱۳۲۱۰۰۶ - مدیریت صنعتی ۱۳۲۱۰۱۲ - حسابداری ۱۳۲۱۰۱۹ - مدیریت بازرگانی ۱۳۲۱۰۲۷ - علوم اقتصادی (نظری) چندبخشی، مدیریت جهانگردی (چندبخشی)، حسابداری (چندبخشی)، مدیریت صنعتی (چندبخشی)، مدیریت بازرگانی (چندبخشی)، مدیریت دولتی (چندبخشی) ۱۳۲۱۰۳۲

۳۳- اگر انتظارات به شکلی عقلایی شکل گیرند، کارگران در پیش بینی سطح عمومی قیمت ها در آینده، مطابق کدام یک از گزینه های زیر رفتار کرده اند؟

۱. از همه اطلاعات گذشته و آینده، منجمله اطلاعات در مورد رفتار متغیرهای سیاسی استفاده کرده اند.
۲. از همه اطلاعات حال و آینده، منجمله اطلاعات در مورد رفتار متغیرهای سیاسی استفاده کرده اند.
۳. از همه اطلاعات گذشته، منجمله اطلاعات در مورد رفتار متغیرهای سیاسی استفاده کرده اند.
۴. از همه اطلاعات گذشته و حال، منجمله اطلاعات در مورد رفتار متغیرهای سیاسی استفاده کرده اند.

۳۴- به عقیده اقتصاددانان کلاسیک جدید در دنیای واقعی سیاست های پولی جزء کدام یک از گزینه های زیر است؟

۱. ترکیبی از سیاست های سیستماتیک و منظم است.
۲. سیاست های غیر قابل پیش بینی است.
۳. سیاست های قابل پیش بینی است.
۴. ترکیبی از سیاست های قابل پیش بینی و غیر قابل پیش بینی است.

۳۵- اقتصاددانان پیرو کینز در مقایسه با کلاسیک های جدید، اقتصاد را نیازمند کدام یک از گزینه های زیر می دانند؟

۱. سیاست های اقتصادی فعال و مداخله گرایانه
۲. سیاست های اقتصادی سیستماتیک و منظم
۳. سیاست های اقتصادی سیستماتیک و غیر مداخله گرانه
۴. سیاست های اقتصادی منظم و مداخله گرانه

۳۶- به عقیده کدام یک از گزینه های زیر، سیاست مالی اثر اندکی بر قیمت و تولید دارد؟

۱. کلاسیک ها
۲. کینزینها
۳. پولگرایان و کلاسیک ها
۴. پولگرایان و کینزینها

۳۷- در صورتی که نرخ بهره در اقتصاد بیش از نرخ هدف باشد، بانک مرکزی توسط کدام یک از گزینه های زیر این نرخ را کاهش می دهد؟

۱. کاهش نسبت ذخیره قانونی
۲. افزایش نسبت ذخیره قانونی
۳. خرید اوراق بهادار دولتی در بازار باز
۴. فروش اوراق بهادار دولتی در بازار باز



تعداد سوالات: تستی: ۴۰، تشریحی: ۰. زمان آزمون (دقیقه): تستی: ۹۰، تشریحی: ۰. سری سوال: ۱ یک

عنوان درس: اصول علم اقتصاد، اصول علم اقتصاد (کلان - جهانگردی)، اقتصاد کلان

رشته تحصیلی/گد درس: مدیریت جهانگردی ۱۳۲۱۰۰۳ - مدیریت دولتی ۱۳۲۱۰۰۶ - مدیریت صنعتی ۱۳۲۱۰۱۲ - حسابداری ۱۳۲۱۰۱۹ - مدیریت بازرگانی ۱۳۲۱۰۲۷ - علوم اقتصادی (نظری) چندبخشی، مدیریت جهانگردی (چندبخشی)، حسابداری (چندبخشی)، مدیریت صنعتی (چندبخشی)، مدیریت بازرگانی (چندبخشی)، مدیریت دولتی (چندبخشی) ۱۳۲۱۰۳۲

۳۸- کدام یک از گزینه های زیر، عمده ترین منتقدان استراتژی هدف قرار دادن اعتبارات می باشند؟

۱. کلاسیک ها ۲. کلاسیک های جدید ۳. پولگرایان ۴. پیروان کینز

۳۹- کدام یک از گزینه های زیر به عنوان تثبیت کننده خودکار عمل می کنند؟

۱. برقراری ثبات در فعالیت های اقتصادی ۲. تغییر در فعالیت های اقتصادی
۳. ثبات در بودجه دولت ۴. تغییرات در بودجه دولت

۴۰- هنگامی که تثبیت کننده های خودکار عمل می کنند، غالباً بودجه دچار کدام یک از گزینه های زیر می شود؟

۱. مازاد بودجه ۲. کسر بودجه ۳. تعادل ۴. عدم تعادل

95-2

95-2

۱۳۳۱۰۳۳

وضعت کليد پاسخ صحيح د ج ب الف شماره سوال

۱	X	الف	عادي
۲	X	الف	عادي
۳	X	ب	عادي
۴	X	ب	عادي
۵	X	ب	عادي
۶	X	د	عادي
۷	X	ب	عادي
۸	X	ج	عادي
۹	X	الف	عادي
۱۰	X	ج	عادي
۱۱	X	د	عادي
۱۲	X	الف	عادي
۱۳	X	ب	عادي
۱۴	X	د	عادي
۱۵	X	ج	عادي
۱۶	X	د	عادي
۱۷	X	ج	عادي
۱۸	X	د	عادي
۱۹	X	د	عادي
۲۰	X	ج	عادي
۲۱	X	الف	عادي
۲۲	X	د	عادي
۲۳	X	د	عادي
۲۴	X	د	عادي
۲۵	X	د	عادي
۲۶	X	د	عادي
۲۷	X	الف	عادي
۲۸	X	ب	عادي
۲۹	X	ب	عادي
۳۰	X	ب	عادي
۳۱	X	د	عادي
۳۲	X	د	عادي
۳۳	X	د	عادي
۳۴	X	د	عادي
۳۵	X	الف	عادي
۳۶	X	ج	عادي
۳۷	X	ج	عادي
۳۸	X	ج	عادي
۳۹	X	د	عادي
۴۰	X	د	عادي



سری سوال: یک ۱

زمان آزمون (دقیقه): تستی: ۹۰ تشریحی: ۰

تعداد سوالات: تستی: ۴۰ تشریحی: ۰

عنوان درس: اصول علم اقتصاد ۲، اصول علم اقتصاد ۲ (کلان - جهانگردی)، اقتصاد کلان

رشته تحصیلی/گد فرس: مدیریت جهانگردی ۱۳۲۱۰۰۳ - مدیریت دولتی ۱۳۲۱۰۰۶ - مدیریت صنعتی ۱۳۲۱۰۱۳ - حسابداری ۱۳۲۱۰۱۹ - مدیریت بازرگانی ۱۳۲۱۰۲۷ - حسابداری، علوم اقتصادی (نظری)، مدیریت بازرگانی، مدیریت جهانگردی، مدیریت دولتی، مدیریت صنعتی ۱۳۲۱۰۳۲

استفاده از ماشین حساب ساده مجاز است

۱- متغیرهای اقتصاد کلان به چند دسته تقسیم می شوند؟

۱. دو گروه: پس انداز و نرخ بهره
۲. دو گروه مصرف و سرمایه گذاری
۳. دو گروه ثابت و جاری
۴. سه دسته گذشته - جاری - آتی

۲- تمرکز اقتصاد کلان بر روی چه مسائلی است؟

۱. پس انداز
۲. عرضه و تقاضا
۳. سرمایه گذاری
۴. اشتغال کامل و ثبات قیمتها

۳- کدام یک از اقلام زیر از اجزای تشکیل دهنده تولید ناخالص ملی نیستند.

۱. مصرف خصوصی
۲. سرمایه گذاری خصوصی
۳. مخارج دولت
۴. پس انداز

۴- سرمایه گذاری شامل کدام یک از اقلام زیر نیست.

۱. خرید ماشین آلات و تجهیزات
۲. خرید سکه بهار آزادی
۳. افزایش موجودی انبار
۴. ساختمان واحدهای مسکونی

۵- کدام یک از اقلام زیر از اجزای درآمد ملی نیست.

۱. مزد و حقوق افراد
۲. سود بنگاهها
۳. پس انداز
۴. خالص بهره و بهره پرداختی به افراد

۶- کدام یک از روشهای زیر جزء روشهای محاسبه درآمد ملی و تولید ملی نیستند.

۱. روش درآمد
۲. روش سرمایه گذاری
۳. روش تولید
۴. روش مخارج

۷- مجموع گرایش نهایی به مصرف و گرایش نهایی به پس انداز برابر است با:

۱. ۲
۲. ۱
۳. ۱/۵
۴. ۰/۷۵

۸- در کوتاه مدت مصرف به کدام یک از عوامل زیر بستگی ندارد:

۱. درآمد
۲. پس انداز
۳. ثروت
۴. انتظارات تورمی



تعداد سوالات: تستی: ۴۰؛ تشریحی: ۰. زمان آزمون (دقیقه): تستی: ۹۰؛ تشریحی: ۰. سری سوال: ۱ یک

عنوان درس: اصول علم اقتصاد ۲، اصول علم اقتصاد ۳ (کلان - جهانگردی)، اقتصاد کلان

رشته تحصیلی/گد فرس: مدیریت جهانگردی ۱۳۲۱۰۰۳ - مدیریت دولتی ۱۳۲۱۰۰۶ - مدیریت صنعتی ۱۳۲۱۰۱۳ - حسابداری ۱۳۲۱۰۱۹ - مدیریت بازرگانی ۱۳۲۱۰۲۷ - حسابداری، علوم اقتصادی (نظری)، مدیریت بازرگانی، مدیریت جهانگردی، مدیریت دولتی، مدیریت صنعتی ۱۳۲۱۰۳۲

۹- فرض کنید تابع مصرف $C = 100 + 0.8y$ و سرمایه گذاری برون زا برابر ۵۰ واحد است. تولید تعادلی برابر خواهد شد با:

۱. ۶۰۰ ۲. ۷۰۰ ۳. ۷۵۰ ۴. ۸۰۰

۱۰- شرط تعادل در الگوی سه بخشی، یعنی با وجود دولت، عبارت است از:

۱. $T + G = S + I$ ۲. $S = I$ ۳. $I + T = S + G$ ۴. $T - G - S = I$

۱۱- ضریب افزایش مخارج دولت در الگوی دو بخشی عبارت است از:

۱. $\frac{1}{MPC}$ ۲. $\frac{1}{1-MPC}$ ۳. $\frac{1}{1+MPC}$ ۴. $\frac{1}{1 \div MPC}$

۱۲- ضریب افزایش بودجه متعادل در حالت مالیاتهای مقطوع برابر است با:

۱. ۰/۵ ۲. ۱ ۳. ۱/۵ ۴. ۲

۱۳- ضریب افزایش مخارج مستقل در الگوی دو بخشی با کدام گزینه معادل می باشد:

۱. $\frac{1}{1-b}$ ۲. $\frac{1}{MPS}$ ۳. $\frac{1}{1-MPC}$ ۴. هر سه مورد

۱۴- تغییر در مالیاتها نیز دارای اثر ضریب افزایش است. این اثر در چه جهتی نسبت به اثر تغییرات مخارج دولت عمل می کند؟

۱. عکس ۲. موافق
۳. مستقیم ۴. هر کدام از موارد فوق امکانپذیر است
۱۵- هر واحد تغییر در مالیات اثر..... در مقایسه با یک واحد تغییر در سرمایه گذاری بر تولید تعادلی دارد.
۱. بزرگتری ۲. کوچکتری
۳. نامشخصی ۴. هر یک از موارد امکانپذیر است

۱۶- با افزایش قیمتها منحنی LM

۱. به سمت راست منتقل می شود ۲. به سمت چپ منتقل می شود
۳. شیبش زیاد می شود ۴. شیبش کم می شود

تعداد سوالات: تستی: ۴۰ تشریحی: ۰ زمان آزمون (دقیقه): تستی: ۹۰ تشریحی: ۰ سری سوال: ۱ یک

عنوان درس: اصول علم اقتصاد ۲، اصول علم اقتصاد ۳ (کلان - جهانگردی)، اقتصاد کلان

رشته تحصیلی/گد فرس: مدیریت جهانگردی ۱۳۲۱۰۰۳ - مدیریت دولتی ۱۳۲۱۰۰۶ - مدیریت صنعتی ۱۳۲۱۰۱۳ - حسابداری ۱۳۲۱۰۱۹ - مدیریت بازرگانی ۱۳۲۱۰۲۷ - حسابداری، علوم اقتصادی (نظری)، مدیریت بازرگانی، مدیریت جهانگردی، مدیریت دولتی، مدیریت صنعتی ۱۳۲۱۰۳۲

۱۷- کدام یک از موارد زیر جزو مشخصه های عمده پول نیستند؟

۱. وسیله مبادله ۲. وسیله ذخیره ارزش ۳. واحد حساب ۴. وسیله وام دادن

۱۸- اگر نرخ ذخیره قانونی ۲۰ درصد باشد اثر افزایش ۱۰۰۰ واحدی در ذخایر بر سپرده ها چه میزان خواهد بود؟

۱. ۵۰۰۰ ۲. ۲۰۰۰ ۳. ۲۰۰ ۴. ۶۰۰۰

۱۹- کلاسیک ها عقیده داشتند که خط عرضه کل اقتصاد

۱. نزولی است ۲. صعودی است ۳. افقی است ۴. عمودی است

۲۰- کینز عقیده داشت که علت بحران های اقتصادی چیست؟

۱. کمبود عرضه موثر ۲. کمبود تقاضای موثر ۳. کمبود نیروی کار ۴. کمبود سرمایه

۲۱- در کدام تعریف از پول گواهینامه های سپرده نیز لحاظ می شود؟

۱. M_1 ۲. M_2 ۳. M_3 ۴. هر سه مورد

۲۲- اگر تولید اسمی ۲۰۰۰ و تولید حقیقی ۱۵۰۰ باشد شاخص ضمنی چه میزان است؟

۱. ۱۰۰ ۲. ۱۵۰ ۳. ۱۳۳ ۴. ۲۰۰

۲۳- کدام گزینه باعث تفاوت درآمد ملی و تولید ناخالص ملی می شود؟

۱. مالیات غیر مستقیم ۲. بیکاری ۳. مصرف ۴. تورم

۲۴- کدام یک از اقلام زیر باعث تغییر مکان منحنی تقاضای کل نمی شوند؟

۱. تغییر مخارج دولت ۲. تغییر مالیاتها ۳. تغییر قیمتها ۴. تغییر سرمایه گذاری برونزا

۲۵- کدام یک از عوامل زیر باعث تغییر مکان منحنی عرضه کل می گردند؟

۱. تغییر در قیمتها ۲. تغییر در سرمایه گذاری ۳. تغییر در انتظارات تورمی بنگاهها ۴. تغییر در پس انداز

۲۶- کدام منحنی تعادل در بازار کالا در طرف تقاضای اقتصاد را نشان می دهد؟

۱. LM ۲. IS ۳. AD ۴. S

تعداد سوالات: تستی: ۴۰: تشریحی: ۰. زمان آزمون (دقیقه): تستی: ۹۰: تشریحی: ۰. سری سوال: ۱ یک

عنوان درس: اصول علم اقتصاد ۲، اصول علم اقتصاد ۲ (کلان - جهانگردی)، اقتصاد کلان

رشته تحصیلی/گد فرس: مدیریت جهانگردی ۱۳۲۱۰۰۳ - مدیریت دولتی ۱۳۲۱۰۰۶ - مدیریت صنعتی ۱۳۲۱۰۱۳ - حسابداری ۱۳۲۱۰۱۹ - مدیریت بازرگانی ۱۳۲۱۰۲۷ - حسابداری، علوم اقتصادی (نظری)، مدیریت بازرگانی، مدیریت جهانگردی، مدیریت دولتی، مدیریت صنعتی ۱۳۲۱۰۳۲

۲۷- کلاسیک ها معتقد به و در اقتصاد هستند.

۱. ناکارایی سیاست مالی - عدم دخالت دولت
۲. کارایی سیاست مالی - عدم دخالت دولت
۳. ناکارایی سیاست مالی - لزوم دخالت دولت
۴. کارایی سیاست مالی - لزوم دخالت دولت

۲۸- کدامیک از انواع بیکاری به علت نداشتن مهارت کافی ایجاد می شود؟

۱. بیکاری اصطکاکي
۲. بیکاری ساختاری
۳. بیکاری ثابت
۴. بیکاری ادواری

۲۹- رابطه میل نهایی به واردات و نرخ مالیات بر درآمد، با ضرایب فزاینده در الگوی چهاربخشی چگونه می باشد؟

۱. با افزایش میل نهایی به واردات و نرخ مالیات بر درآمد، ضرایب فزاینده کاهش می یابند
۲. با افزایش میل نهایی به واردات و نرخ مالیات بر درآمد، ضرایب فزاینده افزایش می یابند
۳. با افزایش میل نهایی به واردات ضرایب فزاینده افزایش و با افزایش نرخ مالیات بر درآمد ضرایب فزاینده کاهش می یابند
۴. با افزایش میل نهایی به واردات ضرایب فزاینده کاهش و با افزایش نرخ مالیات بر درآمد ضرایب فزاینده افزایش می یابند

۳۰- کدامیک از موارد ذیل جزو هزینه های اجتماعی تورم نمی باشد؟

۱. توزیع درآمد
۲. عدم کارایی
۳. فشارهای اجتماعی
۴. تخصیص اعتبار

۳۱- تقاضای سفته بازی با کدام گزینه ارتباط معکوس دارد؟

۱. نرخ بهره
۲. درآمد ملی
۳. مصرف
۴. سرمایه گذاری

۳۲- منحنی فیلیپس رابطه بین و را نشان می دهد

۱. تورم - رشد اقتصادی
۲. تورم - بیکاری
۳. رشد اقتصادی - بیکاری
۴. رشد اقتصادی - سرمایه گذاری

۳۳- نظرات پول گرایان ریشه در چه نوع اقتصادی دارد؟

۱. اقتصاد کلاسیک
۲. اقتصاد صنعتی
۳. اقتصاد کلان
۴. اقتصاد خصوصی

۳۴- به نظر پول گرایان مهمترین عامل تعیین کننده تولید ناخالص ملی چه چیزی است؟

۱. تقاضای پول
۲. عرضه پول
۳. سرمایه گذاری
۴. تورم



سری سوال: ۱ یک

زمان آزمون (دقیقه): تستی: ۹۰ تشریحی: ۰

تعداد سوالات: تستی: ۴۰ تشریحی: ۰

عنوان درس: اصول علم اقتصاد ۲، اصول علم اقتصاد ۲ (کلان - جهانگردی)، اقتصاد کلان

رشته تحصیلی/گد فرس: مدیریت جهانگردی ۱۳۲۱۰۰۳ - مدیریت دولتی ۱۳۲۱۰۰۶ - مدیریت صنعتی ۱۳۲۱۰۱۳ - حسابداری ۱۳۲۱۰۱۹ - مدیریت بازرگانی ۱۳۲۱۰۲۷ - حسابداری، علوم اقتصادی (نظری)، مدیریت بازرگانی، مدیریت جهانگردی، مدیریت دولتی، مدیریت صنعتی ۱۳۲۱۰۳۲

۳۵- کدام گزینه شامل سیاست های پولی انبساطی و سیاست مالی انقباضی است؟

۱. رشد نقدینگی - کاهش مالیات
۲. کاهش نقدینگی - کاهش مخارج دولت
۳. رشد نقدینگی - افزایش مالیات ها
۴. کاهش نقدینگی - رشد مخارج دولت

۳۶- کدام گزینه از ابزار های اعمال سیاست پولی است؟

۱. تغییر پرداخت انتقالی
۲. تغییر نرخ مالیات
۳. عملیات بازار باز
۴. افزایش هزینه ها

۳۷- عمده ترین منتقدان استراتژی هدف قرار دادن اعتبارات کدامند؟

۱. پولگرایان
۲. سیاست گذاران
۳. اقتصاددانان
۴. کلاسیک ها

۳۸- کدام گزینه از جمله تثبیت کننده های خودکار در اقتصاد تلقی می شود؟

۱. مالیات بر درآمد یا نرخ نهایی مالیات
۲. پس انداز
۳. سرمایه گذاری
۴. صادرات

۳۹- قاعده بودجه متعادل مسئله است که:

۱. پیروان کینز با آن مخالف می باشند، اما پول گرایان و کلاسیک های جدید با آن موافقتند.
۲. پیروان کینز، پول گرایان و کلاسیک های جدید با آن موافقتند.
۳. پیروان کینز با آن موافقتند، اما پول گرایان و کلاسیک های جدید با آن موافق نیستند.
۴. پیروان کینز، پول گرایان و کلاسیک های جدید با آن مخالفند

۴۰- از نظر کدام مکتب افزایش عرضه پول باعث افزایش تقاضای کل اقتصاد می شود؟

۱. پول گرایان
۲. کینزین ها
۳. کلاسیک های جدید
۴. هر سه مکتب

وضعت کلید پاسخ صحیح د ج ب الف شماره سوال

۱	X	ج	عادي
۲	X	د	عادي
۳	X	د	عادي
۴	X	ب	عادي
۵	X	ج	عادي
۶	X	ب	عادي
۷	X	ب	عادي
۸	X	ب	عادي
۹	X	ج	عادي
۱۰	X	ج	عادي
۱۱	X	ب	عادي
۱۲	X	ب	عادي
۱۳	X	د	عادي
۱۴	X	الف	عادي
۱۵	X	ب	عادي
۱۶	X	ب	عادي
۱۷	X	د	عادي
۱۸	X	الف	عادي
۱۹	X	د	عادي
۲۰	X	ب	عادي
۲۱	X	ج	عادي
۲۲	X	ج	عادي
۲۳	X	الف	عادي
۲۴	X	ج	عادي
۲۵	X	ج	عادي
۲۶	X	ب	عادي
۲۷	X	الف	عادي
۲۸	X	ب	عادي
۲۹	X	الف	عادي
۳۰	X	د	عادي
۳۱	X	الف	عادي
۳۲	X	ب	عادي
۳۳	X	الف	عادي
۳۴	X	ب	عادي
۳۵	X	ج	عادي
۳۶	X	ج	عادي
۳۷	X	الف	عادي
۳۸	X	الف	عادي
۳۹	X	الف	عادي
۴۰	X	د	عادي

96-1

تعداد سوالات: تستی: ۴۰: تشریحی: ۰: زمان آزمون (دقیقه): تستی: ۹۰: تشریحی: ۰: سری سوال: یک ۱

عنوان درس: اصول علم اقتصاد ۲، اصول علم اقتصاد ۳ (کلان - جهانگردی)، اقتصاد کلان، اقتصاد کلان
رشته تحصیلی/گد فرس: - مدیریت امور بانکی ۱۳۱۸۷۱۲ - مدیریت جهانگردی ۱۲۳۱۰۰۳ - مدیریت دولتی ۱۲۳۱۰۰۶ - مدیریت صنعتی ۱۲۳۱۰۱۲
حسابداری ۱۲۳۱۰۱۹ - مدیریت بازرگانی ۱۲۳۱۰۲۷ - حسابداری، علوم اقتصادی (نظری)، مدیریت دولتی، مدیریت بازر،
گانی، مدیریت صنعتی، مدیریت جهانگردی ۱۲۳۱۰۳۲

- ۱- کدام یک از گزینه های زیر جزء متغیرهای ثابت در اقتصاد محسوب می گردد؟
۰۱ درآمد ۰۲ سرمایه گذاری ۰۳ سرمایه ۰۴ نرخ بهره
- ۲- هزینه ای که برای بدست آوردن تولید ناخالص ملی متحمل می شویم و در درآمد ملی وجود ندارد، کدام است؟
۰۱ مالیات ۰۲ مخارج دولت ۰۳ استهلاک ۰۴ هزینه صادرات
- ۳- کدام یک از موارد زیر جزء درآمد ملی محسوب نمی شوند؟
۰۱ فعالیتهای صنعتی ۰۲ اقتصاد زیرزمینی ۰۳ فعالیتهای کشاورزی ۰۴ فعالیتهای خدماتی
- ۴- تولید یا درآمد سرانه چگونه محاسبه می گردد؟
۰۱ با تقسیم تولید ملی یا درآمد ملی بر جمعیت
۰۲ با تقسیم تولید ملی اسمی بر تولید ناخالص ملی حقیقی
۰۳ با تقسیم تولید ناخالص ملی اسمی بر تورم زدایی تولید ناخالص ملی
۰۴ تولید ناخالص ملی منهای خالص درآمد عوامل تولید از خارج
- ۵- باکم کردن مالیات از در آمد فردی به چه مفهومی دست پیدا می کنیم؟
۰۱ مخارج مصرفی فرد ۰۲ پس انداز
۰۳ درآمد ملی ۰۴ درآمد قابل تصرف فردی
- ۶- اگر تولید ناخالص ملی حقیقی برابر ۵۰۰ و شاخص تورم زدایی تولید ناخالص ملی برابر ۱.۵ (یک و نیم) باشد، تولید ناخالص ملی اسمی کدام است؟
۰۱ ۴۵۰ ۰۲ ۶۰۰ ۰۳ ۷۵۰ ۰۴ ۳۳۳
- ۷- اگر قیمت ها دو برابر و مزد اسمی ثابت باشد آنگاه مزد حقیقی :
۰۱ نصف می شود ۰۲ تغییر نمی کند ۰۳ چهار برابر می شود ۰۴ دو برابر می شود
- ۸- در چارچوب نظریات کلاسیک ها اگر حجم پول ۲ برابر شود سطح عمومی قیمت ها چند برابر خواهد شد؟
۰۱ ۲ برابر ۰۲ بیشتر از ۲ برابر ۰۳ کمتر از ۲ برابر ۰۴ تغییری نمی کند.

تعداد سوالات: تستی: ۴۰؛ تشریحی: ۰ زمان آزمون (دقیقه): تستی: ۹۰؛ تشریحی: ۰ سری سوال: ۱ یک

عنوان درس: اصول علم اقتصاد ۲، اصول علم اقتصاد ۳ (کلان - جهانگردی)، اقتصاد کلان، اقتصاد کلان

رشته تحصیلی/گد فرس: مدیریت امور بانکی ۱۳۱۸۷۱۲ - مدیریت جهانگردی ۱۲۳۱۰۰۳ - مدیریت دولتی ۱۲۳۱۰۰۶ - مدیریت صنعتی ۱۲۳۱۰۱۲ - حسابداری ۱۲۳۱۰۱۹ - مدیریت بازرگانی ۱۲۳۱۰۲۷ - حسابداری، علوم اقتصادی (نظری)، مدیریت دولتی، مدیریت بازرگانی، مدیریت صنعتی، مدیریت جهانگردی ۱۲۳۱۰۳۲

۹- در الگوی کلاسیک برای ثابت نگه داشتن سطح عمومی قیمت‌ها باید چه اقدامی صورت پذیرد؟

۰۱ مقدار رشد پول در هر سال ثابت باشد.

۰۲ رشد پول متناسب با رشد مالیات باشد.

۰۳ رشد پول متناسب با رشد سرعت گردش پول برابر باشد.

۰۴ رشد پول متناسب با رشد تولید حقیقی باشد.

۱۰- در یک الگوی اقتصاد دویخشی $y = 50 + 0.45C$ و سرمایه گذاری $I = 100$ می باشد، در صورتی که درآمد ۶۰۰ باشد مصرف و پس انداز به ترتیب:

۰۱ ۱۰۰ و ۵۰۰

۰۲ ۲۰۰ و ۶۰۰

۰۳ ۱۰۰ و ۴۰۰

۰۴ ۱۵۰ و ۴۵۰

۱۱- a و b به ترتیب در تابع مصرف کینز $(C = a + by)$ معرف چیست؟

۰۱ پس انداز مستقل از درآمد و میل نهایی به مصرف

۰۲ مصرف مستقل از درآمد و میل نهایی به مصرف

۰۳ مصرف مستقل از درآمد و میل نهایی به پس انداز

۰۴ ضریب متغیر درآمدی و میل نهایی به مصرف

۱۲- اگر $MPS = 0.4$ و مصرف مستقل برابر با ۸۰ باشد، تابع مصرف برابر است با:

۰۱ $C = 80 + 0.4Y$

۰۲ $C = 80 - 0.4Y$

۰۳ $C = 80 + 0.6Y$

۰۴ $C = -80 + 0.6Y$

۱۳- در یک الگوی اقتصاد دویخشی اگر $y = 50 + 0.75C$ و سرمایه گذاری $I = 100$ می باشد، ضریب افزایش سرمایه گذاری کدام است؟

۰۱ ۵

۰۲ ۳

۰۳ ۴

۰۴ ۲

۱۴- در یک الگوی سه بخشی در چه صورت ضریب افزایش مالیات بزرگتر از ضریب افزایش مخارج دولت خواهد شد؟

۰۱ مقدار پس انداز ناچیز باشد.

۰۲ مخارج دولت ناچیز باشد.

۰۳ مقدار پس انداز بزرگتر از مالیات باشد.

۰۴ هیچ وقت نمی تواند بزرگتر باشد.

۱۵- اگر میل نهایی به پس انداز برابر نیم باشد، ضریب افزایش بودجه متعادل کدام است؟

۰۱ ۲

۰۲ نیم

۰۳ ۴

۰۴ ۱

۱۶- منحنی IS.....را نشان می دهد.

۰۱ ترکیبات مختلف نرخ بهره و درآمد را که بازار پول در تعادل است.

۰۲ ترکیبات مختلف نرخ بهره و درآمد را که بازار کالا در تعادل است.

۰۳ ترکیبات مختلف نرخ بهره و عرضه پول را که بازار کالا در تعادل است.

۰۴ ترکیبات مختلف نرخ بهره و درآمد را که بازار پول در تعادل است.

سری سوال: ۱ یک

زمان آزمون (دقیقه): تستی: ۹۰ تشریحی: ۰

تعداد سوالات: تستی: ۴۰ تشریحی: ۰

عنوان درس: اصول علم اقتصاد ۲، اصول علم اقتصاد ۲ (کلان - جهانگردی)، اقتصاد کلان، اقتصاد کلان
رشته تحصیلی/گد فرس: مدیریت امور بانکی ۱۳۱۸۷۱۲ - مدیریت جهانگردی ۱۲۳۱۰۰۳ - مدیریت دولتی ۱۳۲۱۰۰۶ - مدیریت صنعتی ۱۳۲۱۰۱۲ -
حسابداری ۱۳۲۱۰۱۹ - مدیریت بازرگانی ۱۳۲۱۰۲۷ - حسابداری، علوم اقتصادی (نظری)، مدیریت دولتی، مدیریت بازر
گانی، مدیریت صنعتی، مدیریت جهانگردی ۱۳۲۱۰۳۲

۱۷- کدام گزینه صحیح است؟

۱. منحنی LM نشان دهنده ترکیبات مختلف نرخ بهره و در آمدی است که در آنها بازار کالا در تعادل است.
۲. مالیاتها و مخارج دولتی ابزار سیاست پولی محسوب می شوند.
۳. کینز معتقد بود با سیاستهای مالی نمی توان تقاضای کل را تغییر داد.
۴. تغییر در حجم پول ابزار موثر سیاست پولی محسوب می شود.

۱۸- کدام گزینه جزء وظایف (مشخصه های) پول محسوب نمی شود؟

۱. وسیله مبادله
۲. وسیله ذخیره ارزش
۳. وسیله واحد حساب یا ذخیره ارزش
۴. وسیله وام دادن

۱۹- در تعریف مقیاس عرضه پول، M_2 عبارتست از :

۱. اسکناس و مسکوک در دست مردم به علاوه سپرده های دیداری و سپرده های پس انداز و مدت دار
۲. اسکناس و مسکوک در دست مردم به علاوه سپرده های دیداری
۳. اسکناس و مسکوک در دست مردم به علاوه سپرده های دیداری و گواهینامه های سپرده
۴. سپرده های دیداری و سپرده های مدت دار

۲۰- کینز عقیده داشت که تقاضا برای پول بستگی دارد به :

۱. درآمد و پس انداز
۲. درآمد و نرخ بهره
۳. درآمد و سرمایه گذاری
۴. سرمایه گذاری و نرخ بهره

۲۱- چه کسی عرضه پول را کنترل می کند؟

۱. مردم
۲. دولت
۳. بانکهای تجاری
۴. بانک مرکزی

۲۲- کدام یک از گزینه های زیر جزء وظایف بانکها نیست؟

۱. پذیرش سپرده
۲. عامل پرداخت
۳. ارائه وام به مشتریان
۴. سرمایه گذاری زیربنایی

تعداد سوالات: تستی: ۴۰: تشریحی: ۰
زمان آزمون (دقیقه): تستی: ۹۰: تشریحی: ۰
سری سوال: ۱ یک

عنوان درس: اصول علم اقتصاد ۲، اصول علم اقتصاد ۳ (کلان - جهانگردی)، اقتصاد کلان، اقتصاد کلان
رشته تحصیلی/گد فرس: مدیریت امور بانکی ۱۳۱۸۷۱۲ - مدیریت جهانگردی ۱۲۳۱۰۰۳ - مدیریت دولتی ۱۳۲۱۰۰۶ - مدیریت صنعتی ۱۳۲۱۰۱۲ -
حسابداری ۱۳۲۱۰۱۹ - مدیریت بازرگانی ۱۳۲۱۰۲۷ - حسابداری، علوم اقتصادی (نظری)، مدیریت دولتی، مدیریت بازر
گانی، مدیریت صنعتی، مدیریت جهانگردی ۱۳۲۱۰۳۲

۲۳- کدام گزینه از وظایف بانک مرکزی نیست؟

۱. انتشار اسکناس و مسکوک
۲. اعطای وام به بانکهای تجاری
۳. مسئولیت اجرای سیاست مالی
۴. بانک بانکها

۲۴- نرخ بهره ای که بانک مرکزی برای وامی که به بانکهای تجاری می دهد از آنها دریافت می کند چه نام دارد؟

۱. نرخ ذخیره قانونی
۲. نرخ تنزیل مجدد
۳. نسبت ذخیره خواسته شده
۴. نرخ سپرده های کوتاه مدت

۲۵- اگر نرخ ذخیره قانونی برابر ۲۵ درصد باشد، ضریب افزایش سپرده کدام است؟

۱. ۴
۲. ۵
۳. ۳
۴. ۲

۲۶- افزایش سطح عمومی قیمتها از چه طریقی باعث کاهش تقاضای کل می گردد؟

۱. افزایش مخارج دولت
۲. افزایش نرخ بهره و کاهش سرمایه گذاری
۳. افزایش در ثروت حقیقی خانوار
۴. افزایش صادرات

۲۷- چرا منحنی عرضه کینزی خط عمود بر محور نیست؟

۱. دستمزدها از انعطاف کافی برخوردار نیستند تا با افزایش سطح عمومی قیمتها تنظیم شوند
۲. دستمزدها کاملاً انعطاف پذیر است.
۳. اتحادیه های کارگری از اقتدار کافی برخوردارند.
۴. مشارکت کنندگان در بازار کار اطلاعات کافی در مورد دستمزد حقیقی دارند.

۲۸- کدام یک از عوامل زیر باعث تغییر مکان منحنی عرضه کل می شود؟

۱. تغییر در قیمتها
۲. تغییر در سرمایه گذاری
۳. تغییر در انتظارات تورمی بنگاهها
۴. تغییر در پس انداز

۲۹- کدام یک از انواع بیکاری "فاصله گذاردن شغل قبلی و اشتغال به شغل جدید" می باشد؟

۱. بیکاری اصطکاکی
۲. بیکاری ساختاری
۳. بیکاری ادواری
۴. بیکاری فصلی

تعداد سوالات: تستی: ۴۰: تشریحی: ۰: زمان آزمون (دقیقه): تستی: ۹۰: تشریحی: ۰: سری سوال: ۱ یک

عنوان درس: اصول علم اقتصاد ۲، اصول علم اقتصاد ۳ (کلان - جهانگردی)، اقتصاد کلان، اقتصاد کلان
رشته تحصیلی/گد فرس: مدیریت امور بانکی ۱۳۱۸۷۱۲ - مدیریت جهانگردی ۱۲۳۱۰۰۳ - مدیریت دولتی ۱۳۲۱۰۰۶ - مدیریت صنعتی ۱۳۲۱۰۱۲ - حسابداری ۱۳۲۱۰۱۹ - مدیریت بازرگانی ۱۳۲۱۰۲۷ - حسابداری، علوم اقتصادی (نظری)، مدیریت دولتی، مدیریت بازرگانی، مدیریت صنعتی، مدیریت جهانگردی ۱۳۲۱۰۳۲

۳۰- کدام گزینه در مورد بیکاری غلط است؟

۱. نرخ بیکاری بیانگر تعداد افراد بیکار به عنوان درصدی از کل نیروی کار است.
۲. هرگاه عرضه کار بیشتر از تقاضای کار باشد در اقتصاد بیکاری وجود دارد.
۳. بیکاری ساختاری ناشی از نوسان در فعالیتهای اقتصادی است.
۴. افزایش سرعت کارایی می تواند سبب کاهش بیکاری اصطلاحی شود.

۳۱- اگر شاخص قیمت در سال ۱۳۹۴ برابر ۱۱۸/۵ و در سال ۱۳۹۳ برابر ۱۰۰ باشد. نرخ تورم سال ۱۳۹۴ کدام است؟

۱. ۲۸/۵ درصد
۲. ۱۸/۵ درصد
۳. ۳۰ درصد
۴. ۸ درصد

۳۲- کدام گزینه هزینه اجتماعی تورم نیست؟

۱. توزیع درآمد
۲. عدم کارایی
۳. فشارهای اجتماعی
۴. افزایش بیکاری

۳۳- کدام منحنی رابطه معکوس بین نرخ تورم و نرخ بیکاری را نشان می دهد؟

۱. تقاضای کل
۲. عرضه کل
۳. هزینه کل
۴. فیلیپس

۳۴- کدام یک از موارد زیر در مورد منحنی فیلیپس غلط است؟

۱. افزایش قیمت نفت یا سایر مواد خام سبب جابه جایی این منحنی به سمت راست می شود.
۲. شوکهای عرضه نامطلوب افزایش همزمان نرخ تورم و بیکاری را به همراه دارد.
۳. شوکهای عرضه نامطلوب منحنی فیلیپس را به سمت چپ منتقل می کند.
۴. افزایش نرخ دستمزد حاصل از اثر تغییر در انتظارات کارگران از تورم آتی سبب جابه جایی این منحنی به سمت راست می شود.

۳۵- کدام یک از موارد زیر در مورد پولگرایان صحیح می باشد؟

۱. پول در اقتصاد خنثی می باشد.
۲. اقتصاد در بلند مدت دارای ویژگی خود متعادل کننده است.
۳. نظرات آنان ریشه در اقتصاد سوسیالیستی دارد.
۴. برداشتی مداخله گرانه از سیاست کلان اقتصادی دارند.

سری سوال: ۱ یک

زمان آزمون (دقیقه): تستی: ۹۰ تشریحی: ۰

تعداد سوالات: تستی: ۴۰ تشریحی: ۰

عنوان درس: اصول علم اقتصاد ۲، اصول علم اقتصاد ۳ (کلان - جهانگردی)، اقتصاد کلان، اقتصاد کلان
رشته تحصیلی/گد فرس: مدیریت امور بانکی ۱۳۱۸۷۱۲ - مدیریت جهانگردی ۱۲۳۱۰۰۳ - مدیریت دولتی ۱۳۲۱۰۰۶ - مدیریت صنعتی ۱۳۲۱۰۱۲ -
حسابداری ۱۳۲۱۰۱۹ - مدیریت بازرگانی ۱۳۲۱۰۲۷ - حسابداری، علوم اقتصادی (نظری)، مدیریت دولتی، مدیریت بازر
گانی، مدیریت صنعتی، مدیریت جهانگردی ۱۳۲۱۰۳۲

۳۶- به نظر پول‌گرایان بهترین شکل اجرای سیاست پولی کدام است؟

۱. بانکهای مرکزی باید رشد باثباتی در عرضه پولی ایجاد کنند
۲. نرخ رشد عرضه پول مهمتر از ثبات آن است.
۳. بانک مرکزی باید سیاست رشد پولی بی ثبات را اجرا کند.
۴. مقامات پولی باید برای رسیدن به یک رشد معین اقتصادی، نرخ رشد پر نوسان پولی را اجرا کنند.

۳۷- کدام گزینه شامل سیاست پولی انبساطی و سیاست مالی انقباضی است؟

۱. رشد نقدینگی - کاهش مالیاتها
۲. کاهش نقدینگی - کاهش مخارج دولت
۳. رشد نقدینگی - افزایش مالیاتها
۴. کاهش نقدینگی - رشد مخارج دولت

۳۸- کدام گزینه از ابزار اعمال سیاست پولی است؟

۱. تغییر پرداخت انتقالی
۲. تغییر نرخ مالیات
۳. عملیات بازار باز
۴. افزایش هزینه ها

۳۹- از نظر پیروان کینز کدام گزینه جزء اهداف سیاستهای مالی نیست؟

۱. تخصیص
۲. توزیع
۳. تعادل تراز تجاری
۴. تثبیت

۴۰- در دوره رکود چه عاملی باعث می‌گردد درآمد قابل تصرف کمتر از تولید ناخالص ملی کاهش یابد؟

۱. کسری بودجه
۲. کاهش پرداختهای انتقالی
۳. افزایش مصرف
۴. کاهش مالیاتها

١_١٢٢١-٢٢_١٢٢١-٢٧_١٢٢١-١٩_١٢٢١-١٢_١٢٢١-٠٠٦_١٢٢١-٠٠٣_١٢١٨٧١٢_

اقتصادىكلان نيمسال دوم سال تحصيلى ٩٦-٩٥

وضعيٲ كليلد باسٲ صٲيٲ د ج ب الف شمارٲ سوال

١	عادي	ج
٢	عادي	ج
٣	عادي	ب
٤	عادي	الف
٥	عادي	د
٦	عادي	ج
٧	عادي	الف
٨	عادي	الف
٩	عادي	د
١٠	عادي	الف
١١	عادي	ب
١٢	عادي	ج
١٣	عادي	ج
١٤	عادي	د
١٥	عادي	د
١٦	عادي	ب
١٧	عادي	د
١٨	عادي	د
١٩	عادي	الف
٢٠	عادي	ب
٢١	عادي	د
٢٢	عادي	د
٢٣	عادي	ج
٢٤	عادي	ب
٢٥	عادي	الف
٢٦	عادي	ب
٢٧	عادي	الف
٢٨	عادي	ج
٢٩	عادي	الف
٣٠	عادي	ج
٣١	عادي	ب
٣٢	عادي	د
٣٣	عادي	د
٣٤	عادي	ج
٣٥	عادي	ب
٣٦	عادي	الف
٣٧	عادي	ج
٣٨	عادي	ج
٣٩	عادي	ج
٤٠	عادي	د

96-2

تعداد سوالات: تستی: ۴۰؛ تشریحی: ۰. زمان آزمون (دقیقه): تستی: ۹۰؛ تشریحی: ۰. سری سوال: یک ۱

عنوان درس: اصول علم اقتصاد ۲، اصول علم اقتصاد ۳ (کلان - جهانگردی)، اقتصاد کلان، اقتصاد کلان

رشته تحصیلی/گد درس: مدیریت امور بانکی ۱۲۱۸۷۱۲ - ، مدیریت امور گمرکی ۱۲۱۸۷۹۶ - ، مدیریت جهانگردی ۱۲۲۱۰۰۳ - ، مدیریت دولتی ۱۲۲۱۰۱۲ - ، حسابداری ۱۲۲۱۰۱۹ - ، حسابداری ۱۲۲۱۰۲۷ - ، حسابداری ، علوم ، - ۱۲۲۱۰۰۶
اقتصادی (نظری) ، مدیریت دولتی ، مدیریت بازرگانی ، مدیریت صنعتی ، مدیریت جهانگردی ۱۲۲۱۰۳۲

۱- متغیرهای ثابت اقتصاد کلان به کدام یک از گزینه های زیر گفته می شود ؟

۱. دارای بعد زمانی هستند .
۲. دارای بعد زمانی نیستند .
۳. مستقل از قیمت هستند .
۴. مستقل از قیمت نیستند .

۲- کدام یک از گزینه های زیر از مشکلات اندازه گیری ارزش کالا و خدمات نهایی بر اساس مبادلات بازاری است ؟

۱. کالا و خدماتی که در بازار فروخته نمی شوند .
۲. کالا و خدماتی که در بنگاه ها فروخته نمی شوند .
۳. کالا و خدماتی که در بنگاه ها فروخته می شوند .
۴. کالا و خدماتی که در بازار فروخته می شوند .

۳- کدام یک از گزینه های زیر ، علامت اختصاری تولید ناخالص داخلی است ؟

۱. GNP
۲. GNI
۳. GDI
۴. GDP

۴- کدام یک از گزینه های زیر ، یکی از ویژگی اصلی نظریه کلاسیک ها است ؟

۱. عرضه کل را تولید به تنهایی تعیین می کند .
۲. عرضه پول را سطح عمومی قیمت ها مشخص می کند .
۳. تقاضای کل ، عرضه پول را مشخص می کند .
۴. تولید کل را عرضه به تنهایی تعیین می کند .

۵- کدام یک از گزینه های زیر ، علت اصلی عمودی بودن منحنی عرضه کل در الگوی کلاسیک ها است ؟

۱. مزد پولی متناسب با افزایش سطح عمومی قیمت ها افزایش می یابد .
۲. مزد حقیقی متناسب با افزایش سطح عمومی قیمت ها افزایش می یابد .
۳. اشتغال در حالت تعادل کاملاً بوسیله عوامل تقاضا تعیین می شود .
۴. اشتغال در کلیه حالات بوسیله عوامل عرضه تعیین می شود .

۶- مهمترین جنبه نظریه کینزی ، کدام یک از گزینه های زیر است ؟

۱. توسعه نظریه تقاضای کل و توضیح نقش تقاضا در تعیین اشتغال
۲. توسعه نظریه عرضه کل و توضیح نقش عرضه در تعیین اشتغال
۳. توسعه نظریه عرضه کل و توضیح نقش عرضه در تعیین تولید
۴. توسعه نظریه تقاضای کل و توضیح نقش تقاضا در تعیین تولید

تعداد سوالات: تستی: ۴۰: تشریحی: ۰. زمان آزمون (دقیقه): تستی: ۹۰: تشریحی: ۰. سری سوال: ۱ یک

عنوان درس: اصول علم اقتصاد ۲، اصول علم اقتصاد ۳ (کلان - جهانگردی)، اقتصاد کلان، اقتصاد کلان

رشته تحصیلی/گد درس: مدیریت امور بانکی ۱۲۱۸۷۱۲ - ، مدیریت امور گمرکی ۱۲۱۸۷۹۶ - ، مدیریت جهانگردی ۱۲۲۱۰۰۳ - ، مدیریت دولتی ۱۲۲۱۰۰۶ - ، مدیریت صنعتی ۱۲۲۱۰۱۲ - ، حسابداری ۱۲۲۱۰۱۹ - ، مدیریت بازرگانی ۱۲۲۱۰۲۷ - ، حسابداری ، علوم اقتصادی (نظری) ، مدیریت دولتی ، مدیریت بازرگانی ، مدیریت صنعتی ، مدیریت جهانگردی ۱۲۲۱۰۳۲

۷- مخارج غیر مستقل ، به کدام یک از گزینه های زیرگفته می شود؟

۱. مخارجی که عمدتاً بوسیله درآمد دوره گذشته تعیین می شوند.
۲. مخارجی که عمدتاً بوسیله درآمد دوره جاری تعیین می شوند.
۳. مخارجی که عمدتاً بوسیله درآمد واقعی تعیین می شوند.
۴. مخارجی که عمدتاً بوسیله عواملی غیر از درآمد تعیین می شوند.

۸- براساس الگوی تعیین درآمد تعادلی کینز ، در هر سطحی پایین تر از تولید تعادلی ، کدام گزینه زیر درست است ؟

۱. پس انداز منفی است .
۲. پس انداز مثبت است .
۳. پس انداز بزرگتر از سرمایه گذاری است .
۴. پس انداز کوچکتر از سرمایه گذاری است .

۹- کدام یک از گزینه های زیر به عقیده کینز درست است ؟

۱. دولت نقش چندانی در تثبیت اقتصادی ندارد.
۲. تثبیت اقتصادی جزو وظایف دولت نمی باشد .
۳. اقتصاد سرمایه داری نمی تواند مشکلات اقتصادخرد را در نظام بازار آزاد حل می کند .
۴. اقتصاد سرمایه داری نمی تواند ثبات اقتصاد کلان را تضمین نماید .

۱۰- کدام یک از گزینه های زیر ، در دوره رکود مستقیم ترین اثر در جهت ثبات اقتصادی عمل می کند ؟

۱. افزایش پرداخت به بیکاران
۲. افزایش نرخ مالیات ها
۳. کاهش پرداخت های انتقالی
۴. پرداخت سوبسید غیرنقدی

۱۱- چرا مخارج دولت جزو مخارج مستقل به حساب می آید ؟

۱. زیرا مقدار آن را اندازه دولت تعیین می کند .
۲. زیرا مقدار آن را بانک مرکزی و دولت تعیین می کند .
۳. زیرا مقدار آن را سیاست گزاران دولت تعیین می کنند .
۴. زیرا مقدار آن را بانک مرکزی تعیین می کند .

۱۲- کدام یک از گزینه های زیر درست است ؟

۱. $\Delta c = MPC \times \Delta y$
۲. $\Delta c = MPS \times \Delta y$
۳. $\Delta y = MPS \times \Delta c$
۴. $\Delta y = MPC \times \Delta c$

تعداد سوالات: تستی: ۴۰: تشریحی: ۰. زمان آزمون (دقیقه): تستی: ۹۰: تشریحی: ۰. سری سوال: ۱ یک

عنوان درس: اصول علم اقتصاد ۲، اصول علم اقتصاد ۳ (کلان - جهانگردی)، اقتصاد کلان، اقتصاد کلان

رشته تحصیلی/گد درس: مدیریت امور بانکی ۱۲۱۸۷۱۲ - مدیریت امور گمرکی ۱۲۱۸۷۹۶ - مدیریت جهانگردی ۱۲۲۱۰۰۳ - مدیریت دولتی ۱۲۲۱۰۰۶ - مدیریت صنعتی ۱۲۲۱۰۱۲ - حسابداری ۱۲۲۱۰۱۹ - مدیریت بازرگانی ۱۲۲۱۰۲۷ - حسابداری ، علوم اقتصادی (نظری) ، مدیریت دولتی ، مدیریت بازرگانی ، مدیریت صنعتی ، مدیریت جهانگردی ۱۲۲۱۰۳۲

۱۳- وقتی شرایط $I + G > S + T$ در اقتصاد حاکم باشد ، کدام یک از گزینه های زیر درست است ؟

۱. اقتصاد در وضعیت تعادل بسر می برد.
۲. جریان هرز بزرگتر از جریان تزریق است .
۳. تولید بالفعل کمتر از تولید تعادلی است .
۴. تولید بالفعل بیشتر از تولید تعادلی است .

۱۴- اثر کلی تغییر مالیات بر تولید ، برابر کدام یک از گزینه های زیر است ؟

۱. $\frac{MPC}{1-MPC}$
۲. $\frac{-MPC}{1-MPS}$
۳. $\frac{-MPC}{1-MPC}$
۴. $\frac{MPC}{1-MPS}$

۱۵- اگر نظام مالیات بر درآمد تصاعدی باشد ، ضریب افزایش مخارج مستقل چگونه تغییر می کند ؟

۱. با کاهش m و t در صورت و مخرج ضریب افزایش ، اندازه ضریب افزایش ، افزایش می یابد .
۲. با افزایش m و t در مخرج ضریب افزایش ، اندازه ضریب افزایش تغییر نمی کند .
۳. با کاهش m و t در صورت و مخرج ضریب افزایش ، اندازه ضریب افزایش ، کاهش می یابد .
۴. با افزایش m و t در مخرج ضریب افزایش ، اندازه ضریب افزایش ، کاهش می یابد .

۱۶- منحنی IS در فضای کدام یک از گزینه های زیر رسم می شود ؟

۱. نرخ بهره و سرمایه گذاری
۲. نرخ بهره و درآمد ملی
۳. درآمد ملی و سطح عمومی قیمت ها
۴. درآمد ملی و سرمایه گذاری

۱۷- برای ارائه یک تعریف جامع و کامل از پول به کدام یک از گزینه های زیر باید توجه کرد ؟

۱. با توجه به نقش سیاست های پولی .
۲. با توجه به اقتصاد پیچیده امروز .
۳. با نقشی که پول در جامعه دارد.
۴. با خدماتی که پول می تواند ارائه کند .

۱۸- اگر عرضه پول بیش از تقاضای پول باشد ، کدام یک از گزینه های زیر اتفاق می افتد ؟

۱. نرخ بهره افزایش می یابد .
۲. مازاد تقاضای پول بوجود می آید .
۳. منحنی تقاضای پول جابجا می شود .
۴. نرخ بهره کاهش می یابد .

۱۹- منحنی LM به ترکیباتی از نرخ بهره و درآمد گفته می شود که بازار کدام یک از گزینه های زیر در تعادل است ؟

۱. کالا و خدمات
۲. سرمایه و پس انداز
۳. پول و سهام
۴. پول

تعداد سوالات: تستی: ۴۰: تشریحی: ۰. زمان آزمون (دقیقه): تستی: ۹۰: تشریحی: ۰. سری سوال: ۱ یک

عنوان درس: اصول علم اقتصاد ۲، اصول علم اقتصاد ۳ (کلان - جهانگردی)، اقتصاد کلان، اقتصاد کلان

رشته تحصیلی/گد فرس: مدیریت امور بانکی ۱۲۱۸۷۱۲ - مدیریت امور گمرکی ۱۲۱۸۷۹۶ - مدیریت جهانگردی ۱۲۲۱۰۰۳ - مدیریت دولتی ۱۲۲۱۰۰۶ - مدیریت صنعتی ۱۲۲۱۰۱۲ - حسابداری ۱۲۲۱۰۱۹ - مدیریت بازرگانی ۱۲۲۱۰۲۷ - حسابداری ، علوم اقتصادی (نظری) ، مدیریت دولتی ، مدیریت بازرگانی ، مدیریت صنعتی ، مدیریت جهانگردی ۱۲۲۱۰۳۲

۲۰- کدام یک از گزینه های زیر جزء دارایی بانک ها است ؟

۱. ماشین آلات و موجودی انبار
۲. وام های دریافتی از دیگران
۳. وام های پرداختی به دیگران
۴. دارایی های متعلق به صاحبان سهام

۲۱- کدام یک از گزینه های زیر میزان تغییر در سپرده بانک ها را تعیین می کند ؟

۱. تغییر در ذخایر بانک و نسبت ذخیره مازاد
۲. نسبت ذخیره مازاد و حجم سپرده ها
۳. تغییر در ذخایر بانک و نسبت ذخیره قانونی
۴. حجم سپرده ها و تغییر در ذخایر بانک

۲۲- کدام یک از گزینه های زیر ، وظیفه وام دهنده نهایی در یک کشور را دارد ؟

۱. دولت
۲. بانک های تجاری
۳. بانک مرکزی
۴. سهام داران و صاحبان سرمایه

۲۳- اصولاً "پایه پولی" هر کشوری برابر کدام یک از گزینه های زیر است ؟

۱. اسکناس و مسکوک نگاهداری شده بوسیله مردم به علاوه ذخایر بانک ها
۲. اسکناس و مسکوک نگاهداری شده بوسیله مردم به علاوه سپرده بانک ها
۳. ذخایر بانک ها به علاوه سپرده بانک ها
۴. سپرده بانک ها به علاوه ذخایر قانونی بانک ها

۲۴- بانک مرکزی ایران در چه سالی تاسیس شده است ؟

۱. سال ۱۲۶۶
۲. سال ۱۳۰۵
۳. سال ۱۳۱۴
۴. سال ۱۳۳۹

۲۵- کدام یک از گزینه های زیر ، جزء بانک های تخصصی بشمار می رود ؟

۱. بانک تجارت
۲. بانک رفاه کارگران
۳. بانک صادرات ایران
۴. بانک صنعت و معدن

۲۶- کدام یک از گزینه های زیر باعث تغییر مکان منحنی تقاضای کل به سمت راست و بالا می شود ؟

۱. کاهش در سرمایه گذاری
۲. کاهش در سطح عمومی قیمت ها
۳. افزایش در مالیات مستقل
۴. افزایش در مخارج دولت

تعداد سوالات: تستی: ۴۰: تشریحی: ۰. زمان آزمون (دقیقه): تستی: ۹۰: تشریحی: ۰. سری سوال: ۱ یک

عنوان درس: اصول علم اقتصاد ۲، اصول علم اقتصاد ۳ (کلان - جهانگردی)، اقتصاد کلان، اقتصاد کلان

رشته تحصیلی/گد فرس: مدیریت امور بانکی ۱۲۱۸۷۱۲ - مدیریت امور گمرکی ۱۲۱۸۷۹۶ - مدیریت جهانگردی ۱۲۲۱۰۰۳ - مدیریت دولتی ۱۲۲۱۰۰۶ - مدیریت صنعتی ۱۲۲۱۰۱۲ - حسابداری ۱۲۲۱۰۱۹ - مدیریت بازرگانی ۱۲۲۱۰۲۷ - حسابداری ، علوم اقتصادی (نظری) ، مدیریت دولتی ، مدیریت بازرگانی ، مدیریت صنعتی ، مدیریت جهانگردی ۱۲۲۱۰۳۲

۲۷- سیاست پولی و مالی انقباضی چه تاثیری بر منحنی تقاضای کل دارند ؟

۱. هردو سیاست ، منحنی تقاضای کل را به راست تغییر مکان می دهند .
۲. هردو سیاست ، منحنی تقاضای کل را به چپ تغییر مکان می دهند .
۳. تنها سیاست مالی انقباضی ، منحنی تقاضای کل را به چپ تغییر مکان می دهند .
۴. تنها سیاست پولی انقباضی ، منحنی تقاضای کل را به چپ تغییر مکان می دهند .

۲۸- کدام یک از گزینه های زیر ، بیانگر مثبت بودن شیب منحنی عرضه کل اقتصاد است ؟

۱. با افزایش سطح تولید بنگاهها هزینه هر واحد تولید اضافی افزایش می یابد .
۲. با افزایش سطح تولید بنگاهها هزینه هر واحد تولید اضافی کاهش می یابد .
۳. کارایی یک واحد اضافی کارگر با موجودی ثابت سرمایه ، کاهش می یابد .
۴. با استخدام کارگر بیشتر، تقاضا در بازار کار افزایش یافته و باعث کاهش مزد می گردد.

۲۹- براساس الگوی کلاسیک ها کدام یک از گزینه های زیر درست است ؟

۱. تقاضا و عرضه کل تولید کل را مشخص می کنند .
۲. عرضه کل تنها سطح عمومی قیمت ها را مشخص می کند .
۳. تقاضای کل هیچ نقشی در تعیین تولید کل ندارد .
۴. عرضه کل هیچ نقشی در تعیین تولید کل ندارد .

۳۰- در یک جامعه " هزینه اقتصادی بیکاری " برابر کدام یک از گزینه های زیر است ؟

۱. اتلاف نیروی انسانی که در صورت اشتغال می توانست کالا و یا خدمات تولید کند .
۲. افزایش جرایم و بزهکاری که در صورت اشتغال بوجود نمی آمد .
۳. اعتیاد و ترک خانواده که در صورت اشتغال بوجود نمی آمد .
۴. اتلاف سرمایه و زمان که منجر به فقر و مشکلات مربوطه می شود .

۳۱- اگر منحنی عرضه کل به دلیل افزایش نرخ مزد به سمت چپ و بالا منتقل شود و از طرفی دولت خواهان حفظ تورم در سطح قبلی باشد ، باید کدام یک از گزینه های زیر را انتخاب کند ؟

۱. سیاست مالی انقباضی
۲. سیاست مالی انبساطی
۳. سیاست مالی و پولی مناسب
۴. سیاست مالی و پولی انبساطی

تعداد سوالات: تستی: ۴۰؛ تشریحی: ۰. زمان آزمون (دقیقه): تستی: ۹۰؛ تشریحی: ۰. سری سوال: ۱ یک

عنوان درس: اصول علم اقتصاد ۲، اصول علم اقتصاد ۳ (کلان - جهانگردی)، اقتصاد کلان، اقتصاد کلان

رشته تحصیلی/گد فرس: مدیریت امور بانکی ۱۲۱۸۷۱۲ - مدیریت امور گمرکی ۱۲۱۸۷۹۶ - مدیریت جهانگردی ۱۲۲۱۰۰۳ - مدیریت دولتی ۱۲۲۱۰۰۶ - مدیریت صنعتی ۱۲۲۱۰۱۲ - حسابداری ۱۲۲۱۰۱۹ - مدیریت بازرگانی ۱۲۲۱۰۲۷ - حسابداری ، علوم اقتصادی (نظری) ، مدیریت دولتی ، مدیریت بازرگانی ، مدیریت صنعتی ، مدیریت جهانگردی ۱۲۲۱۰۳۲

۳۲- کدام یک از گزینه های زیر بیانگر این مطلب است که منحنی فیلیپس محور عمودی را قطع نمی کند ؟

۱. نرخ تورم منفی امکان پذیر نیست .
۲. یک نرخ بیکاری داریم که در آن نرخ تورم صفر است .
۳. نرخ تورم صفر امکان پذیر نیست .
۴. نرخ بیکاری صفر امکان پذیر نیست .

۳۳- کدام یک از گزینه های زیر ، باعث قدرت گرفتن نظریات فریدمن و طرفداران وی شد ؟

۱. عملکرد خوب اقتصاد های صنعتی و اقتصاد آمریکا
۲. عملکرد نا مناسب اقتصاد های صنعتی و اقتصاد آمریکا
۳. عملکرد نا مناسب اقتصاد کشورهای در حال توسعه
۴. عملکرد خوب اقتصاد کشورهای در حال توسعه

۳۴- به عقیده پولگرایان تولید تعادلی ، بوسیله کدام یک از گزینه های زیر تعیین می شود ؟

۱. تنها توسط منحنی عرضه کل
۲. تنها توسط منحنی تقاضای کل
۳. عرضه و تقاضا هر دو در کوتاه مدت
۴. بوسیله حجم پول در گردش

۳۵- در الگوی پولگرایان نرخهای طبیعی تولید ، اشتغال و بیکاری ، بوسیله کدام یک از گزینه های زیر تعیین می گردد ؟

۱. عوامل حقیقی موثر بر عرضه
۲. عوامل حقیقی موثر بر تقاضا
۳. عوامل پولی موثر بر عرضه
۴. عوامل پولی موثر بر تقاضا

۳۶- به نظر پولگرایان سیاست مالی در اقتصاد برابر کدام یک از گزینه های زیر است ؟

۱. موثر و کارآ است .
۲. تنها در بلند مدت کارآ است .
۳. همواره فاقد کارایی است .
۴. در مواقع اضطراری موثر است .

۳۷- به عقیده اقتصاددانان کلاسیک های جدید ، سیاست های سیستماتیک برابر کدام گزینه زیر است ؟

۱. باعث تغییرات قابل پیش بینی در تقاضای کل نمی گردند .
۲. اثری بر متغیرهای حقیقی دارند .
۳. فقط بر سطح عمومی قیمت ها اثر دارند .
۴. باعث تغییرات قابل پیش بینی در تقاضای کل می گردند .

تعداد سوالات: تستی: ۴۰: تشریحی: ۰. زمان آزمون (دقیقه): تستی: ۹۰: تشریحی: ۰. سری سوال: ۱ یک

عنوان درس: اصول علم اقتصاد ۲، اصول علم اقتصاد ۳ (کلان - جهانگردی)، اقتصاد کلان، اقتصاد کلان

رشته تحصیلی/گد درسی: مدیریت امور بانکی ۱۲۱۸۷۱۲ - مدیریت امور گمرکی ۱۲۱۸۷۹۶ - مدیریت جهانگردی ۱۲۲۱۰۰۳ - مدیریت دولتی ۱۲۲۱۰۰۶ - مدیریت صنعتی ۱۲۲۱۰۱۲ - حسابداری ۱۲۲۱۰۱۹ - مدیریت بازرگانی ۱۲۲۱۰۲۷ - حسابداری ، علوم اقتصادی (نظری) ، مدیریت دولتی ، مدیریت بازرگانی ، مدیریت صنعتی ، مدیریت جهانگردی ۱۲۲۱۰۳۲

۳۸- کدام یک از گزینه های زیر ، از نظر کلاسیک های جدید در خصوص بازار کار درست است ؟

۱. قراردادهای کار می توانند توان اقتصاد بخش خصوصی برای مقابله با اختلالات را کاهش دهند .
۲. قراردادهای کار نمی توانند توان اقتصاد بخش خصوصی برای مقابله با اختلالات را افزایش دهند .
۳. مزد پولی کمتر از آنچه که پیروان کینز و پولگرایان عقیده دارند ، انعطاف پذیر می باشد .
۴. مزد پولی بیش از آنچه که پیروان کینز و پولگرایان عقیده دارند ، انعطاف پذیر می باشد .

۳۹- بر اساس الگوی پولگرایان ، چرا نرخ انتخاب شده بوسیله مقامات پولی ، تولید و اشتغال را تحت تاثیر قرار نمی دهد ؟

۱. چون تقریباً غیر قابل پیش بینی است .
۲. چون بطور کامل قابل پیش بینی است .
۳. چون تقریباً غیر قابل پیش بینی است .
۴. چون تا حدودی قابل پیش بینی است .

۴۰- سیاست کلی که به صورت مداخله گر و سیاست به انتخاب سیاست گذار ونه بر اساس قواعد مربوط به کدام یک از گزینه های زیر است ؟

۱. کلاسیک ها
۲. کلاسیک های جدید
۳. پولگرایان
۴. پیروان کینز

97-1

رقم السؤال	الاجابة	الاجابة الصحيحة	وضعية الكلية
١	X	ب	عادي
٢		X	عادي
٣	X	د	عادي
٤		X	عادي
٥		X	عادي
٦	X	د	عادي
٧	X	ب	عادي
٨	X	د	عادي
٩		X	عادي
١٠		X	عادي
١١		X	عادي
١٢		X	عادي
١٣		X	عادي
١٤		X	عادي
١٥		X	عادي
١٦		X	عادي
١٧	X	د	عادي
١٨	X	د	عادي
١٩	X	د	عادي
٢٠		X	عادي
٢١		X	عادي
٢٢		X	عادي
٢٣		X	عادي
٢٤		X	عادي
٢٥		X	عادي
٢٦		X	عادي
٢٧	X	ب	عادي
٢٨		X	عادي
٢٩	X	الف، ب، ج، د	عادي
٣٠		X	عادي
٣١		X	عادي
٣٢		X	عادي
٣٣	X	ب	عادي
٣٤		X	عادي
٣٥	X	الف، ب، ج، د	عادي
٣٦		X	عادي
٣٧	X	د	عادي
٣٨	X	د	عادي
٣٩	X	الف، ب، ج، د	عادي
٤٠		X	عادي

سری سوال: یک

زمان آزمون (دقیقه): تستی: ۹۰ تشریحی: ۰

تعداد سوالات: تستی: ۴۰ تشریحی: ۰

عنوان درس: اصول علم اقتصاد ۲، اصول علم اقتصاد ۲ (کلان - جهانگردی)، اقتصاد کلان، اقتصاد کلان
رشته تحصیلی/گد درس: مدیریت امور بانکی ۱۳۱۸۷۱۲ - مدیریت امور گمرکی ۱۳۱۸۷۹۶ - جهانگردی، مدیریت جهانگردی ۱۳۲۱۰۰۳ - مدیریت دولتی
مدیریت صنعتی ۱۳۲۱۰۱۲ - حسابداری ۱۳۲۱۰۱۹ - مدیریت بازرگانی ۱۳۲۱۰۲۷ - حسابداری، علوم اقتصادی (نظری)، - ۱۳۲۱۰۰۶
مدیریت دولتی، مدیریت بازرگانی، مدیریت صنعتی، مدیریت جهانگردی ۱۳۲۱۰۳۲).

۱- چه کسی از استدلال کلان اقتصادی برای پیش بینی سقوط نهایی سرمایه داری استفاده کرد؟

۱. جان هابسون ۲. کارل مارکس ۳. آدام اسمیت ۴. کینز

۲- اگر تابع مصرف به صورت $C = 100 + 0.8Y$ باشد، تابع پس انداز کدام است؟

۱. $S = 100 + 0.2Y$ ۲. $S = -100 + 0.8Y$
۳. $S = -100 + 0.2Y$ ۴. $S = 100 + 0.8Y$

۳- بزرگترین جزء تولید ناخالص ملی کدام است؟

۱. صادرات ۲. واردات ۳. سرمایه گذاری ۴. مصرف

۴- کدام یک، جزء روشهای محاسبه درآمد ملی (تولید ملی) می باشد؟

۱. روش مخارج ۲. روش سرمایه گذاری ۳. روش بهینه یابی ۴. روش هزینه- فایده

۵- کدام یک در محاسبه تولید ناخالص ملی به حساب می آید؟

۱. خرید و فروش کالاهای دست دوم ۲. خرید و فروش ارز
۳. خدمات زنان خانه دار ۴. سرمایه گذاری بنگاهها

۶- با توجه به نظریه مقداری پول کلاسیک، اگر سطح عمومی قیمتها (P) برابر با ۲، تولید حقیقی (Y) برابر با ۵۰۰ و مقدار پول در اقتصاد (M) برابر ۲۵۰ باشد، سرعت گردش پول (V) چقدر است؟

۱. ۲ ۲. ۴ ۳. ۵ ۴. ۱

۷- ضریب افزایش بودجه متعادل (متوازن) چقدر است؟

۱. کوچکتر از یک ۲. برابر با صفر ۳. برابر با یک ۴. بزرگتر از یک

۸- در نظریه کلاسیکها، عامل اصلی تعیین کننده تولید کل کدام است؟

۱. عرضه ۲. تقاضا ۳. سطح عمومی قیمتها ۴. دولت

۹- اگر تولید ناخالص اسمی برابر با ۱۵۰۰ و تولید ناخالص ملی حقیقی برابر با ۱۰۰۰ واحد باشد، تورم زدائی تولید ناخالص ملی چقدر است؟

۱. ۱۵ ۲. ۲۵۰۰ ۳. ۰.۶۶ ۴. ۵۰۰

تعداد سوالات: تستی: ۴۰؛ تشریحی: ۰. زمان آزمون (دقیقه): تستی: ۹۰؛ تشریحی: ۰. سری سوال: ۱ یک

عنوان درس: اصول علم اقتصاد ۲، اصول علم اقتصاد ۲ (کلان - جهانگردی)، اقتصاد کلان، اقتصاد کلان
رشته تحصیلی/گد درس: مدیریت امور بانکی ۱۳۱۸۷۱۲ - مدیریت امور گمرکی ۱۳۱۸۷۹۶ - جهانگردی، مدیریت جهانگردی ۱۳۲۱۰۰۳ - مدیریت دولتی ۱۳۲۱۰۰۶ - مدیریت صنعتی ۱۳۲۱۰۱۲ - حسابداری ۱۳۲۱۰۱۹ - مدیریت بازرگانی ۱۳۲۱۰۲۷ - حسابداری، علوم اقتصادی (نظری)، مدیریت دولتی، مدیریت بازرگانی، مدیریت صنعتی، مدیریت جهانگردی ۱۳۲۱۰۳۲

۱۰- منحنی عرضه کل از دیدگاه کلاسیکها:

۱. صعودی است. ۲. نزولی است. ۳. عمودی است. ۴. افقی است.

۱۱- در بازار کالاها و خدمات، بنگاه ها و خانوارها به ترتیب چه نقشی دارند؟

۱. عرضه کننده - تقاضا کننده ۲. تقاضا کننده - عرضه کننده
۳. خریدار - خریدار ۴. مصرف کننده - تولید کننده

۱۲- فرض کنید تابع مصرف و سرمایه گذاری به صورت $y = 200 + 1/8y$ و $C = 200$ باشد، تولید تعادلی چقدر است؟

۱. ۲۰۰ ۲. ۱۰۰۰ ۳. ۴۰۰ ۴. ۲۰۰۰

۱۳- نظریه تقاضای کل کلاسیکها چه نامیده می شود؟

۱. نظریه مقداری پول ۲. نظریه اشتغال کامل ۳. نظریه اشتغال ناقص ۴. تئوری بهره

۱۴- سیاست پولی انبساطی، منجر به چه تغییری بر روی منحنی تقاضای کل می گردد؟

۱. افزایش تقاضای کل و انتقال منحنی آن به سمت راست ۲. کاهش تقاضای کل و انتقال منحنی آن به سمت چپ
۳. افزایش تقاضای کل و انتقال منحنی آن به سمت چپ ۴. کاهش تقاضای کل و انتقال منحنی آن به سمت راست

۱۵- در یک الگوی دو بخشی، اگر میل نهایی به مصرف برابر با ۰.۷۵ باشد، ضریب افزایش سرمایه گذاری چقدر است؟

۱. ۵ ۲. ۴ ۳. ۳ ۴. ۱

۱۶- کسری بودجه ساختاری چیست؟

۱. آن بخش از کسری بودجه است که حتی اگر اقتصاد در سطح تولید بالقوه نیز فعالیت کند وجود خواهد داشت.
۲. آن بخش از کسری بودجه است که ناشی از پایین تر بودن تولید واقعی از تولید بالقوه می باشد.
۳. آن بخش از کسری بودجه است که اقتصاد در سطح تولید واقعی است.
۴. آن بخش از کسری بودجه است که اقتصاد در سطح تولید بالقوه است.

۱۷- منحنی LM مکان هندسی ترکیباتی از نرخ بهره و درآمد است که کدام بازار در تعادل است؟

۱. پول ۲. ارز ۳. کالا ۴. خدمات

سری سوال: ۱ یک

زمان آزمون (دقیقه): تستی: ۹۰ تشریحی: ۰

تعداد سوالات: تستی: ۴۰ تشریحی: ۰

عنوان درس: اصول علم اقتصاد ۲، اصول علم اقتصاد ۲ (کلان - جهانگردی)، اقتصاد کلان، اقتصاد کلان
رشته تحصیلی/گد درس: مدیریت امور بانکی ۱۳۱۸۷۱۲ - مدیریت امور گمرکی ۱۳۱۸۷۹۶ - جهانگردی، مدیریت جهانگردی ۱۳۲۱۰۰۳ - مدیریت دولتی ۱۳۲۱۰۰۶ - مدیریت صنعتی ۱۳۲۱۰۱۲ - حسابداری ۱۳۲۱۰۱۹ - مدیریت بازرگانی ۱۳۲۱۰۲۷ - حسابداری، علوم اقتصادی (نظری)، مدیریت دولتی، مدیریت بازرگانی، مدیریت صنعتی، مدیریت جهانگردی ۱۳۲۱۰۳۲

۱۸- کدام گزینه باعث انتقال منحنی LM به سمت راست می گردد؟

۱. افزایش سطح قیمتها و کاهش عرضه پول
۲. کاهش سطح قیمتها و افزایش عرضه پول
۳. افزایش سطح قیمتها و افزایش عرضه پول
۴. کاهش سطح قیمتها و کاهش عرضه پول

۱۹- کدام عامل باعث انتقال منحنی IS به سمت راست می شود؟

۱. افزایش مالیاتها
۲. افزایش حجم پول
۳. افزایش مخارج دولت
۴. افزایش نرخ بهره

۲۰- هدف از سیاست مالی که به منظور اثرگذاری بر مخارج مصرفی بخش خصوصی صورت می گیرد، چه نام دارد؟

۱. تخصیص
۲. تثبیت
۳. توزیع
۴. تعدیل

۲۱- با توجه به تابع مصرف به صورت $C = 200 + 0.8y$ ، اگر دولت مخارج خود را ۲۰۰ واحد افزایش داده و مالیات ها را هم به

همین اندازه افزایش دهد، تولید ملی تعادلی چه تغییری می کند؟

۱. تغییر نمی کند.
۲. ۲۰۰ واحد افزایش می یابد.
۳. ۱۰۰۰ واحد افزایش می یابد.
۴. ۸۰۰ واحد کاهش می یابد.

۲۲- کدام عامل، باعث تغییر مکان منحنی عرضه کل می گردد؟

۱. تغییر نرخ ذخیره قانونی
۲. تغییر سیاست های مالی
۳. تغییر سیاستهای پولی
۴. تغییر انتظارات تورمی

۲۳- کدام گزینه جزء ابزارهای سیاست پولی است؟

۱. عملیات بازار باز - نرخ تنزیل مجدد
۲. نرخ تنزیل مجدد - تغییر در مالیات
۳. تغییر در مالیات - عملیات بازار باز
۴. نسبت ذخیره قانونی - تغییر در مالیات

۲۴- کدام یک از عوامل زیر، باعث جابجایی منحنی فیلیپس به سمت راست و بالا می شود؟

۱. کاهش تقاضای کل اقتصاد
۲. کاهش در انتظارات تورمی کارگران
۳. شوکهای عرضه مطلوب
۴. شوکهای عرضه نامطلوب

۲۵- کدام گزینه، جزء هزینه های تورم می باشد؟

۱. فشار اجتماعی
۲. توزیع برابر درآمد
۳. کارایی اقتصادی
۴. کاهش ضریب جینی

تعداد سوالات: تستی: ۴۰ تشریحی: ۰ زمان آزمون (دقیقه): تستی: ۹۰ تشریحی: ۰ سری سوال: ۱ یک

عنوان درس: اصول علم اقتصاد ۲، اصول علم اقتصاد ۲ (کلان - جهانگردی)، اقتصاد کلان، اقتصاد کلان
رشته تحصیلی/گد درس: مدیریت امور بانکی ۱۳۱۸۷۱۲ - مدیریت امور گمرکی ۱۳۱۸۷۹۶ - جهانگردی، مدیریت جهانگردی ۱۳۲۱۰۰۳ - مدیریت دولتی ۱۳۲۱۰۰۶ - مدیریت صنعتی ۱۳۲۱۰۱۲ - حسابداری ۱۳۲۱۰۱۹ - مدیریت بازرگانی ۱۳۲۱۰۲۷ - حسابداری، علوم اقتصادی (نظری)، مدیریت دولتی، مدیریت بازرگانی، مدیریت صنعتی، مدیریت جهانگردی ۱۳۲۱۰۳۲

۲۶- کینز معتقد بود که در بازار کار، مزد پولی چه ویژگی دارد؟

۱. کاملا انعطاف پذیر نیست.
۲. کاملا انعطاف پذیر است.
۳. با تورم برابر است.
۴. بیش از تورم است.

۲۷- در چه صورت منحنی عرضه کل به سمت راست منتقل می شود؟

۱. کاهش قیمت مواد خام
۲. کاهش مخارج دولت
۳. افزایش سرمایه گذاری
۴. افزایش انتظارات تورمی

۲۸- افزایش سرعت کارایی و افزایش کارایی بازار کار از نظر در دسترس بودن اطلاعات در مورد مشاغل موجود، چه نوع بیکاری را کاهش می دهد؟

۱. پنهان
۲. اصطکاکی
۳. ساختاری
۴. ادواری

۲۹- منحنی IS بیانگر رابطه بین کدام دو متغیر می باشد؟

۱. پس انداز و سرمایه گذاری
۲. سرمایه گذاری و نرخ بهره
۳. درآمد ملی و نرخ بهره
۴. تقاضای کل و سطح عمومی قیمتها

۳۰- کدام یک از گزینه های زیر از وظایف بانک مرکزی است؟

۱. دادن وام به مردم - بانکداری دولت
۲. اجرای سیاست پولی - انتشار اسکناس و مسکوک
۳. اجرای سیاست پولی - دادن وام به مردم
۴. انتشار اسکناس و مسکوک - دادن وام به مردم

۳۱- نوعی از بیکاری که به علت عدم سازگاری مهارتها و محل جغرافیایی زندگی کارگران ایجاد می شود، چه نام دارد؟

۱. بیکاری اصطکاکی
۲. بیکاری ادواری
۳. بیکاری ساختاری
۴. بیکاری فصلی

۳۲- با کاهش مالیات، به ترتیب درآمد قابل تصرف و مخارج مصرفی خانوار چه تغییری می کند؟

۱. کاهش - کاهش
۲. افزایش - کاهش
۳. کاهش - افزایش
۴. افزایش - افزایش

۳۳- اگر $GNP = 550$ بوده و مقدار واردات (M) برابر ۵۰ و مقدار صادرات (X) برابر ۸۰ و مقدار مخارج دولتی (G) برابر ۱۲۰ و مقدار سرمایه گذاری (I) برابر ۱۰۰ واحد باشد، مقدار مصرف بخش خصوصی (C) چقدر است؟

۱. ۳۰۰
۲. ۱۵۰
۳. ۲۵۰
۴. ۳۵۰

سری سوال: ۱ یک

زمان آزمون (دقیقه): تستی: ۹۰ تشریحی: ۰

تعداد سوالات: تستی: ۴۰ تشریحی: ۰

عنوان درس: اصول علم اقتصاد ۲، اصول علم اقتصاد ۲ (کلان - جهانگردی)، اقتصاد کلان، اقتصاد کلان رشته تحصیلی/گد درس: مدیریت امور بانکی ۱۳۱۸۷۱۲ - مدیریت امور گمرکی ۱۳۱۸۷۹۶ - جهانگردی، مدیریت جهانگردی ۱۳۲۱۰۰۳ - مدیریت دولتی ۱۳۲۱۰۰۶ - مدیریت صنعتی ۱۳۲۱۰۱۲ - حسابداری ۱۳۲۱۰۱۹ - مدیریت بازرگانی ۱۳۲۱۰۲۷ - حسابداری، علوم اقتصادی (نظری)، مدیریت دولتی، مدیریت بازرگانی، مدیریت صنعتی، مدیریت جهانگردی ۱۳۲۱۰۳۲

۳۴- اگر $C = 75 + 0.9Y$ و $I = 85$ باشد، در سطح تولید ملی ۲۰۰۰، چه وضعیتی داریم و تغییر ناخواسته در موجودی انبار چقدر است؟

۱. مازاد عرضه - ۴۰ واحد افزایش ناخواسته در موجودی انبار
۲. مازاد تقاضا - ۵۰ واحد کاهش ناخواسته در موجودی انبار
۳. مازاد عرضه - ۱۰۰ واحد افزایش ناخواسته در موجودی انبار
۴. تعادل - افزایش یا کاهش ناخواسته در موجودی انبار برابر صفر

۳۵- اگر تابع مصرف به صورت $C = 75 + 0.9Y$ و مقدار سرمایه گذاری به میزان $I = 85$ باشد، چنانچه مقدار سرمایه گذاری ۹ واحد افزایش یابد، تولید ملی چقدر تغییر می کند؟

۱. ۸۱ واحد کاهش
۲. ۹۰ واحد افزایش
۳. ۱۷۵ واحد کاهش
۴. ۸۱ واحد افزایش

۳۶- تولید ناخالص ملی از نظر اندازه با تولید ناخالص داخلی چه رابطه ای دارد؟

۱. بزرگتر
۲. کوچکتر
۳. برابر
۴. نامعلوم

۳۷- از دیدگاه کدام مکتب، اقتصاد در اشتغال کامل است؟

۱. فیزیوکراتها
۲. کلاسیکها
۳. کینزینها
۴. نیوکینزینها

۳۸- اگر نرخ ذخیره قانونی برابر ۱۰ درصد باشد، چنانچه ذخایر بانکی به میزان ۳۰۰ واحد پولی افزایش یابد، مقدار افزایش سپرده ها چقدر خواهد بود؟

۱. ۱۰ واحد پولی
۲. ۳۰ واحد پولی
۳. ۳۳۳ واحد پولی
۴. ۳۰۰۰ واحد پولی

۳۹- در بازار نیروی کار، شیب منحنی عرضه کار از نظر کلاسیک ها چگونه است؟

۱. عمودی و بی نهایت
۲. افقی و صفر
۳. نزولی و منفی
۴. صعودی و مثبت

۴۰- متغیرهای درآمد و سرمایه به ترتیب در زمره کدام یک از متغیرهای اقتصاد کلان قرار دارند؟

۱. جاری - جاری
۲. ثابت - ثابت
۳. جاری - ثابت
۴. ثابت - جاری

اقتصادىكلان نيمسال دوم سال تحصيلى 96-97

رقم سؤال	الف	ب	ج	د	پاسخ صحيح	وضيعة كليل
1					ب	عادي
2					ج	عادي
3					د	عادي
4					الف	عادي
5					د	عادي
6					ب	عادي
7					ج	عادي
8					الف	عادي
9					الف	عادي
10					ج	عادي
11					الف	عادي
12					د	عادي
13					الف	عادي
14					الف	عادي
15					ب	عادي
16					الف	عادي
17					الف	عادي
18					ب	عادي
19					ج	عادي
20					الف	عادي
21					ب	عادي
22					د	عادي
23					الف	عادي
24					د	عادي
25					الف	عادي
26					الف	عادي
27					الف	عادي
28					ب	عادي
29					ج	عادي
30					ب	عادي
31					ج	عادي
32					د	عادي
33					الف	عادي
34					الف	عادي
35					ب	عادي
36					د	عادي
37					ب	عادي
38					د	عادي
39					د	عادي
40					ج	عادي

تعداد سوالات: تستی: ۴۰: تشریحی: ۰
زمان آزمون (دقیقه): تستی: ۹۰: تشریحی: ۰
سری سوال: یک ۱

عنوان درس: اصول علم اقتصاد ۲، اصول علم اقتصاد ۳ (کلان - جهانگردی)، اقتصاد کلان، اقتصاد کلان
رشته تحصیلی/گد فرس: مدیریت امور بانکی ۱۳۱۸۷۱۲ - مدیریت امور گمرکی ۱۳۱۸۷۹۶ - جهانگردی، مدیریت جهانگردی ۱۳۲۱۰۰۳ - مدیریت دولتی
مدیریت صنعتی ۱۳۲۱۰۱۲ - حسابداری ۱۳۲۱۰۱۹ - مدیریت بازرگانی ۱۳۲۱۰۲۷ - حسابداری، علوم اقتصادی (نظری)، - ۱۳۲۱۰۰۶
مدیریت دولتی، مدیریت بازرگانی، مدیریت صنعتی، مدیریت جهانگردی ۱۳۲۱۰۳۲).

۱- چه کسی از استدلال کلان اقتصادی برای پیش بینی سقوط نهایی سرمایه داری استفاده کرد؟

۱. جان هابسون ۲. کارل مارکس ۳. آدام اسمیت ۴. کینز

۲- اگر تابع مصرف به صورت $C = 100 + 0.8Y$ باشد، تابع پس انداز کدام است؟

۱. $S = 100 + 0.2Y$ ۲. $S = -100 + 0.8Y$
۳. $S = -100 + 0.2Y$ ۴. $S = 100 + 0.8Y$

۳- بزرگترین جزء تولید ناخالص ملی کدام است؟

۱. صادرات ۲. واردات ۳. سرمایه گذاری ۴. مصرف

۴- کدام یک، جزء روشهای محاسبه درآمد ملی (تولید ملی) می باشد؟

۱. روش مخارج ۲. روش سرمایه گذاری ۳. روش بهینه یابی ۴. روش هزینه- فایده

۵- کدام یک در محاسبه تولید ناخالص ملی به حساب می آید؟

۱. خرید و فروش کالاهای دست دوم ۲. خرید و فروش ارز
۳. خدمات زنان خانه دار ۴. سرمایه گذاری بنگاهها

۶- با توجه به نظریه مقداری پول کلاسیک، اگر سطح عمومی قیمتها (P) برابر با ۲، تولید حقیقی (Y) برابر با ۵۰۰ و مقدار پول در اقتصاد (M) برابر ۲۵۰ باشد، سرعت گردش پول (V) چقدر است؟

۱. ۲ ۲. ۴ ۳. ۵ ۴. ۱

۷- ضریب افزایش بودجه متعادل (متوازن) چقدر است؟

۱. کوچکتر از یک ۲. برابر با صفر ۳. برابر با یک ۴. بزرگتر از یک

۸- در نظریه کلاسیکها، عامل اصلی تعیین کننده تولید کل کدام است؟

۱. عرضه ۲. تقاضا ۳. سطح عمومی قیمتها ۴. دولت

۹- اگر تولید ناخالص اسمی برابر با ۱۵۰۰ و تولید ناخالص ملی حقیقی برابر با ۱۰۰۰ واحد باشد، تورم زدائی تولید ناخالص ملی چقدر است؟

۱. ۱۵ ۲. ۲۵۰۰ ۳. ۰.۶۶ ۴. ۵۰۰

تعداد سوالات: تستی: ۴۰؛ تشریحی: ۰. زمان آزمون (دقیقه): تستی: ۹۰؛ تشریحی: ۰. سری سوال: ۱ یک

عنوان درس: اصول علم اقتصاد ۲، اصول علم اقتصاد ۳ (کلان - جهانگردی)، اقتصاد کلان، اقتصاد کلان
رشته تحصیلی/گد فرس: مدیریت امور بانکی ۱۳۱۸۷۱۲ - مدیریت امور گمرکی ۱۳۱۸۷۹۶ - جهانگردی، مدیریت جهانگردی ۱۳۲۱۰۰۳ - مدیریت دولتی ۱۳۲۱۰۰۶ - مدیریت صنعتی ۱۳۲۱۰۱۲ - حسابداری ۱۳۲۱۰۱۹ - مدیریت بازرگانی ۱۳۲۱۰۲۷ - حسابداری، علوم اقتصادی (نظری)، مدیریت دولتی، مدیریت بازرگانی، مدیریت صنعتی، مدیریت جهانگردی ۱۳۲۱۰۳۲

۱۰- منحنی عرضه کل از دیدگاه کلاسیکها:

۱. صعودی است. ۲. نزولی است. ۳. عمودی است. ۴. افقی است.

۱۱- در بازار کالاها و خدمات، بنگاه ها و خانوارها به ترتیب چه نقشی دارند؟

۱. عرضه کننده - تقاضا کننده ۲. تقاضا کننده - عرضه کننده
۳. خریدار - خریدار ۴. مصرف کننده - تولید کننده

۱۲- فرض کنید تابع مصرف و سرمایه گذاری به صورت $y = 1/8 + 200C$ و $I = 200$ باشد، تولید تعادلی چقدر است؟

۱. ۲۰۰ ۲. ۱۰۰۰ ۳. ۴۰۰ ۴. ۲۰۰۰

۱۳- نظریه تقاضای کل کلاسیکها چه نامیده می شود؟

۱. نظریه مقداری پول ۲. نظریه اشتغال کامل ۳. نظریه اشتغال ناقص ۴. تئوری بهره

۱۴- سیاست پولی انبساطی، منجر به چه تغییری بر روی منحنی تقاضای کل می گردد؟

۱. افزایش تقاضای کل و انتقال منحنی آن به سمت راست ۲. کاهش تقاضای کل و انتقال منحنی آن به سمت چپ
۳. افزایش تقاضای کل و انتقال منحنی آن به سمت چپ ۴. کاهش تقاضای کل و انتقال منحنی آن به سمت راست

۱۵- در یک الگوی دو بخشی، اگر میل نهایی به مصرف برابر با ۰.۷۵ باشد، ضریب افزایش سرمایه گذاری چقدر است؟

۱. ۵ ۲. ۴ ۳. ۳ ۴. ۱

۱۶- کسری بودجه ساختاری چیست؟

۱. آن بخش از کسری بودجه است که حتی اگر اقتصاد در سطح تولید بالقوه نیز فعالیت کند وجود خواهد داشت.
۲. آن بخش از کسری بودجه است که ناشی از پایین تر بودن تولید واقعی از تولید بالقوه می باشد.
۳. آن بخش از کسری بودجه است که اقتصاد در سطح تولید واقعی است.
۴. آن بخش از کسری بودجه است که اقتصاد در سطح تولید بالقوه است.

۱۷- منحنی LM مکان هندسی ترکیباتی از نرخ بهره و درآمد است که کدام بازار در تعادل است؟

۱. پول ۲. ارز ۳. کالا ۴. خدمات

سری سوال: ۱ یک

زمان آزمون (دقیقه): ۹۰ تشریحی: ۰

تعداد سوالات: تستی: ۴۰ تشریحی: ۰

عنوان درس: اصول علم اقتصاد ۲، اصول علم اقتصاد ۲ (کلان - جهانگردی)، اقتصاد کلان، اقتصاد کلان
رشته تحصیلی/گد فرس: مدیریت امور بانکی ۱۳۱۸۷۱۲ - مدیریت امور گمرکی ۱۳۱۸۷۹۶ - جهانگردی، مدیریت جهانگردی ۱۳۲۱۰۰۳ - مدیریت دولتی
۱۳۲۱۰۰۶ - مدیریت صنعتی ۱۳۲۱۰۱۲ - حسابداری ۱۳۲۱۰۱۹ - مدیریت بازرگانی ۱۳۲۱۰۲۷ - حسابداری، علوم اقتصادی (نظری)
(مدیریت دولتی، مدیریت بازرگانی، مدیریت صنعتی، مدیریت جهانگردی ۱۳۲۱۰۳۲)

۱۸- کدام گزینه باعث انتقال منحنی LM به سمت راست می گردد؟

۱. افزایش سطح قیمتها و کاهش عرضه پول
۲. کاهش سطح قیمتها و افزایش عرضه پول
۳. افزایش سطح قیمتها و افزایش عرضه پول
۴. کاهش سطح قیمتها و کاهش عرضه پول

۱۹- کدام عامل باعث انتقال منحنی IS به سمت راست می شود؟

۱. افزایش مالیاتها
۲. افزایش حجم پول
۳. افزایش مخارج دولت
۴. افزایش نرخ بهره

۲۰- هدف از سیاست مالی که به منظور اثرگذاری بر مخارج مصرفی بخش خصوصی صورت می گیرد، چه نام دارد؟

۱. تخصیص
۲. تثبیت
۳. توزیع
۴. تعدیل

۲۱- با توجه به تابع مصرف به صورت $C = 200 + 0.8y$ ، اگر دولت مخارج خود را ۲۰۰ واحد افزایش داده و مالیات ها را هم به

همین اندازه افزایش دهد، تولید ملی تعادلی چه تغییری می کند؟

۱. تغییر نمی کند.
۲. ۲۰۰ واحد افزایش می یابد.
۳. ۱۰۰۰ واحد افزایش می یابد.
۴. ۸۰۰ واحد کاهش می یابد.

۲۲- کدام عامل، باعث تغییر مکان منحنی عرضه کل می گردد؟

۱. تغییر نرخ ذخیره قانونی
۲. تغییر سیاست های مالی
۳. تغییر سیاستهای پولی
۴. تغییر انتظارات تورمی

۲۳- کدام گزینه جزء ابزارهای سیاست پولی است؟

۱. عملیات بازار باز - نرخ تنزیل مجدد
۲. نرخ تنزیل مجدد - تغییر در مالیات
۳. تغییر در مالیات - عملیات بازار باز
۴. نسبت ذخیره قانونی - تغییر در مالیات

۲۴- کدام یک از عوامل زیر، باعث جابجایی منحنی فیلیپس به سمت راست و بالا می شود؟

۱. کاهش تقاضای کل اقتصاد
۲. کاهش در انتظارات تورمی کارگران
۳. شوکهای عرضه مطلوب
۴. شوکهای عرضه نامطلوب

۲۵- کدام گزینه، جزء هزینه های تورم می باشد؟

۱. فشار اجتماعی
۲. توزیع برابر درآمد
۳. کارایی اقتصادی
۴. کاهش ضریب جینی

تعداد سوالات: تستی: ۴۰؛ تشریحی: ۰ زمان آزمون (دقیقه): تستی: ۹۰؛ تشریحی: ۰ سری سوال: ۱ یک

عنوان درس: اصول علم اقتصاد ۲، اصول علم اقتصاد ۳ (کلان - جهانگردی)، اقتصاد کلان، اقتصاد کلان
رشته تحصیلی/گد فرس: مدیریت امور بانکی ۱۳۱۸۷۱۲ - مدیریت امور گمرکی ۱۳۱۸۷۹۶ - جهانگردی، مدیریت جهانگردی ۱۳۲۱۰۰۳ - مدیریت دولتی ۱۳۲۱۰۰۶ - مدیریت صنعتی ۱۳۲۱۰۱۲ - حسابداری ۱۳۲۱۰۱۹ - مدیریت بازرگانی ۱۳۲۱۰۲۷ - حسابداری، علوم اقتصادی (نظری)، مدیریت دولتی، مدیریت بازرگانی، مدیریت صنعتی، مدیریت جهانگردی ۱۳۲۱۰۳۲

۲۶- کینز معتقد بود که در بازار کار، مزد پولی چه ویژگی دارد؟

۱. کاملا انعطاف پذیر نیست.
۲. کاملا انعطاف پذیر است.
۳. با تورم برابر است.
۴. بیش از تورم است.

۲۷- در چه صورت منحنی عرضه کل به سمت راست منتقل می شود؟

۱. کاهش قیمت مواد خام
۲. کاهش مخارج دولت
۳. افزایش سرمایه گذاری
۴. افزایش انتظارات تورمی

۲۸- افزایش سرعت کارایی و افزایش کارایی بازار کار از نظر در دسترس بودن اطلاعات در مورد مشاغل موجود، چه نوع بیکاری را کاهش می دهد؟

۱. پنهان
۲. اصطکاکی
۳. ساختاری
۴. ادواری

۲۹- منحنی IS بیانگر رابطه بین کدام دو متغیر می باشد؟

۱. پس انداز و سرمایه گذاری
۲. سرمایه گذاری و نرخ بهره
۳. درآمد ملی و نرخ بهره
۴. تقاضای کل و سطح عمومی قیمتها

۳۰- کدام یک از گزینه های زیر از وظایف بانک مرکزی است؟

۱. دادن وام به مردم - بانکداری دولت
۲. اجرای سیاست پولی - انتشار اسکناس و مسکوک
۳. اجرای سیاست پولی - دادن وام به مردم
۴. انتشار اسکناس و مسکوک - دادن وام به مردم

۳۱- نوعی از بیکاری که به علت عدم سازگاری مهارتها و محل جغرافیایی زندگی کارگران ایجاد می شود، چه نام دارد؟

۱. بیکاری اصطکاکی
۲. بیکاری ادواری
۳. بیکاری ساختاری
۴. بیکاری فصلی

۳۲- با کاهش مالیات، به ترتیب درآمد قابل تصرف و مخارج مصرفی خانوار چه تغییری می کند؟

۱. کاهش - کاهش
۲. افزایش - کاهش
۳. کاهش - افزایش
۴. افزایش - افزایش

۳۳- اگر $GNP = 550$ بوده و مقدار واردات (M) برابر ۵۰ و مقدار صادرات (X) برابر ۸۰ و مقدار مخارج دولتی (G) برابر ۱۲۰ و مقدار سرمایه گذاری (I) برابر ۱۰۰ واحد باشد، مقدار مصرف بخش خصوصی (C) چقدر است؟

۱. ۳۰۰
۲. ۱۵۰
۳. ۲۵۰
۴. ۳۵۰

تعداد سوالات: تستی: ۴۰؛ تشریحی: ۰. زمان آزمون (دقیقه): تستی: ۹۰؛ تشریحی: ۰. سری سوال: ۱ یک

عنوان درس: اصول علم اقتصاد ۲، اصول علم اقتصاد ۳ (کلان - جهانگردی)، اقتصاد کلان، اقتصاد کلان رشته تحصیلی/گد فرس: مدیریت امور بانکی ۱۳۱۸۷۱۲ - مدیریت امور گمرکی ۱۳۱۸۷۹۶ - جهانگردی، مدیریت جهانگردی ۱۳۲۱۰۰۳ - مدیریت دولتی ۱۳۲۱۰۰۶ - مدیریت صنعتی ۱۳۲۱۰۱۲ - حسابداری ۱۳۲۱۰۱۹ - مدیریت بازرگانی ۱۳۲۱۰۲۷ - حسابداری، علوم اقتصادی (نظری)، مدیریت دولتی، مدیریت بازرگانی، مدیریت صنعتی، مدیریت جهانگردی ۱۳۲۱۰۳۲

۳۴- اگر $C = 75 + 0.9Y$ و $I = 85$ باشد، در سطح تولید ملی ۲۰۰۰، چه وضعیتی داریم و تغییر ناخواسته در موجودی انبار چقدر است؟

۱. مازاد عرضه - ۴۰ واحد افزایش ناخواسته در موجودی انبار
۲. مازاد تقاضا - ۵۰ واحد کاهش ناخواسته در موجودی انبار
۳. مازاد عرضه - ۱۰۰ واحد افزایش ناخواسته در موجودی انبار
۴. تعادل - افزایش یا کاهش ناخواسته در موجودی انبار برابر صفر

۳۵- اگر تابع مصرف به صورت $C = 75 + 0.9Y$ و مقدار سرمایه گذاری به میزان $I = 85$ باشد، چنانچه مقدار سرمایه گذاری ۹ واحد افزایش یابد، تولید ملی چقدر تغییر می کند؟

۱. ۸۱ واحد کاهش
۲. ۹۰ واحد افزایش
۳. ۱۷۵ واحد کاهش
۴. ۸۱ واحد افزایش

۳۶- تولید ناخالص ملی از نظر اندازه با تولید ناخالص داخلی چه رابطه ای دارد؟

۱. بزرگتر
۲. کوچکتر
۳. برابر
۴. نامعلوم

۳۷- از دیدگاه کدام مکتب، اقتصاد در اشتغال کامل است؟

۱. فیزیوکراتها
۲. کلاسیکها
۳. کینزینها
۴. نیوکینزینها

۳۸- اگر نرخ ذخیره قانونی برابر ۱۰ درصد باشد، چنانچه ذخایر بانکی به میزان ۳۰۰ واحد پولی افزایش یابد، مقدار افزایش سپرده ها چقدر خواهد بود؟

۱. ۱۰ واحد پولی
۲. ۳۰ واحد پولی
۳. ۳۳۳ واحد پولی
۴. ۳۰۰۰ واحد پولی

۳۹- در بازار نیروی کار، شیب منحنی عرضه کار از نظر کلاسیک ها چگونه است؟

۱. عمودی و بی نهایت
۲. افقی و صفر
۳. نزولی و منفی
۴. صعودی و مثبت

۴۰- متغیرهای درآمد و سرمایه به ترتیب در زمره کدام یک از متغیرهای اقتصاد کلان قرار دارند؟

۱. جاری- جاری
۲. ثابت - ثابت
۳. جاری- ثابت
۴. ثابت - جاری

شماره سوال	الف	ب	ج	د	پاسخ صحیح	وضعیت کلید
۱					ب	عادی
۲					ج	عادی
۳					د	عادی
۴					الف	عادی
۵					د	عادی
۶					ب	عادی
۷					ج	عادی
۸					الف	عادی
۹					الف	عادی
۱۰					ج	عادی
۱۱					الف	عادی
۱۲					د	عادی
۱۳					الف	عادی
۱۴					الف	عادی
۱۵					ب	عادی
۱۶					الف	عادی
۱۷					الف	عادی
۱۸					ب	عادی
۱۹					ج	عادی
۲۰					الف	عادی
۲۱					ب	عادی
۲۲					د	عادی
۲۳					الف	عادی
۲۴					د	عادی
۲۵					الف	عادی
۲۶					الف	عادی
۲۷					الف	عادی
۲۸					ب	عادی
۲۹					ج	عادی
۳۰					ب	عادی
۳۱					ج	عادی
۳۲					د	عادی
۳۳					الف	عادی
۳۴					الف	عادی
۳۵					ب	عادی
۳۶					د	عادی
۳۷					ب	عادی
۳۸					د	عادی
۳۹					د	عادی
۴۰					ج	عادی

97-2

تعداد سوالات: تستی: ۴۰ تشریحی: ۰ زمان آزمون (دقیقه): تستی: ۹۰ تشریحی: ۰ سری سوال: یک ۱

عنوان درس: اصول علم اقتصاد ۲، اصول علم اقتصاد ۳ (کلان - جهانگردی)، اقتصاد کلان، اقتصاد کلان
رشته تحصیلی/گد فرس: مدیریت بیمه، مدیریت امور بانکی ۱۳۱۸۷۱۲ - مدیریت امور گمرکی ۱۳۱۸۷۹۶ - جهانگردی، مدیریت جهانگردی ۱۳۳۱۰۰۳
- مدیریت دولتی ۱۳۳۱۰۰۶ - حسابداری، مدیریت صنعتی ۱۳۳۱۰۱۲ - حسابداری ۱۳۳۱۰۱۹ - مدیریت بازرگانی ۱۳۳۱۰۲۷،
حسابداری، علوم اقتصادی (نظری)، مدیریت جهانگردی، مدیریت دولتی، مدیریت صنعتی، مدیریت بازرگانی ۱۳۳۱۰۳۲.

۱- کدام یک از موارد زیر در حوزه اقتصاد کلان نیست؟

- ۰۱ تورم ۰۲ بیکاری ۰۳ شاخص قیمت ها ۰۴ قیمت خودرو

۲- کدام یک از موارد زیر در مورد درآمد و تولید ملی صحیح است؟

- ۰۱ فعالیت های غیر بازاری نیز در محاسبه تولید ملی وارد می شود
۰۲ روش مخارج یکی از روشهای محاسبه تولید ملی نیست
۰۳ تولید ناخالص ملی رفاه را اندازه گیری می کند
۰۴ درآمد ملی از تولید ناخالص ملی کوچکتر است

۳- سرمایه گذاری شامل کدام یک از اقلام زیر نیست؟

- ۰۱ خرید ماشین آلات و تجهیزات ۰۲ خرید ارز
۰۳ افزایش موجودی انبار ۰۴ ساختمان واحد های مسکونی

۴- کدام یک از اقلام زیر از اجزای تشکیل دهنده تولید ناخالص ملی نیستند؟

- ۰۱ مصرف خصوصی ۰۲ سرمایه گذاری خصوصی
۰۳ مخارج دولتی ۰۴ حجم نقدینگی

۵- با توجه به رابطه مبادله کلاسیک ها برای ثابت نگهداشتن سطح عمومی قیمت ها چه اقدامی باید صورت گیرد؟

- ۰۱ رشد پول از رشد تولید حقیقی حداقل ۲ درصد کمتر باشد
۰۲ رشد پول با رشد تولید اسمی متناسب باشد
۰۳ رشد پول از رشد تولید حقیقی بیشتر باشد
۰۴ رشد پول متناسب با رشد تولید حقیقی باشد

۶- از نظر کلاسیک ها کدامیک از سیاست های زیر باعث افزایش تقاضای کل می شود؟

- ۰۱ افزایش مالیات ۰۲ فروش اوراق قرضه ۰۳ چاپ اسکناس ۰۴ کاهش سرمایه گذاری

۷- کدام گزینه با توجه به تحلیل های کینزی در مدل دویخشی صحیح است؟

- ۰۱ $MPC + MPS = 1$ ۰۲ $S + G = T + I$ ۰۳ $MPS = 1 + MPC$ ۰۴ $MPC = 1 + MPS$

تعداد سوالات: تستی: ۴۰: تشریحی: ۰
زمان آزمون (دقیقه): تستی: ۹۰: تشریحی: ۰
سری سوال: ۱ یک

عنوان درس: اصول علم اقتصاد ۲، اصول علم اقتصاد ۳ (کلان - جهانگردی)، اقتصاد کلان، اقتصاد کلان

رشته تحصیلی/گد فرس: مدیریت بیمه، مدیریت امور بانکی ۱۳۱۸۷۱۲ - مدیریت امور گمرکی ۱۳۱۸۷۹۶ - جهانگردی، مدیریت جهانگردی ۱۳۳۱۰۰۳ - مدیریت دولتی ۱۳۳۱۰۰۶ - حسابداری، مدیریت صنعتی ۱۳۳۱۰۱۲ - حسابداری ۱۳۳۱۰۱۹ - مدیریت بازرگانی ۱۳۳۱۰۲۷ - حسابداری، علوم اقتصادی (نظری)، مدیریت جهانگردی، مدیریت دولتی، مدیریت صنعتی، مدیریت بازرگانی ۱۳۳۱۰۳۲

۸- اگر در یک اقتصاد دو بخشی $C = 40 + 0.9Y$ و $I = 30$ باشد، تولید تعادلی کدام است؟

۱. ۶۷۰ ۲. ۷۰۰ ۳. ۵۴۰ ۴. ۹۰۰

۹- تاثیر کدامیک از عوامل زیر بر مصرف نامعین است؟

۱. درآمد ۲. انتظارات تورمی ۳. ثروت ۴. پس انداز

۱۰- ضریب افزایش مالیات مقطوع در یک الگوی سه بخشی کدام است؟

۱. $MPC / (1 + MPC)$ ۲. MPS / MPC
۳. $-(MPC / (1 - MPC))$ ۴. $-MPS / MPC$

۱۱- افزایش در مخارج دولت چه تاثیری بر منحنی IS دارد؟

۱. باعث انتقال IS به راست می شود
۲. باعث انتقال IS به چپ می شود
۳. روی منحنی IS به سمت بالا حرکت میکنیم
۴. منحنی IS به سمت بیرون میچرخد

۱۲- اگر $I = 100 - 20r$ و $G = 200$ و $C = 50 + 0.75(Y - T)$ و $T = 0.1Y$ باشد کدام گزینه معادله IS را به درستی نشان می دهد؟

۱. $y = 500 - 875r$ ۲. $y = 875 + 500r$ ۳. $y = 875 - 500r$ ۴. $y = 500 + 875r$

۱۳- سیاست پولی انقباضی چه اثری بر منحنی LM دارد؟

۱. حرکت بروی منحنی به سمت پایین
۲. حرکت بروی منحنی به سمت بالا
۳. انتقال منحنی به سمت بالا
۴. انتقال منحنی به سمت پایین

۱۴- کدام گزینه نشان دهنده عملیات بازار باز است؟

۱. خرید و فروش سهام شرکتهای خصوصی در بورس
۲. خرید و فروش سهام شرکتهای دولتی در بورس
۳. خرید و فروش اوراق قرضه دولتی توسط بانک مرکزی
۴. خرید و فروش سهام شرکتهای خصوصی در بازار غیر متشکل

تعداد سوالات: تستی: ۴۰: تشریحی: ۰
زمان آزمون (دقیقه): تستی: ۹۰: تشریحی: ۰
سری سوال: ۱ یک

عنوان درس: اصول علم اقتصاد ۲، اصول علم اقتصاد ۲ (کلان - جهانگردی)، اقتصاد کلان، اقتصاد کلان

رشته تحصیلی/گد فرسی: مدیریت بیمه، مدیریت امور بانکی ۱۳۱۸۷۱۲ - مدیریت امور گمرکی ۱۳۱۸۷۹۶ - جهانگردی، مدیریت جهانگردی ۱۳۳۱۰۰۳ -
مدیریت دولتی ۱۳۳۱۰۰۶ - حسابداری، مدیریت صنعتی ۱۳۳۱۰۱۲ - حسابداری ۱۳۳۱۰۱۹ - مدیریت بازرگانی ۱۳۳۱۰۲۷ -
حسابداری، علوم اقتصادی (نظری)، مدیریت جهانگردی، مدیریت دولتی، مدیریت صنعتی، مدیریت بازرگانی ۱۳۳۱۰۳۲

۱۵- کدام گزینه به ترتیب نشانگر سیاست پولی انبساطی و انقباضی است؟

۱. کاهش نرخ ذخیره قانونی - فروش اوراق بهادار دولتی
۲. افزایش نرخ ذخیره قانونی - کاهش نرخ تنزیل مجدد
۳. فروش اوراق قرضه دولتی - افزایش نرخ تنزیل مجدد کاهش
۴. خرید اوراق بهادار دولتی - کاهش نرخ ذخیره قانونی

۱۶- نرخ ذخیره قانونی چقدر باشد تا با افزایش ذخایر بانکی به میزان ۱۰۰۰۰ واحد مقدار سپرده ها به مقدار ۴۰۰۰۰ واحد افزایش یابد؟

- | | | | |
|------------|------------|------------|------------|
| ۱. ۱۰ درصد | ۲. ۱۵ درصد | ۳. ۲۰ درصد | ۴. ۲۵ درصد |
|------------|------------|------------|------------|

۱۷- ریاست شورای عالی بانکها با چه کسی است؟

- | | | | |
|---------------|----------------|--------------------|------------------|
| ۱. رئیس جمهور | ۲. وزیر اقتصاد | ۳. رئیس بانک مرکزی | ۴. رئیس بانک ملی |
|---------------|----------------|--------------------|------------------|

۱۸- کدام یک از موارد زیر در مورد منحنی فیلیپس صحیح است؟

۱. رابطه منفی میان نرخ بیکاری و تورم را نشان می دهد
۲. رابطه مثبت بین نرخ بیکاری و نرخ تورم را نشان می دهد
۳. رابطه مثبت بین نرخ بیکاری و نرخ رشد اقتصادی را نشان می دهد
۴. رابطه منفی بین نرخ بیکاری و نرخ رشد اقتصادی را نشان می دهد

۱۹- کدام گزینه منطبق بر دیدگاه پول گرایان است؟

۱. در کوتاه مدت فقط عامل طرف عرضه تولید را تغییر می دهد
۲. در کوتاه مدت تغییر در حجم پول می تواند تولید را تغییر دهد
۳. قاعده بودجه متعادل از رشد مخارج دولت جلوگیری نمی کند
۴. سیاست های مالی، ابزار تثبیت موثری می باشند

۲۰- آن بخش از کسر بودجه که حتی اگر اقتصاد در سطح تولید بالقوه فعالیت کند وجود خواهد داشت چه نام دارد؟

- | | |
|----------------------|-----------------------------------|
| ۱. کسر بودجه ساختاری | ۲. کسر بودجه ادواری |
| ۳. کسر بودجه عمومی | ۴. کسر بودجه ناشی از رکود اقتصادی |

تعداد سوالات: تستی: ۴۰: تشریحی: ۰: زمان آزمون (دقیقه): تستی: ۹۰: تشریحی: ۰: سری سوال: ۱ یک

عنوان درس: اصول علم اقتصاد ۲، اصول علم اقتصاد ۳ (کلان - جهانگردی)، اقتصاد کلان، اقتصاد کلان

رشته تحصیلی/گد فرس: مدیریت بیمه، مدیریت امور بانکی ۱۳۱۸۷۱۲ - مدیریت امور گمرکی ۱۳۱۸۷۹۶ - جهانگردی، مدیریت جهانگردی ۱۳۳۱۰۰۳ - مدیریت دولتی ۱۳۳۱۰۰۶ - حسابداری، مدیریت صنعتی ۱۳۳۱۰۱۲ - حسابداری ۱۳۳۱۰۱۹ - مدیریت بازرگانی ۱۳۳۱۰۲۷ - حسابداری، علوم اقتصادی (نظری)، مدیریت جهانگردی، مدیریت دولتی، مدیریت صنعتی، مدیریت بازرگانی ۱۳۳۱۰۳۲

۲۱- شیب منفی تابع تقاضای کل ناشی از چیست؟

۱. اثر جانیشینی ۰.۱
۲. اثر درآمدی ۰.۲
۳. اثر بهره ۰.۳
۴. اثر مطلوبیت ۰.۴

۲۲- اگر سرمایه گذاری در بسیاری از بخش های اقتصاد صورت گیرد تا همه بخش ها به صورت جمعی رشد کنند از چه استراتژی رشدی استفاده شده است؟

۱. استراتژی رشد نامتعادل ۰.۱
۲. استراتژی رشد متعادل ۰.۲
۳. استراتژی توسعه صادرات ۰.۳
۴. استراتژی جایگزینی واردات ۰.۴

۲۳- بر اساس نگرش پیروان کینز سیاست مالی انبساطی و سیاست پولی انقباضی چه پیامدی به همراه خواهد داشت؟

۱. افزایش کسری تجاری یعنی فزونی واردات کالا بر صادرات کالا ۰.۱
۲. افزایش کسری تجاری یعنی فزونی صادرات کالا بر واردات کالا ۰.۲
۳. کاهش کسری تجاری یعنی فزونی واردات کالا بر صادرات ۰.۳
۴. تعادل در تراز تجاری یعنی برابری صادرات و واردات کالا ۰.۴

۲۴- با توجه به اطلاعات داده شده چنانچه دولت همزمان مالیات و مخارج خود را ۱۰۰ واحد افزایش دهد، میزان درآمد ملی تعادلی چه تغییری خواهد داشت؟

$$C = 200 + 0.75Yd \quad I = 500$$

۱. ۱۰۰ واحد کاهش ۰.۱
۲. ۱۰۰ واحد افزایش ۰.۲
۳. بدون تغییر ۰.۳
۴. ۱ واحد افزایش ۰.۴

۲۵- اگر در یک اقتصاد چهار بخشی با مالیات مقطوع میل نهایی به واردات ۰/۱ و میل نهایی به مصرف ۰/۷ باشد، ضریب افزایشی مصرف مستقل چقدر است؟

۱. ۱ ۰.۱
۲. ۲/۵ - ۰.۲
۳. ۲/۵ + ۰.۳
۴. ۵ + ۰.۴

۲۶- با کاهش سطح عمومی قیمت ها کدامیک از موارد زیر رخ خواهد داد؟

۱. عرضه حقیقی پول افزایش و LM به سمت چپ منتقل می شود ۰.۱
۲. عرضه حقیقی پول کاهش و LM به سمت راست منتقل می شود ۰.۲
۳. عرضه حقیقی پول افزایش و LM با تغییر شیب به سمت چپ منتقل می شود ۰.۳
۴. عرضه حقیقی پول افزایش و LM به سمت راست منتقل می شود ۰.۴

تعداد سوالات: تستی: ۴۰ تشریحی: ۰ زمان آزمون (دقیقه): تستی: ۹۰ تشریحی: ۰ سری سوال: ۱ یک

عنوان درس: اصول علم اقتصاد ۲، اصول علم اقتصاد ۲ (کلان - جهانگردی)، اقتصاد کلان، اقتصاد کلان

رشته تحصیلی/گد فرس: مدیریت بیمه، مدیریت امور بانکی ۱۳۱۸۷۱۲ - مدیریت امور گمرکی ۱۳۱۸۷۹۶ - جهانگردی، مدیریت جهانگردی ۱۳۳۱۰۰۳ - مدیریت دولتی ۱۳۳۱۰۰۶ - حسابداری، مدیریت صنعتی ۱۳۳۱۰۱۲ - حسابداری ۱۳۳۱۰۱۹ - مدیریت بازرگانی ۱۳۳۱۰۲۷ - حسابداری، علوم اقتصادی (نظری)، مدیریت جهانگردی، مدیریت دولتی، مدیریت صنعتی، مدیریت بازرگانی ۱۳۳۱۰۳۲

۲۷- در هنگام بروز تورم، وام گیرنده و وام دهنده هر کدام در چه وضعیتی قرار می گیرند؟

۱. وام گیرنده ضرر و وام دهنده منتفع می شود
۲. هر دو منتفع می شوند
۳. وام گیرنده منتفع و وام دهنده متضرر می شود
۴. هر دو متضرر می شوند

۲۸- کدامیک از موارد زیر جز اهداف سیاست های بانک مرکزی نیست؟

۱. حفظ ارزش خارجی پول
۲. کنترل تورم
۳. بهبود رشد اقتصادی
۴. کنترل مخارج دولت

۲۹- با افزایش انتظارات تورمی در جامعه کدامیک از موارد زیر رخ می دهد؟

۱. منحنی عرضه کل به سمت چپ منتقل می شود
۲. منحنی عرضه کل به سمت راست منتقل می شود
۳. منحنی تقاضای کل به سمت چپ منتقل می شود
۴. شیب منحنی تقاضای کل افزایش می یابد.

۳۰- ماریج تورم نشان دهنده چیست؟

۱. خنثی بودن سیاستهای پولی در کوتاه مدت
۲. خنثی بودن سیاستهای پولی در بلند مدت
۳. خنثی بودن سیاستهای مالی در بلند مدت
۴. خنثی بودن سیاستهای مالی در کوتاه مدت

۳۱- پیروان کدام مکتب اقتصادی از اصلی ترین منتقدان استراتژی هدف قرار دادن اعتبارات هستند؟

۱. کلاسیک ها
۲. کلاسیک های جدید
۳. کینزین ها
۴. پول گرایان

۳۲- با بهبود گردش اطلاعات در بازار کار و همچنین سرعت کارایی کدام نوع از بیکاری کاهش می یابد؟

۱. ساختاری
۲. اصطکاکی
۳. پنهان
۴. ادواری

۳۳- اگر ارتباط بین حجم پول و تولید ملی حقیقی بی ثبات باشد، کدامیک از استراتژی های زیر مطلوبتر است؟

۱. استراتژی انتظارات منطقی
۲. استراتژی هدف قرار دادن واردات
۳. استراتژی هدف قرار دادن نرخ بهره
۴. استراتژی هدف قرار دادن عرضه پول

۳۴- کدامیک از موارد زیر از جمله هزینه های تورم محسوب نمی شود؟

۱. عدم کارایی اقتصادی
۲. فشار های اجتماعی
۳. نرخ بیکاری
۴. توزیع درآمد

تعداد سوالات: تستی: ۴۰؛ تشریحی: ۰. زمان آزمون (دقیقه): تستی: ۹۰؛ تشریحی: ۰. سری سوال: ۱ یک

عنوان درس: اصول علم اقتصاد ۲، اصول علم اقتصاد ۳ (کلان - جهانگردی)، اقتصاد کلان، اقتصاد کلان

رشته تحصیلی/گد فرس: مدیریت بیمه، مدیریت امور بانکی ۱۳۱۸۷۱۲ - مدیریت امور گمرکی ۱۳۱۸۷۹۶ - جهانگردی، مدیریت جهانگردی ۱۳۳۱۰۰۳ - مدیریت دولتی ۱۳۳۱۰۰۶ - حسابداری، مدیریت صنعتی ۱۳۳۱۰۱۲ - حسابداری ۱۳۳۱۰۱۹ - مدیریت بازرگانی ۱۳۳۱۰۲۷ - حسابداری، علوم اقتصادی (نظری)، مدیریت جهانگردی، مدیریت دولتی، مدیریت صنعتی، مدیریت بازرگانی ۱۳۳۱۰۳۲

۳۵- کدام یک از ابزار های زیر از جمله ابزار های سیاستی پولی توسط بانک مرکزی نیست؟

۱. سیاستهای مالیاتی
۲. عملیات بازار باز
۳. تغییر در نرخ ذخیره قانونی
۴. نرخ تنزیل مجدد

۳۶- منحنی تقاضای کل کلاسیک از کدام یک از موارد زیر استخراج می شود؟

۱. تقاضای سفته بازی پول
۲. مطلوبیت
۳. بازار کار
۴. تقاضای معاملاتی پول

۳۷- اگر میل نهایی به پس انداز برابر با $0/۲۵$ و تابع مالیات به صورت $y = ۰/۲T$ باشد ضریب افزایش مخارج دولت چه مقدار است؟

۱. $۳/۵$
۲. $۲/۵$
۳. $۱/۵$
۴. ۱

۳۸- تعریف منحنی IS کدام است؟

۱. مکان هندسی ترکیباتی از نرخ بهره و درآمد ملی که بازار پول را به تعادل می رساند
۲. مکان هندسی ترکیباتی از نرخ بهره و درآمد ملی که تراز تجاری را به تعادل می رساند
۳. مکان هندسی ترکیباتی از نرخ بهره و درآمد ملی که بازار ارز را به تعادل می رساند
۴. مکان هندسی ترکیباتی از نرخ بهره و درآمد ملی که بازار کالا را به تعادل می رساند

۳۹- منحنی عرضه مطابق دیدگاه مکتب کلاسیک به چه صورت می باشد؟

۱. افقی
۲. صعودی
۳. نزولی
۴. عمودی

۴۰- در الگوی کلاسیک های جدید سیاست های اقتصادی چه اهدافی را دنبال می کنند؟

۱. نرخ های رشد بالا و بی ثبات
۲. نرخ های تورم پایین و شناور
۳. نرخ های تورم پایین و با ثبات
۴. نرخ های تورم و بیکاری صفر

شماره سوال	الف	ب	ج	د	پاسخ صحیح	وضعیت کلید
١	X				د	عادی
٢		X			د	عادی
٣		X			ب	عادی
٤				X	د	عادی
٥				X	د	عادی
٦		X			ج	عادی
٧	X				الف	عادی
٨				X	ب	عادی
٩		X			ب	عادی
١٠		X			ج	عادی
١١		X			الف	عادی
١٢			X		ج	عادی
١٣	X				ج	عادی
١٤		X			ج	عادی
١٥	X				الف	عادی
١٦		X			د	عادی
١٧			X		ج	عادی
١٨	X				الف	عادی
١٩				X	ب	عادی
٢٠	X				الف	عادی
٢١			X		ج	عادی
٢٢		X			ب	عادی
٢٣			X		الف	عادی
٢٤	X				ب	عادی
٢٥			X		ج	عادی
٢٦	X				د	عادی
٢٧				X	ج	عادی
٢٨				X	د	عادی
٢٩			X		الف	عادی
٣٠	X				ب	عادی
٣١	X				د	عادی
٣٢		X			ب	عادی
٣٣				X	ج	عادی
٣٤		X			ج	عادی
٣٥	X				الف	عادی
٣٦			X		د	عادی
٣٧				X	ب	عادی
٣٨	X				د	عادی
٣٩				X	د	عادی
٤٠				X	ج	عادی

98-1

تعداد سوالات: تستی: ۴۰ تشریحی: ۰ زمان آزمون (دقیقه): تستی: ۹۰ تشریحی: ۰ سری سوال: یک ۱

عنوان درس: اصول علم اقتصاد ۲، اصول علم اقتصاد ۳ (کلان - جهانگردی)، اقتصاد کلان، اقتصاد کلان

رشته تحصیلی/گد فرس: مدیریت بیمه، مدیریت امور بانکی ۱۳۱۸۷۱۲ - مدیریت امور گمرکی ۱۳۱۸۷۹۶ - مدیریت ۱۳۱۸۸۹۷ - جهانگردی، مدیریت جهانگردی ۱۳۲۱۰۰۳ - مدیریت دولتی ۱۳۲۱۰۰۶ - مدیریت صنعتی، حسابداری ۱۳۲۱۰۱۲ - حسابداری ۱۳۲۱۰۱۹ - مدیریت بازرگانی ۱۳۲۱۰۲۷ - مدیریت جهانگردی، مدیریت دولتی، مدیریت صنعتی، مدیریت بازرگانی، حسابداری، علوم اقتصادی (نظری) ۱۳۲۱۰۳۲

۱- کدام مورد فرایند انتخاب را در سطح یک کشور بررسی می کند؟

۱. اقتصاد هنجاری ۲. اقتصاد خرد ۳. اقتصاد کلان ۴. اقتصاد مالی

۲- کدام متغیر از نوع متغیرهای ثابت است؟

۱. درآمد ملی ۲. ثروت ۳. تولید ملی ۴. تورم

۳- مجموعه کالاها و خدمات نهایی تولید شده در دوره جاری چه نامیده می شود؟

۱. ارزش افزوده ۲. تولید ناخالص ملی ۳. صادرات ۴. تولید نهایی

۴- کدامیک از موارد زیر از عوامل موثر بر مصرف و پس انداز نیست؟

۱. درآمد ۲. ثروت ۳. انتظارات تورمی ۴. مخارج دولت

۵- کدام مورد از اجزای تولید ناخالص ملی است؟

۱. صادرات ۲. بهره ۳. قیمت ۴. واردات

۶- افزایش کدام مورد بر تولید ناخالص ملی اثر منفی دارد؟

۱. سرمایه گذاری ۲. صادرات ۳. مخارج دولتی ۴. واردات

۷- اگر تولید ناخالص ملی ۱۰۰۰ واحد باشد، استهلاک ۵۰ واحد و مالیاتهای غیر مستقیم نیز ۱۰۰ واحد باشد، درآمد ملی چقدر است؟

۱. ۱۱۵۰ ۲. ۹۵۰ ۳. ۸۵۰ ۴. ۱۰۵۰

۸- اگر از درآمد فردی، مالیات مستقیم کم شود چه چیز به دست می آید؟

۱. درآمد ملی ۲. درآمد خالص ۳. درآمد قابل تصرف ۴. تولید خالص ملی

۹- کدام مورد جزء پرداخت انتقالی است؟

۱. کمک بلاعوض دولت به مردم ۲. حقوق کارمندان دولت
۳. بهره پرداختی به افراد ۴. سود تقسیم شده شرکت

۱۰- درآمد سرانه از تقسیم درآمد ملی بر کدام عامل به دست می آید؟

۱. قیمت ۲. مالیات ۳. استهلاک ۴. جمعیت



سری سوال: ۱ یک

زمان آزمون (دقیقه): تستی: ۹۰ تشریحی: ۰

تعداد سوالات: تستی: ۴۰ تشریحی: ۰

عنوان درس: اصول علم اقتصاد ۲، اصول علم اقتصاد ۲ (کلان - جهانگردی)، اقتصاد کلان، اقتصاد کلان

رشته تحصیلی/گد فرس: مدیریت بیمه، مدیریت امور بانکی ۱۲۱۸۷۱۲ - مدیریت امور گمرکی ۱۲۱۸۷۹۶ - مدیریت ۱۲۱۸۸۹۷ - جهانگردی، مدیریت جهانگردی ۱۲۲۱۰۰۳ - مدیریت دولتی ۱۲۲۱۰۰۶ - مدیریت صنعتی، حسابداری ۱۲۲۱۰۱۲ - حسابداری ۱۲۲۱۰۱۹ - مدیریت بازرگانی ۱۲۲۱۰۲۷ - مدیریت جهانگردی، مدیریت دولتی، مدیریت صنعتی، مدیریت بازرگانی، حسابداری، علوم اقتصادی (نظری) ۱۲۲۱۰۳۲

۱۱- کدام مورد در محاسبه تولید ناخالص ملی در نظر گرفته می شود؟

۱. خرید و فروش یک کالای واسطه ای
۲. خرید و فروش یک اتومبیل دست دوم
۳. تولید یک محصول کشاورزی جهت خودمصرفی
۴. خرید و فروش یک صندلی

۱۲- کدام روش جز روش های محاسبه درآمد ملی نیست؟

۱. روش درآمد
۲. روش تولید
۳. روش مخارج
۴. روش سرمایه گذاری

۱۳- عرضه کل کلاسیکی چگونه است؟

۱. صعودی
۲. نزولی
۳. عمودی
۴. افقی

۱۴- با افزایش تقاضای کل در یک مدل کلاسیکی چه اتفاقی می افتد؟

۱. تولید تعادلی تغییر نمی کند
۲. تولید تعادلی کم می شود
۳. تولید تعادلی زیاد می شود
۴. قیمت تعادلی کم می شود

۱۵- در تابع مصرف $C = 100 + 0.8y$ میل نهایی به مصرف چقدر است؟

۱. ۱۰۰
۲. ۰.۸
۳. ۰.۲
۴. ۸۰

۱۶- در تابع مصرف $C = 200 + 0.8y$ میل نهایی به پس انداز چقدر است؟

۱. ۲۰۰
۲. ۰.۸
۳. ۰.۲
۴. ۱۶۰

۱۷- در تابع پس انداز $S = -100 + 0.8y$ مقدار صد نشان دهنده چیست؟

۱. MPS
۲. MPC
۳. APS
۴. پس انداز مستقل

۱۸- در رویکرد تعادل از طریق برابری جریان هرز و تزریق، سرمایه گذاری باید با کدام مورد برابر باشد؟

۱. مصرف
۲. پس انداز
۳. درآمد
۴. تقاضا

۱۹- اگر تولید بر تقاضا پیشی بگیرد کدام حالت رخ می دهد؟

۱. کاهش موجودی انبار
۲. افزایش موجودی انبار
۳. ثبات موجودی انبار
۴. بستگی به سطح تعادل دارد



تعداد سوالات: تستی: ۴۰؛ تشریحی: ۰. زمان آزمون (دقیقه): تستی: ۹۰؛ تشریحی: ۰. سری سوال: ۱ یک

عنوان درس: اصول علم اقتصاد ۲، اصول علم اقتصاد ۳ (کلان - جهانگردی)، اقتصاد کلان، اقتصاد کلان رشته تحصیلی/گد فرس: مدیریت بیمه، مدیریت امور بانکی ۱۳۱۸۷۱۲ - مدیریت امور گمرکی ۱۳۱۸۷۹۶ - مدیریت ۱۳۱۸۸۹۷ - جهانگردی، مدیریت جهانگردی ۱۳۲۱۰۰۳ - مدیریت دولتی ۱۳۲۱۰۰۶ - مدیریت صنعتی، حسابداری ۱۳۲۱۰۱۲ - حسابداری ۱۳۲۱۰۱۹ - مدیریت بازرگانی ۱۳۲۱۰۲۷ - مدیریت جهانگردی، مدیریت دولتی، مدیریت صنعتی، مدیریت بازرگانی، حسابداری، علوم اقتصادی (نظری) ۱۳۲۱۰۳۲

۲۰- میل نهایی به مصرف در چه مقداری باید قرار بگیرد؟

۱. بزرگتر از یک ۲. بزرگتر از منفی یک ۳. بین صفر و یک ۴. برابر با یک

۲۱- اگر سرعت گردش پول ۲۰ واحد، سطح قیمت ها ۵ واحد و تولید یا درآمد حقیقی ۲۰ واحد باشد، حجم پول چقدر خواهد بود؟

۱. ۱۰۰ ۲. ۲۰ ۳. ۵ ۴. ۱۰

۲۲- دولت با کدام روش می تواند مخارج خود را تامین مالی کند؟

۱. افزایش درآمد ۲. افزایش پس انداز ۳. افزایش مالیات ۴. افزایش سرمایه گذاری

۲۳- کدام یک از موارد زیر نشان دهنده سیاست مالی است؟

۱. تغییر در حجم پول ۲. تغییر در سرمایه گذاری
۳. تغییر در مخارج دولت ۴. تغییر در پس انداز

۲۴- ضریب افزایش مخارج دولت در مدل سه بخشی و با وجود مالیات یکجا کدام است؟

۱. $\frac{1}{1-b}$ ۲. $\frac{b}{1-b}$ ۳. $\frac{b}{1-b}$ ۴. b

۲۵- در صورت افزایش مالیات کدام سیاست اعمال شده است؟

۱. سیاست مالی انبساطی ۲. مالی انقباضی
۳. پولی انبساطی ۴. پولی انقباضی

۲۶- در یک مدل سه بخشی با فرض مالیات یکجا و فرض بودجه متوازن، تغییر ده واحدی در G درآمد ملی چقدر تغییر می کند؟

۱. ۵ ۲. ۲۵ ۳. -۱۰ ۴. ۱۰

۲۷- منحنی تقاضای کار در مقابل دستمزد واقعی چگونه است؟

۱. صعودی ۲. افقی ۳. نزولی ۴. عمودی

تعداد سوالات: تستی: ۴۰: تشریحی: ۰
زمان آزمون (دقیقه): تستی: ۹۰: تشریحی: ۰
سری سوال: ۱ یک

عنوان درس: اصول علم اقتصاد ۲، اصول علم اقتصاد ۲ (کلان - جهانگردی)، اقتصاد کلان، اقتصاد کلان
رشته تحصیلی/گد فرس: مدیریت بیمه، مدیریت امور بانکی ۱۳۱۸۷۱۲ - مدیریت امور گمرکی ۱۳۱۸۷۹۶ - مدیریت ۱۳۱۸۸۹۷ - جهانگردی، مدیریت جهانگردی ۱۳۲۱۰۰۳ - مدیریت دولتی ۱۳۲۱۰۰۶ - مدیریت صنعتی، حسابداری ۱۳۲۱۰۱۲ - حسابداری ۱۳۲۱۰۱۹ - مدیریت بازرگانی ۱۳۲۱۰۲۷ - مدیریت جهانگردی، مدیریت دولتی، مدیریت صنعتی، مدیریت بازرگانی، حسابداری، علوم اقتصادی (نظری) ۱۳۲۱۰۳۲

۲۸- در صورت افزایش نرخ بهره سرمایه گذاری چه تغییری خواهد کرد؟

۱. افزایش می یابد
۲. کاهش می یابد
۳. بدون تغییر
۴. بستگی به سطح تولید دارد

۲۹- کدام یک از موارد زیر از وظایف پول نیست؟

۱. وسیله مبادله
۲. وسیله سرمایه گذاری
۳. واحد حساب
۴. وسیله ذخیره ارزش

۳۰- با افزایش عرضه پول نرخ بهره چه تغییری می کند؟

۱. کاهش می یابد
۲. افزایش می یابد
۳. می تواند کاهش یا افزایش داشته باشد
۴. ثابت می ماند

۳۱- افزایش تولید چه اثری بر نرخ بهره دارد؟

۱. آن را افزایش می دهد
۲. کاهش می دهد
۳. تاثیری ندارد
۴. بستگی به نرخ بهره دارد

۳۲- کدام عامل منحنی LM را به سمت راست منتقل می کند؟

۱. افزایش نرخ بهره
۲. افزایش پس انداز
۳. افزایش حجم پول
۴. افزایش مخارج دولت

۳۳- کدام یک از موارد زیر قدیمی ترین وظیفه بانک های تجاری یا بازرگانی است؟

۱. بانک دولت
۲. وام به بانک های دیگر
۳. پذیرش سپرده
۴. انتشار اسکناس

۳۴- بیکاری حاصل از نوسانات اقتصادی چه نامیده می شود؟

۱. فصلی
۲. اصطکاکی
۳. ادواری
۴. طبیعی

۳۵- اگر شاخص قیمت سال گذشته ۱۲۰ و شاخص قیمت امسال ۱۵۰ واحد باشد، نرخ تورم چقدر است؟

۱. ۵۰ درصد
۲. ۲۵ درصد
۳. ۳۰ درصد
۴. ۳۵ درصد

۳۶- افزایش درآمد چه اثری بر پس انداز دارد؟

۱. آن را افزایش می دهد
۲. آن را کاهش می دهد
۳. بی ارتباط
۴. بستگی به سرمایه گذاری دارد

تعداد سوالات: تستی: ۴۰؛ تشریحی: ۰. زمان آزمون (دقیقه): تستی: ۹۰؛ تشریحی: ۰. سری سوال: ۱ یک

عنوان درس: اصول علم اقتصاد ۲، اصول علم اقتصاد ۳ (کلان - جهانگردی)، اقتصاد کلان، اقتصاد کلان

رشته تحصیلی/گد فرس: مدیریت بیمه، مدیریت امور بانکی ۱۳۱۸۷۱۲ - مدیریت امور گمرکی ۱۳۱۸۷۹۶ - مدیریت ۱۳۱۸۸۹۷ - جهانگردی، مدیریت جهانگردی ۱۳۲۱۰۰۳ - مدیریت دولتی ۱۳۲۱۰۰۶ - مدیریت صنعتی، حسابداری ۱۳۲۱۰۱۲ - حسابداری ۱۳۲۱۰۱۹ - مدیریت بازرگانی ۱۳۲۱۰۲۷ - مدیریت جهانگردی، مدیریت دولتی، مدیریت صنعتی، مدیریت بازرگانی، حسابداری، علوم اقتصادی (نظری ۱۳۲۱۰۳۲)

۳۷- با افزایش سرمایه گذاری، تولید ملی تعادلی چه تغییری می کند؟

۱. افزایش می یابد
۲. کاهش می یابد
۳. بستگی به نرخ بهره دارد
۴. ثابت می ماند

۳۸- افزایش در مالیات تولید تعادلی را چگونه تغییر می دهد؟

۱. آن را افزایش می دهد
۲. آن را کاهش می دهد
۳. بر آن تاثیری ندارد
۴. بستگی به ضریب افزایش دارد که کاهش یا افزایش یابد

۳۹- بنیان گذار مکتب پول گرایان کیست؟

۱. اسمیت
۲. کینز
۳. لوکاس
۴. فریدمن

۴۰- تغییر در و ناشی از تغییر در شرایط اقتصاد به شکل یک تثبیت کننده خودکار عمل می کند.

۱. مالیاتها - پرداختهای انتقالی
۲. مصزف - سرمایه گذاری
۳. مخارج دولت - پس انداز
۴. مصرف - پس انداز